

تم تحميل هذا الملف من موقع المناهج القطرية



*للحصول على أوراق عمل لجميع الصفوف وجميع المواد اضغط هنا

<https://almanahj.com/qa>

* للحصول على أوراق عمل لجميع مواد المستوى الأول اضغط هنا

<https://almanahj.com/qa/1>

* للحصول على جميع أوراق المستوى الأول في مادة رياضيات ولجميع الفصول. اضغط هنا

<https://almanahj.com/qa/1>

* للحصول على أوراق عمل لجميع مواد المستوى الأول في مادة رياضيات الخاصة بـ اضغط هنا

<https://almanahj.com/qa/1>

* لتحميل كتب جميع المواد في جميع الفصول للمستوى الأول اضغط هنا

<https://almanahj.com/qa/grade1>

للتحدث إلى بوت على تلغرام: اضغط هنا

https://t.me/qacourse_bot




تدريبات إثرائية
مادة الرياضيات
الصف الأول الابتدائي

almanahj.com/qa
المنهاج القطرية




الوحدة الثالثة
الطلاقة في جمع وطرح الأعداد حتى
10



تعليمات
اختر الإجابة الصحيحة لكل من الأسئلة من 1 إلى 6 ، وذلك بوضع علامة X داخل المربع
المجاور للإجابة الصحيحة:

		السؤال رقم (1)
		أي جملة جمع لها نفس ناتج جمع $4 + 1$
<input type="checkbox"/>	A	$3 + 1$
<input type="checkbox"/>	B	$2 + 4$
<input type="checkbox"/>	C	$1 + 4$

		السؤال رقم (2)
		لدى ريم 2 من السلال . لديها العدد نفسه من الأقلام في كل سلة . إذا كان ما لدى ريم هو 8 أقلام ، فما عدد الأقلام في السلة الواحدة ؟
		
<input type="checkbox"/>	A	3
<input type="checkbox"/>	B	4
<input type="checkbox"/>	C	5

		السؤال رقم (3)
		ما ناتج الجمع بالعد صاعداً $8+2$ ؟
<input type="checkbox"/>	A	8
<input type="checkbox"/>	B	9
<input type="checkbox"/>	C	10
		السؤال رقم (4)

أي حقيقة ضعف تمثل المكعبات التي أمامك ؟



A $3 + 3 = 6$

B $4 + 4 = 8$

C $5 + 5 = 10$

السؤال رقم (5)

ما العدد المفقود في المسألة التالية $4 = 2 + \dots$ ؟

almanahj.com/qa

المنهج القطرية

A 2

B 3

C 4

السؤال رقم (6)

لدى بدر 10 بطاقات . أعطى 2 منها لأصدقائه . ما عدد البطاقات الباقية لدى بدر ؟

A 8

B 6

C 4

السؤال رقم (7)

ما العدد المضاف المفقود ؟

$9 = ? + 2$

$9 = 2 + ?$

A 6

B 5

C 4

(أ) أكتب جملة جمع لكل ضعف مما يلي :



(أ)

$$\begin{array}{r} \square \\ + \\ \square \\ \hline \square \end{array}$$



(ب)

$$\begin{array}{r} \square \\ + \\ \square \\ \hline \square \end{array}$$

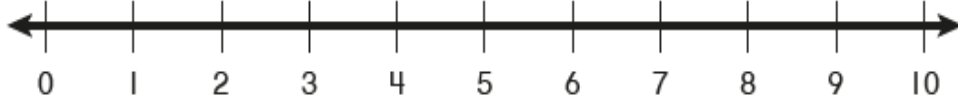
$$\begin{array}{r} 0 \\ + 0 \\ \hline \square \end{array}$$

(ج)

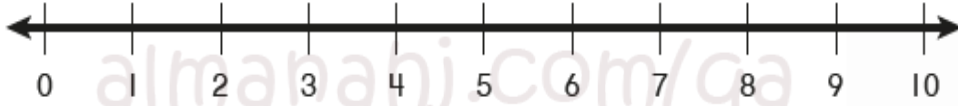
(د) تعني منى وعليها 6 أزهار . تعني منى ب 3 أزهار .
ما عدد الأزهار التي تعني بها علياء ؟

$$\underline{\quad} + \underline{\quad} = \underline{\quad}$$

(أ) عد صاعداً لأجد ناتج الجمع باستخدام خط الأعداد :



$$2 + 7 = \text{-----}$$



$$4 + 3 = \text{-----}$$

(ب) عد صاعداً ثم اوجد ناتج الجمع :



5, _____, _____, _____

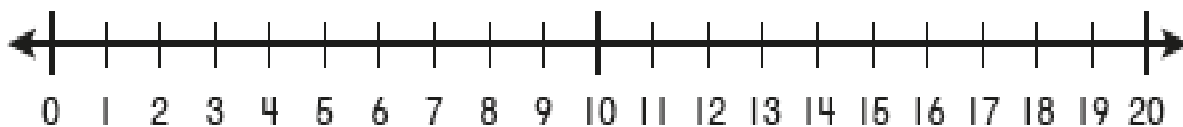
$$5 + 3 = \text{_____}$$

(ج) لدى دانة 8 خبّات من العنب.
أعطتها أختها 2 من خبّات العنب.
ما عدّد خبّات العنب لدى دانة الآن؟

$$\text{_____} + \text{_____} = \text{_____}$$

لدى دانة _____ خبّات من العنب.

(ب) عد نازلاً لأجد ناتج الطرح باستخدام خط الأعداد :



$$7 - 6 = \text{-----}$$



$$9 - 5 = \text{-----}$$

(ب) في سلة فاتن 9 تفاحات . أكلت منها 2 تفاحة . كم تفاحة بقيت في سلتها ؟



$$\text{-----} - \text{-----} = \text{-----}$$

(ج) اختار محمد عدداً . يقل العدد الذي اختاره بمقدار 3 عن العدد 8 ,
ما العدد الذي اختاره محمد ؟

$$\text{-----} - \text{-----} = \text{-----}$$

(ب) اكتب ناتج الجمع أغير ترتيب الأعداد المضافة :

$$7 - 1 = \text{-----}$$

$$\text{---} + \text{---} = \text{---}$$

$$2 + 5 = \text{-----}$$

almanahj.com/qa

(ب) استعمل الأعداد لكتابة جملي الجمع : المنهج القطرية

3

8

5

$$\text{---} + \text{---} = \text{---}$$

$$\text{---} + \text{---} = \text{---}$$

(ج) أكتب جملي الجمع :



$$\text{---} + \text{---} = \text{---}$$

$$\text{---} + \text{---} = \text{---}$$