

شكراً لتحميلك هذا الملف من موقع المناهج القطرية



اختبار منتصف الفصل غير مجاب مدرسة مريم بنت عمران

[موقع المناهج](#) ← [المناهج القطرية](#) ← [المستوى الأول](#) ← [علوم](#) ← [الفصل الثاني](#) ← [الملف](#)

تاريخ نشر الملف على موقع المناهج: 10-01-2024 14:42:32 | اسم المدرس: مدرسة مريم بنت عمران

التواصل الاجتماعي بحسب المستوى الأول



روابط مواد المستوى الأول على تلغرام

[الرياضيات](#)

[اللغة الانجليزية](#)

[اللغة العربية](#)

[التربية الاسلامية](#)

المزيد من الملفات بحسب المستوى الأول والمادة علوم في الفصل الثاني

[اختبار محاب في الوحدة الرابعة الطعام الطازج](#)

1

[اختبار اثرائي اختيار من متعدد مدرسة أم العمد](#)

2

[أوراق عمل اثرائية الفرقان منتصف الفصل مع الإجابة النموذجية](#)

3

[اوراق عمل منتصف الفصل مدرسة الأندلس مع الإجابة النموذجية](#)

4

[اوراق عمل منتصف الفصل مدرسة الأندلس غير مجابة](#)

5

الوحدة الرابعة: الطعام الطازج

اسم الطالبة: الصف الأول:

السؤال الأول : اختر الإجابة الصحيحة مما يلي .

أي الأطعمة التالية طعاما طازجا ؟		1
	A	
	B	
	C	

الأطعمة الطازجة هي الأطعمة المحفوظة على ----- و----- و----- ولم تفسد.		2
لونها ولمسها ورائحتها.	A	
لونها ولمسها.	B	
لونها ورائحتها .	C	

أي من هذه الأطعمة نمت عليه العفن؟		3
	A	
	B	
	C	

ماذا يحدث إذا تناولت طعاما فاسدا؟		4
يمنحني الكثير من الطاقة	A	
يسبب لي تسمم غذائي	B	
يساعدني على النمو	C	

كيف يمكن أن يبقى الطعام طازجا لمدة أطول؟		5
عن طريق تغليف الطعام وتبريده .	A	
حفظه في مكان حار .	B	
تركه متسخ .	C	

التنظيف والتغليظ والتبريد من الطرق التي		6
تفسد الطعام.	<input type="checkbox"/> A	
تسرع نمو العفن .	<input type="checkbox"/> B	
تبقى الأطعمة طازجة لمدة أطول .	<input type="checkbox"/> C	

كيف يمكن تجنب التسمم الغذائي؟		7
أتناول طعاما فاسدا .	<input type="checkbox"/> A	
أتناول طعاما مكشوفاً.	<input type="checkbox"/> B	
أأكد من غسل الأطعمة الطازجة جيداً قبل تناولها.	<input type="checkbox"/> C	

ما الأطعمة التي تسبب التسمم الغذائي عند تناولها ؟		8
الأطعمة الطازجة .	<input type="checkbox"/> A	
الأطعمة المعلبة .	<input type="checkbox"/> B	
الأطعمة المتعفنة .	<input type="checkbox"/> C	

من أعراض التسمم الغذائي؟		9
النشاط	<input type="checkbox"/> A	
النوم	<input type="checkbox"/> B	
ألم في البطن	<input type="checkbox"/> C	

أي من هذه الأطعمة يجب أن يحفظ في الثلاجة؟	10
	A
	B
	C

ما اسم طريقة حفظ الطعام المبينة في الصورة أدناه؟	11
	A
التعليب	B
التجفيف	C
التخليل	

كيف يمكن إبقاء الطعام طازجا لمدة أطول في الثلاجة؟		12
وضعه متنسخ	A	
تغليفه	B	
تقطيعه	C	

ما الجهاز الكهربائي الذي يبقي الطعام طازجا ؟		13
. الفرن .	A	
. الغسالة .	B	
. الثلاجة .	C	

السؤال الثاني : صلي بين العبارة والصورة الصحيحة.

صل ما في العمود (1) بما يناسبه من العمود (2).



1- يسبب التسمم الغذائي



2- تخليل



3- طعام طازج .



4- يبقى الطعام طازجا لمدة اطول

السؤال الثالث : ضع علامة (√) أمام العبارة الصحيحة و علامة (x) أمام العبارة الخطأ.

ضع علامة (√) أمام العبارة الصحيحة و علامة (x) أمام العبارة الخطأ.

- 1- الأطعمة الطازجة رائحتها كريهة . ()
- 2- يمكن تصنيف الأطعمة إلى أطعمة طازجة وأطعمة غير طازجة . ()
- 3- ينمو العفن على الفاكهة الطازجة إذا تركت مدة من الزمن . ()
- 4- عندما يفسد الحليب يبقى لونه ابيض . ()
- 5- غسل وتغليف وتبريد الطعام يبقيه طازجا لمدة أطول . ()
- 6- نغسل الأطعمة الطازجة قبل تناولها كي نتجنب التسمم الغذائي . ()
- 7- يؤدي تناول الأطعمة الطازجة إلى الإصابة بالتسمم . ()
- 8- يسبب التسمم الغذائي المرض والإسهال ووجع البطن . ()
- 9- أتأكد من أن الطعام مطهو جيدا قبل تناوله . ()
- 10- يبقى الطعام طازجا لمدة أطول في الثلاجة إذا كان مغلفا . ()
- 11- أتناول طعاما مكشوفاً . ()

السؤال الرابع: اكمل الفراغ.

أكتبى الكلمة المناسبة في الفراغ (استعيني بصندوق الكلمات)

تجفيف	تجميد	تعليب
-------	-------	-------

- أ. يمكن الطعام لحفظه مدة أطول من الطعام غير المجمد .
ب. يساعد على المحافظة على الطعام عبر إزالة بعض السائل منه .

السؤال الخامس: اجب عن الأسئلة التالية.

أ. الأطعمة هي الأطعمة المحافضة على لونها و ملمسها ورائحتها .

ب. ينمو على الفاكهة الطازجة إذا تركت مدة من الزمن .

ج. الطعام عندما يوضع في مكان حار .

د. تنظيف الطعام وتغليفه و يقيه طازجا لمدة أطول .

هـ. تناول الأطعمة المتعفنة يسبب

ز. طريقة حفظ الطعام التي تستخدم الماء والملح والخل هي

ح. يساعد على المحافظة على الطعام عبر إزالة بعض السوائل منه .

خ. عندما يفسد الحليب يصبح رائحته

ملاحظه: الكتاب هو الأساس في الدراسة قبل حل هذه الأوراق


بالتوفيق لجميع الطالبات


الوحدة الخامسة : استخدام المواد

اسم الطالبة : الصف الأول :

السؤال الأول : اختر الإجابة الصحيحة مما يلي .

ما الخاصية المناسبة للحجر في الصورة التالية ؟		1
		
ناعم	<input type="checkbox"/> A	
لين	<input type="checkbox"/> B	
خشن	<input type="checkbox"/> C	

تتميز لعبة الدب بأن ملمسها ؟		2
		
قاسي	<input type="checkbox"/> A	
طري	<input type="checkbox"/> B	
خشن	<input type="checkbox"/> C	

	<p>ما الخاصية التي تصف قطعة النقود المعدنية في الماء ؟</p>	<div style="background-color: red; color: white; padding: 5px; width: 30px; margin: 0 auto;">3</div>
	<p>تطفو</p>	<input type="checkbox"/> A
	<p>تغوص</p>	<input type="checkbox"/> B
	<p>طرية</p>	<input type="checkbox"/> C


<p>ما المادة المناسبة لصنع النافذة ؟</p>	<div style="background-color: red; color: white; padding: 5px; width: 30px; margin: 0 auto;">4</div>
<p>مادة معتمة</p>	<input type="checkbox"/> A
<p>مادة شفافة</p>	<input type="checkbox"/> B
<p>مادة باهته</p>	<input type="checkbox"/> C

<p>ما خاصية المادة التي صنعت منها الجره ؟</p>	<div style="background-color: red; color: white; padding: 5px; width: 30px; margin: 0 auto;">5</div>
<p>لامعة</p>	<input type="checkbox"/> A
<p>شفافة</p>	<input type="checkbox"/> B
<p>معتمة</p>	<input type="checkbox"/> C

ما المادة التي لا تسمح بمرور الضوء من خلالها؟		6
الشفافة	A	
المعتمة	B	
تطفو	C	

ما المادة المناسبة لبناء المباني والجسور؟		7
القماش	A	
المعدن	B	
البلاستيك	C	

ما المادة التي لا تستخدم لصنع الباب؟		8
الزجاج	A	
المطاط	B	
الخشب	C	

ما ملمس قطعة الخشب ؟		9
		
ناعم	A	
خشن	B	
طري	C	

أي مما يلي ملمسه طري ؟		10
		
	A	
		
	B	
		
	C	

السؤال الثاني :

أ. ارسمي دائرة حول الكلمة الصحيحة .



ب. صنفي الأشياء بحسب المادة التي صنعت منها .



بلاستيك	معدن	خشب

السؤال الثالث : أكمل الفراغ .

أكتبى الكلمة المناسبة فى الفراغ (استعنى بصندوق الكلمات)

خَشَبٌ قَمَاشٌ زُجَاجٌ مَعْدِنٌ مَطَاطٌ وَرَقٌ



السؤال الرابع : ضع علامة (√) أمام العبارة الصحيحة و علامة (x) أمام العبارة الخطأ.

ضع علامة (√) أمام العبارة الصحيحة و علامة (x) أمام العبارة الخطأ.

- 1- بعض المواد تطفو فوق سطح الماء . (.....)
- 2- المعدن مادة طرية لذلك نصنع منه الجسور . (.....)
- 3- يمكن للأشياء اللامعة أن تعكس الضوء . (.....)
- 4- نستطيع أن نرى من خلال المواد المعتمه . (.....)
- 5- يستخدم الخشب لصنع الأبواب والأثاث. (.....)
- 6- تصنع النوافذ من الزجاج لانه شفاف . (.....)
- 7- تصنع لعب الأطفال من الزجاج . (.....)
- 8- يمكن تصنيف الأشياء في مجموعات بحسب المادة التي صنعت منها . (.....)
- 9- لا يمكن أن نستخدم المادة نفسها لصنع أشياء مختلفة . (.....)

السؤال الخامس: اجب عن الأسئلة التالية:

أ. أذكر اسم مادة شائعة مناسبة لصنع لعب الأطفال.

.....

ب. لماذا يستخدم المعدن لبناء المباني والجسور؟

.....

ج. القماش مناسب لصنع السجاد لأنه

د. الخشب غير مناسب لصنع اللحاف لأنه

هـ. ما المادة المناسبة لصنع النافذة؟

.....

و. بعض المواد باهته وبعضها

ز. يمكن للمواد أن تكون شفافة أو

.....

ح. المادة تجعلها مناسبة لبعض الاستخدامات وغير مناسبة لاستخدامات أخرى.

ط. يمكننا تحديد المادة التي صنع منها الشيء باستخدام حاسة

ي. نستخدم المواد لنصنع أشياء لا نحتاج أن نرى من خلالها.

ملاحظته: الكتاب هو الأساس في الدراسة قبل حل هذه الأوراق

بالتوفيق لجميع الطالبات