

تم تحميل هذا الملف من موقع المناهج القطرية



## إجابة بنك أسئلة الوحدة الثالثة

موقع المناهج ← المناهج القطرية ← المستوى الأول ← رياضيات ← الفصل الأول ← مذكرات وبنوك ← الملف

تاريخ إضافة الملف على موقع المناهج: 17:11:21 2024-12-11

ملفات اكتب للمعلم اكتب للطالب | اختبارات الكترونية | اختبارات | حلول | عروض بوربوينت | أوراق عمل  
منهج انجليزي | ملخصات وتقارير | مذكرات وبنوك | الامتحان النهائي للمدرس

المزيد من مادة  
رياضيات:

## التواصل الاجتماعي بحسب المستوى الأول



صفحة المناهج  
القطرية على  
فيسبوك

الرياضيات

اللغة الانجليزية

اللغة العربية

التربية الاسلامية

المواد على تلغرام

## المزيد من الملفات بحسب المستوى الأول والمادة رياضيات في الفصل الأول

بنك أسئلة اختبار نهاية الفصل

1

بنك أسئلة الوحدة الثالثة

2

بنك أسئلة الوحدة الخامسة

3

أوراق عمل الدائل نهاية الفصل غير مجانية

4

أوراق عمل الأندلس نهاية الفصل غير مجانية

5


مدرسة عبد الحميد الدايل للبنين  
الفصل الدراسي الأول للعام 2024-2025 م  
بنك الأسئلة الوحدة الثالثة

الاسم: ..... الجواب: النيوتونية  
الصف: أول/.....

اختر الإجابة الصحيحة لكل من الأسئلة 1: 4 وذلك بوضع علامة × داخل المربع المجاور للإجابة الصحيحة:

السؤال رقم 1

لدى فريق 5 كرات أحضر المدرب 3 كرات أخرى .  
ما عدد الكرات الكلي ؟



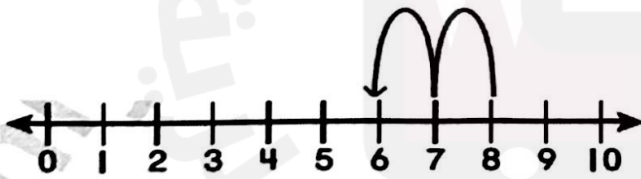
A 7

B 4

C 8

السؤال رقم 2

أي جملة طرح موضحة على خط الأعداد ؟



A  $8 - 2 = 6$

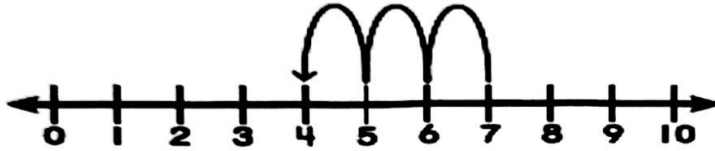
B  $10 - 2 = 8$

C  $7 - 1 = 6$

السؤال رقم 3

في الحديقة 7 فراشات. طارت منها 3 فراشات، كم فراشة في الحديقة الان؟

أي جملة عددية تمثل القصة؟




**A**  $8 - 5 = 3$

**B**  $7 - 3 = 4$

**C**  $5 - 1 = 4$

السؤال رقم 4

ما حقيقة الجمع التي تتضمن العدد 5؟



**A**  $5 + 3 = 8$

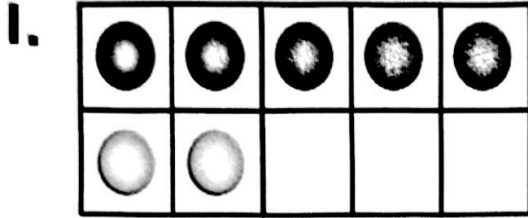
**B**  $5 + 4 = 9$

**C**  $5 + 5 = 10$

عند الإجابة على الأسئلة 5 إلى 7 ، اكتب إجاباتك في المساحات المخصصة لذلك مع توضيح خطوات الحل:

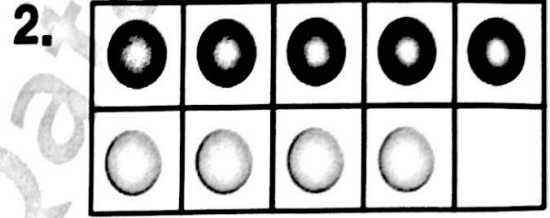
السؤال رقم 5

اكتب حقيقة جمع تتضمن العدد 5 ثم اكتب حقيقة جمع للعدد 10 .




$$5 + 2 = 7$$

$$7 + 3 = 10$$



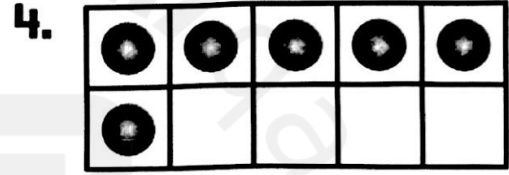
$$5 + 4 = 9$$

$$9 + 1 = 10$$



$$5 + 3 = 8$$

$$8 + 2 = 10$$



$$5 + 1 = 6$$

$$6 + 4 = 10$$

السؤال رقم 6

في سلة فاتن 9 تفاحات. أكلت منها 1 تفاحة.

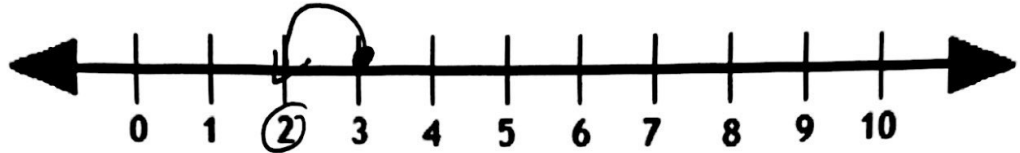
كم تفاحة بقيت في سلتها؟



$$9 - 1 = 8$$

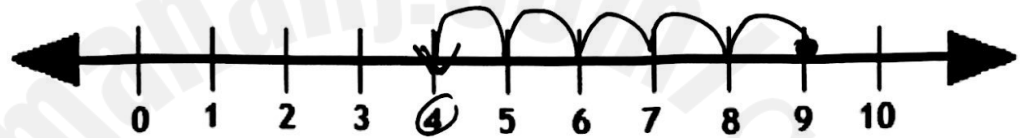
أكمل كل حقيقة طرح . أستعمل خط الأعداد لمساعدتي الحل:

1.



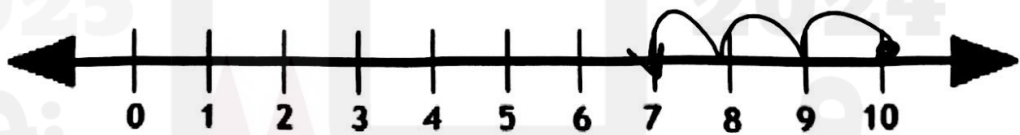
$$3 - 1 = \boxed{2}$$

2.



$$9 - 5 = \boxed{4}$$

3.



$$10 - 3 = \boxed{7}$$

4.



$$7 - 6 = \boxed{1}$$