

تم تحميل هذا الملف من موقع المناهج القطرية



## أوراق عمل إثرائية نهاية الفصل غير مجانية

موقع المناهج ← المناهج القطرية ← المستوى الأول ← علوم ← الفصل الأول ← أوراق عمل ← الملف

تاريخ إضافة الملف على موقع المناهج: 2024-11-13 06:55:30

ملفات اكتب للمعلم اكتب للطالب الاختبارات الكترونية | اختبارات | حلول | عروض بوربوينت | أوراق عمل  
منهج انجليزي | ملخصات وتقارير | مذكرات وبنوك | الامتحان النهائي للمدرس

المزيد من مادة  
علوم:

## التواصل الاجتماعي بحسب المستوى الأول



صفحة المناهج  
القطرية على  
فيسبوك

الرياضيات

اللغة الانجليزية

اللغة العربية

التربية الاسلامية

المواد على تلغرام

## المزيد من الملفات بحسب المستوى الأول والمادة علوم في الفصل الأول

الاختبار النهائي منتصف الفصل

1

بنك أسئلة الوحدة الأولى الكائنات الحية

2

بنك أسئلة الوحدة الثانية وحدة الأشياء المتحركة

3

بنك أسئلة الوحدة الأولى غير مجانية

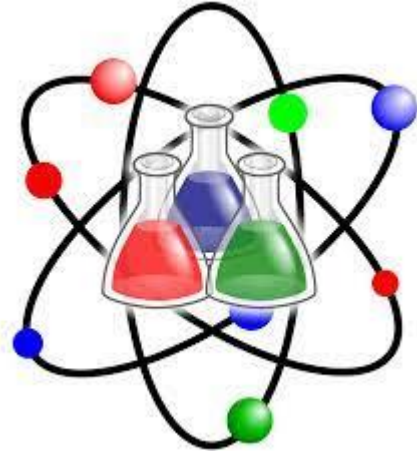
4

أوراق إثرائية على الوحدة الأولى

5

قسم العلوم

العام الأكاديمي 2023 / 2024



أوراق العمل الإثرائية

نهاية الفصل الدراسي الأول

الصف الأول الابتدائي

اسم الطالب

الصف والشعبة

.....


الأول / .....

## السؤال الأول: اختر الإجابة الصحيحة فيما يلي:

		<p>ماذا يفعل الكائن الحي في الصورة ؟</p>	2
A	ينمو		
B	يتحرك		
C	يتغذى		


		<p>ماذا يفعل الطائر في الصورة؟</p>	1
A	يتغذى		
B	يتنفس		
C	يتحرك		

		<p>كيف ينمو النبات ؟</p>	4
A	من البيضة		
B	من البذرة		
C	داخل جسم الأم		

		<p>ماذا يفعل الكائن الحي في الصورة ؟</p>	3
A	يتنفس		
B	يتغذى		
C	يتحرك		




		<p>ما آخر مرحلة من مراحل دورة حياة الطائر؟</p>	6
A	البيضة		
B	طائر صغير		
C	طائر بالغ		


<p>أي مما يلي يمثل كائن حي؟</p>		5
A		
B		
C		


	كم تبلغ عدد مراحل دورة حياة القط ؟	8
	A 3 مراحل	
	B 4 مراحل	
	C 5 مراحل	

	كم مرحلة تتضمن دورة حياة الفراشة ؟	7
	A 3 مراحل	
	B 4 مراحل	
	C 5 مراحل	

	ما المرحلة المشتركة بين جميع دورات الحياة للكائنات الحية؟	10
	A البيض	
	B الفرخ	
	C بالغ	

	أي من الأشياء الموجودة بالصورة كائن حي؟	9
	(ج)	
	(ب)	
	(أ)	
	A هاتف محمول	
	B شجرة	
	C حقيبة مدرسية	

	ما أول مرحلة في دورة حياة السمكة ؟	12
	A السمكة البالغة	
	B السمكة الصغيرة	
	C البيض	

	ما المرحلة التي تمثلها الصورة على الخط الزمني للإنسان ؟	11
	A الطفل	
	B المراهق	
	C البالغ	

## السؤال الثاني

ضع علامة (✓) أمام العبارة الصحيحة، وعلامة (X) أمام العبارة الخاطئة.

(-----)	1) الكائنات الحية تنمو و تتكاثر وتتغذى .
(-----)	2) تتكاثر الطيور بالولادة.
(-----)	3) بعض الكائنات حي وبعض الكائنات غير حي .
(-----)	4) تتحرك الكائنات الحية بطرق مختلفة

## السؤال الثالث

أكمل الجمل التالية باستخدام الكلمات الموجودة في صندوق الكلمات:

النباتات - تتغذى - الولادة - البيضة

1- الكائنات الحية ( _____ ) وتتنفس وتتحرك .
2- اول مرحلة من مراحل حياة الضب هي ( _____ )
3- الإنسان و الحيوانات و( _____ ) كائنات حية .
4- يتكاثر القط بـ ( _____ ) .

السؤال الرابع :-

أصل بخط بين الكائن الحي والعبارة المناسبة .

ينمو داخل بيضة

■ الثبَات



ينمو من البذرة

■ القِطْ



ينمو داخل جسم الأم

■ الطَّائِرُ



السؤال الخامس : اكتب تحت الصورة الكلمة المناسبة لها من الصندوق .

حي / غير حي



.....



.....

السؤال الأول : اختر الإجابة الصحيحة

1) ما الذي يساعد الحقيبة كي تتحرك؟



A المحرك

B الانسان

C الهواء

2) ما هو الشيء الذي يتحرك من تلقاء نفسه ؟

A الجمل

B العلم

C الحبل

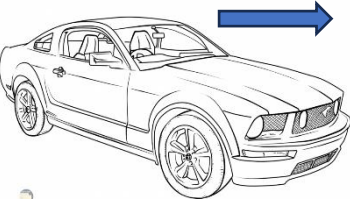
3) ما نوع المسار الموجود في الصورة ؟

A مستقيم

B منحن

C متعرج

4) صف كيف تتحرك السيارة في الصورة ؟



A لا تتحرك

B تتحرك إلى الأمام

C تتحرك إلى الخلف

5) ما الوصف لما يقوم به الطفل في الصورة ؟

A ينزلق

B يتدحرج

C يتحرك إلى الخلف

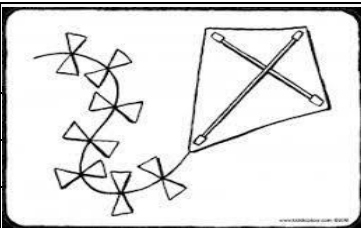


6) الذي يساعد الطائرة الورقية على الحركة هو ؟

A المحرك

B الماء

C الهواء



## السؤال الثاني

أكمل الجمل التالية باستخدام الكلمات الموجودة في صندوق الكلمات:

تتدرج - الوقود - الحركة - العجلات

1. (-----) الكرة نحو الشخص الآخر .

2- تسهل (-----) تحريك الأشياء الكبيرة والثقيلة .

3- (-----) هي الانتقال من مكان الى آخر.

4- يحتاج محرك السيارة إلى (-----) كي يعمل .

## السؤال الثالث

ضع علامة (✓) أمام العبارة الصحيحة، وعلامة (X) أمام العبارة الخاطئة.

(-----)	1) هناك طرق متعددة لأساعد الأشياء كي تتحرك
(-----)	2) القطار لا يحتاج الى محرك كي يتحرك .
(-----)	3) من المسارات التي تتحرك فيها الأشياء المسار المنحن.
(-----)	4) يساعد المحرك المركبات كي تتحرك .



السؤال الرابع : (أ) صل بين صورة الأشياء وبين ما يجعلها تتحرك ■

الإنسان



الرياح



المحرك



(ب) أصل الصورة بنوع المسار المناسب:

■ مُنْحَنٍ





■ مُتَعَرِّجٍ



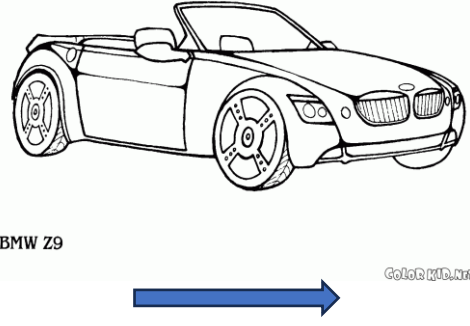

■ مُسْتَقِيمٍ



السؤال الخامس : أ) صنف الصور التالية بكتابة رقم الصورة تحت الجملة المناسبة :-

		يتحرك من تلقاء نفسه	يحتاج إلى مساعدة كي يتحرك
<div style="border: 1px solid black; padding: 5px; width: 40px; margin: 0 auto;">2</div>	<div style="border: 1px solid black; padding: 5px; width: 40px; margin: 0 auto;">1</div>	-----	-----

ب) اكتب ما اذا كان الشيء يتحرك **إلى الأمام** أم **إلى الخلف** أسفل الصورة المناسبة :-

	
-----	-----

السؤال الأول : اختر الإجابة الصحيحة

1) ما المادة التي يصنع منها الكتاب؟



- |   |           |
|---|-----------|
| A | البلاستيك |
| B | الورق     |
| C | المعدن    |

2) ما المادة التي يصنع منها الثوب ؟



- |   |        |
|---|--------|
| A | الزجاج |
| B | الخشب  |
| C | القماش |

3) ما المواد التي صنع منها الكرسي في الصورة ؟



- |   |                   |
|---|-------------------|
| A | البلاستيك والمعدن |
| B | الطين والخشب      |
| C | الزجاج والمطاط    |

4) صف المادة التي تصنع منها المطرقة ؟



- |   |       |
|---|-------|
| A | طرية  |
| B | لينية |
| C | قاسية |

5) ما ملمس الدمية في الصورة ؟



- |   |       |
|---|-------|
| A | طرية  |
| B | قاسية |
| C | خشنة  |

6) ما الشيء الذي يسهل ضغطه أو عصره ؟

- |   |          |
|---|----------|
| A | الجرّة   |
| B | الاسفنجة |
| C | الطاولة  |

## السؤال الثاني

أكمل الجمل التالية باستخدام الكلمات الموجودة في صندوق الكلمات:

المطاط - مختلفة - ناعم - القاسية

1. يمكن صنع الملاعق من مواد (-----).

2- للريشة ملمس (-----).

3- المادة (-----) يصعب ضغطها أو عصرها.

4- يصنع البالون من (-----).

## السؤال الثالث

ضع علامة (✓) أمام العبارة الصحيحة، وعلامة (X) أمام العبارة الخاطئة.

(-----)	1) تستخدم المواد الطرية لحماية الأشياء
(-----)	2) تصنع نوافذ البيت من الورق .
(-----)	3) يمكن صنع الأشياء من أكثر من مادة واحدة.
(-----)	4) نستخدم القماش في صناعة الملابس لانه طري ومريح .

السؤال الرابع : صل بين صورة الشيء وبين المادة المصنوع منها .



قُمَاشٌ



طِينٌ



خَشَبٌ



مَعْدَنٌ





مَطَّاطٌ





بِلاَسْتِيك

السؤال الخامس : أ) حدد المادة التي صنع منها الشيء بكتابة الرقم تحت الكلمة المناسبة :-

		زجاج	خشب
2	1	-----	-----

ب) اكتب على النقاط ملمس الشيء أسفل الصورة المناسبة :-

ناعم , خشن

	
-----	-----