

تم تحميل هذا الملف من موقع المناهج القطرية




بنك اسئلة الوحدة السادسة مع الإجابة النموذجية

[موقع المناهج](#) ← [المناهج القطرية](#) ← [المستوى الأول](#) ← [رياضيات](#) ← [الفصل الثاني](#) ← [الملف](#)

تاريخ إضافة الملف على موقع المناهج: 2024-05-30 08:21:40

إعداد: مدرسة عبد الحميد الدليل

التواصل الاجتماعي بحسب المستوى الأول



اضغط هنا للحصول على جميع روابط "المستوى الأول"

روابط مواد المستوى الأول على تلغرام

[الرياضيات](#)

[اللغة الانجليزية](#)

[اللغة العربية](#)

[التربية الاسلامية](#)

المزيد من الملفات بحسب المستوى الأول والمادة رياضيات في الفصل الثاني

[بنك اسئلة الوحدة السابعة تمثل البيانات وتفسيرها مع الإجابة النموذجية](#)

1

[تدريبات دعم واثراء نهاية الفصل مجمع الفرقان غير محابة](#)

2

[الاختبار الوزاري منتصف الفصل](#)

3

[أوراق عمل اثرائية منتصف الفصل مدرسة الأندلس مع الإجابة النموذجية](#)

4

المزيد من الملفات بحسب المستوى الأول والمادة رياضيات في الفصل الثاني

[أوراق عمل اثرائية منتصف الفصل مدرسة الأندلس غير محابة](#)

5

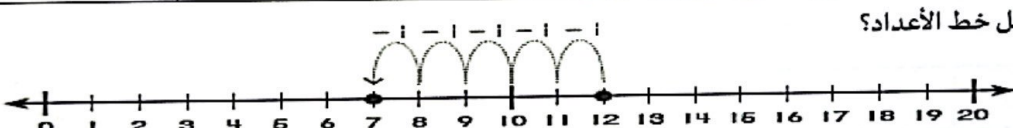
مدرسة عبد الحميد الدايل للبنين
الفصل الدراسي الثاني للعام 2023-2024م
بنك الأسئلة الوحدة السادسة

الاسم:

الصف: أول/

اختر الإجابة الصحيحة لكل من الأسئلة من 1 إلى 3، وذلك بوضع علامة × داخل المربع المجاور للإجابة الصحيحة:

| السؤال رقم 1 |
|--|
| خبزت خولة 14 فطيرة، وخبزت ريم 9 فطائر. بكم يزيد عدد الفطائر التي خبزتها عن عدد الفطائر التي خبزتها ريم؟ |
| $14 - 9 = 5$ |
| <input type="checkbox"/> A 4 |
| <input checked="" type="checkbox"/> B 5 |
| <input type="checkbox"/> C 6 |

| السؤال رقم 2 |
|---|
| أي جملة طرح تمثل خط الأعداد؟ |
|  |
| <input type="checkbox"/> A $10 - 6 = 4$ |
| <input type="checkbox"/> B $14 - 6 = 8$ |
| <input checked="" type="checkbox"/> C $12 - 5 = 7$ |

| السؤال رقم 3 |
|---|
| لدى فيصل 15 كتابا ليقرأها قرأ 9 كتب منها. كم كتابا بقي على فيصل ان يقرأ؟ |
| $15 - 9 = 6$ |
| <input checked="" type="checkbox"/> A 6 |
| <input type="checkbox"/> B 7 |
| <input type="checkbox"/> C 8 |


عند الإجابة على الأسئلة من 4 إلى 7، اكتب إجاباتك في المساحات المخصصة لذلك مع توضيح خطوات الحل:

الدرجة (2)

السؤال رقم 4

أستعمل خط الأعداد لإيجاد ناتج الطرح.

$$17 - 9 = \boxed{8}$$

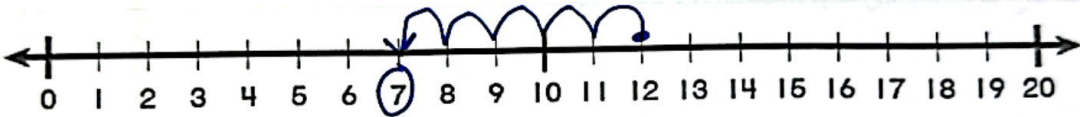


الدرجة (2)

السؤال رقم 5

أستعمل خط الأعداد لإيجاد ناتج الطرح.

$$12 - 5 = \boxed{7}$$

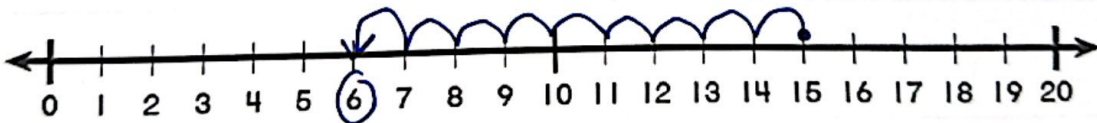


الدرجة (2)

السؤال رقم 6

أستعمل خط الأعداد لإيجاد ناتج الطرح.

$$15 - 9 = \boxed{6}$$

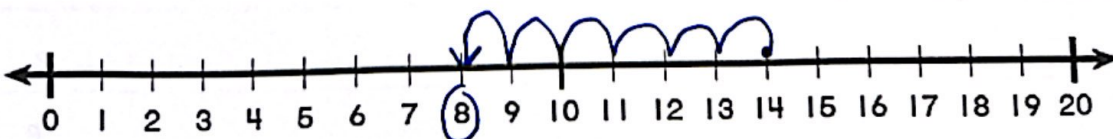


الدرجة (2)

السؤال رقم 7

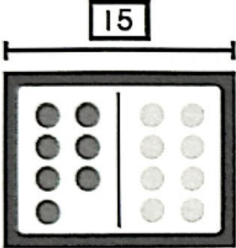
أستعمل خط الأعداد لإيجاد ناتج الطرح.


$$14 - 6 = \boxed{8}$$



اختر الإجابة الصحيحة لكل من الأسئلة من 1 إلى 3، وذلك بوضع علامة × داخل المربع المجاور للإجابة الصحيحة:

| السؤال رقم 1 | |
|---|--------------|
| أي حقيقة جمع مرتبطة يمكن أن تساعدني على حل حقيقة الطرح؟ | |
| $16 - 7 = \dots\dots\dots$ | |
| <input type="checkbox"/> A | $6 + 9 = 15$ |
| <input checked="" type="checkbox"/> B | $9 + 7 = 16$ |
| <input type="checkbox"/> C | $6 + 7 = 13$ |

| السؤال رقم 2 | |
|---|---|
|  | أي حقيقة طرح مرتبطة يمكن حلها باستعمال $7 + 8 = 15$ ؟ |
| <input type="checkbox"/> A | $14 - 4 = 7$ |
| <input type="checkbox"/> B | $8 - 8 = 0$ |
| <input checked="" type="checkbox"/> C | $15 - 7 = 8$ |


| السؤال رقم 3 | |
|---|-------------------------------|
|  | ما ناتج الطرح؟ أكون 10 لطرح . |
| $15 - 7 = \dots\dots\dots$ | |
| <input type="checkbox"/> A | 7 |
| <input checked="" type="checkbox"/> B | 8 |
| <input type="checkbox"/> C | 9 |

عند الإجابة على الأسئلة من 4 إلى 6، اكتب إجاباتك في المساحات المخصصة لذلك مع توضيح خطوات الحل:

السؤال رقم 4

اكتب عائلة الحقائق لكل نموذج .

1

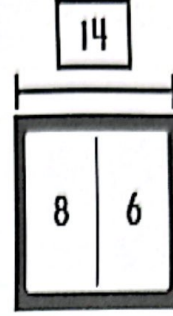


$$3 + 9 = 12$$

$$9 + 3 = 12$$

$$12 - 3 = 9$$

$$12 - 9 = 3$$



$$8 + 6 = 14$$

$$6 + 8 = 14$$

$$14 - 8 = 6$$

$$14 - 6 = 8$$

السؤال رقم 5

اكتب عائلة حقائق تتناسب مع الصورة.




$$9 + 8 = 17$$

$$17 - 8 = 9$$

$$8 + 9 = 17$$

$$17 - 9 = 8$$

السؤال رقم 6



$$14 - 6 = ?$$

أكون 10 لأطرح .

$$14 - \underline{4} = 10$$

أكمل حقيقة الطرح .

$$10 - \underline{2} = \underline{8}$$

$$14 - 6 = \underline{8} \text{ , اذن ,}$$

...../2

السؤال رقم 7

بالأمس كتبت عائشة 9 صفحات من قصة . وكتبت المزيد من الصفحات اليوم .
 كتبت 12 صفحة إجمالاً . كم صفحة كتبت عائشة اليوم؟
 أكتب جملة عددية تمثل المسألة .

$$12 - 9 = 3$$

...../2


السؤال رقم 8

لدى لطيفة 4 أشرطة أقل مما لدى دانة . إذا كان لدى لطيفة 7 أشرطة ,
 فما عدد الأشرطة التي لدى دانة ؟
 أكتب جملة عددية تمثل المسألة


$$7 + 4 = 11$$

السؤال رقم 9

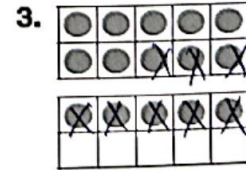
ما ناتج الطرح؟ أكون 10 لطح .



$$14 - 5 = 9$$



$$16 - 7 = 9$$



$$15 - 8 = 7$$