

تم تحميل هذا الملف من موقع المناهج القطرية



أوراق عمل اثرائية نهاية الفصل مع الإجابة النموذجية

موقع المناهج ← المناهج القطرية ← المستوى الأول ← رياضيات ← الفصل الأول ← أوراق عمل ← الملف

تاريخ إضافة الملف على موقع المناهج: 16:55:04 2024-12-11

ملفات اكتب للمعلم اكتب للطالب | اختبارات الكترونية | اختبارات | حلول | عروض بوربوينت | أوراق عمل
منهج انجليزي | ملخصات و تقارير | مذكرات و بنوك | الامتحان النهائي للمدرس

المزيد من مادة
رياضيات:

التواصل الاجتماعي بحسب المستوى الأول



صفحة المناهج
القطرية على
فيسبوك

الرياضيات

اللغة الانجليزية

اللغة العربية

التربية الاسلامية

المواد على تلغرام

المزيد من الملفات بحسب المستوى الأول والمادة رياضيات في الفصل الأول

أوراق عمل دعم وإثراء الفرقان نهاية الفصل غير مجانية

1

أوراق العمل الاثرائية نهاية الفصل غير مجانية

2

أوراق عمل الأندلس نهاية الفصل مع الإجابة النموذجية

3

أوراق عمل الأندلس نهاية الفصل غير مجانية

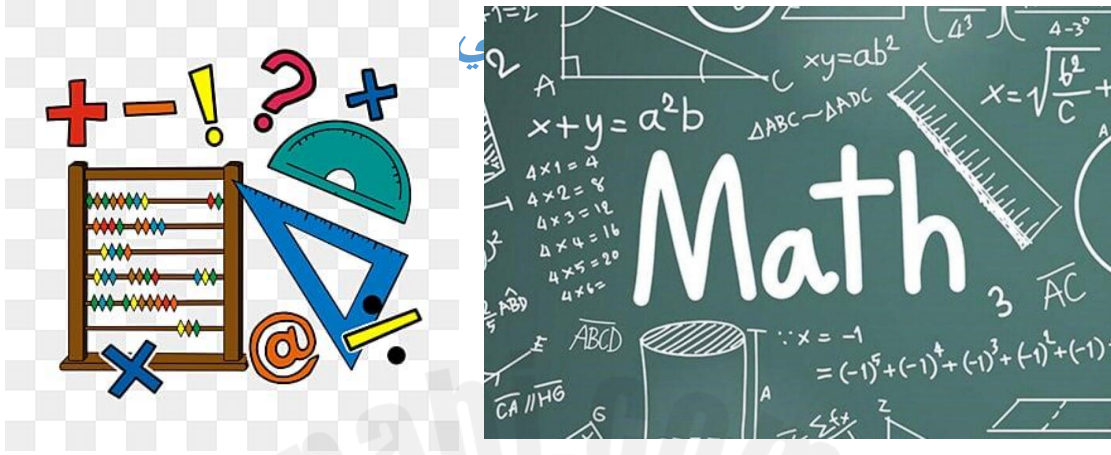
4

الاختبار النهائي منتصف الفصل

5

قسم الرياضيات

العام الأكاديمي 2025 / 2024



أوراق العمل الإثرائية استعدادًا للتطبيق الثالث

الصف الأول الابتدائي

	اسم الطالب
أول/	الصف والشعبة

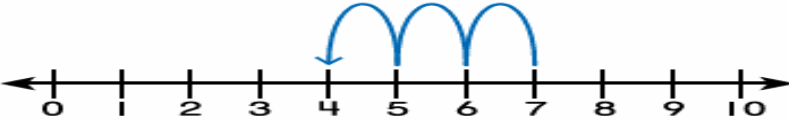
هذه الأسئلة مُساعدة ولا تُغني عن الكتاب المدرسي أو تدريبات الكتاب المدرسي




الاسم: الصف: الأول / التاريخ: 10 نوفمبر 2024

ورقة عمل (4) / الرياضيات

اختر الإجابة الصحيحة :

السؤال (1)	3 /
ما جملة الطرح التي تمثل الشكل ؟	
A	$4 - 3 = 1$
B	$7 - 6 = 1$
C	$7 - 3 = 4$

السؤال (2)	3 /
ما حقيقة الجمع التي تتضمن العدد 5 باستعمال لوحة العشرة ؟	
A	$5 + 0 = 5$
B	$5 + 1 = 6$
C	$5 + 2 = 7$




أجب عن السؤال التالي وأكتب إجابتك في المكان المخصص .

السؤال (3)	5 /										
<p>A. انظر إلى لوحة العشرة. أكمل حقيقة الجمع التي تتضمن العدد 5 . ثم أكتب حقيقة جمع تتضمن 10 .</p> <div style="text-align: center;"><table border="1"><tr><td>●</td><td>●</td><td>●</td><td>●</td><td>●</td></tr><tr><td>●</td><td>●</td><td></td><td></td><td></td></tr></table></div> <p>5 + _____ = _____</p> <p>_____ + _____ = 10</p>		●	●	●	●	●	●	●			
●	●	●	●	●							
●	●										
<p>B. عد تنازليا وأوجد ناتج الطرح .</p> <p>8 - 2 =</p>											



الاسم: الصف: الأول / التاريخ: 14 نوفمبر 2024

ورقة عمل (5) / الرياضيات

السؤال (1)		3 /
ما رمز العدد الذي يمثل عدد البط ؟		
A	11	
B	12	
C	13	

السؤال (2)		3 /
ما رمز العدد الذي يمثل عدد النحل ؟		
A	10	
B	11	
C	12	



السؤال (3)	3 /
ما رمز العدد الذي يمثل عدد الديوك؟ 	
A	10
B	11
C	12

أجب عن السؤال التالي ، وضع إجابتك في المكان المخصص لذلك :

السؤال (4)	5 /
عد النجوم ، واكتب رمز العدد الكلي لها . ثم اكتب العدد الذي يليه . 	
الإجابة :