

تم تحميل هذا الملف من موقع المناهج القطرية



*للحصول على أوراق عمل لجميع الصفوف وجميع المواد اضغط هنا

<https://almanahj.com/qa>

* للحصول على أوراق عمل لجميع مواد المستوى الأول اضغط هنا

<https://almanahj.com/qa/1>

* للحصول على جميع أوراق المستوى الأول في مادة رياضيات ولجميع الفصول, اضغط هنا

<https://almanahj.com/qa/1>

* للحصول على أوراق عمل لجميع مواد المستوى الأول في مادة رياضيات الخاصة بـ اضغط هنا

<https://almanahj.com/qa/1>

* لتحميل كتب جميع المواد في جميع الفصول لد المستوى الأول اضغط هنا

<https://almanahj.com/qa/grade1>

للتحدث إلى بوت على تلغرام: اضغط هنا

https://t.me/qacourse_bot





مدرسة أمانة محمود الجيدة الابتدائية المستقلة للبنات
الرياضيات للصف الأول (التقييم 2)


اسم الطالبة: الصف الأول:

أجب عن الأسئلة التالية:

10

الدرجة (2)	عد و اكتب العدد	1
		

الدرجة (1)	اختر المجموعة التي تمثل العدد 2	2
	<p>(A) </p> <p>(B) </p> <p>(C) </p> <p>(D) </p>	


الدرجة (2)	ارسم قطعاً للعدد تمثل عدد المربعات الملونة:	3
		




مدرسة أمنة محمود الجيدة الابتدائية المستقلة للبنات
الرياضيات للصف الأول (التقييم 2)

--

الدرجة (2)	اكتب عدد كل من الموز و البرتقال	4
--------------	---------------------------------	---



الدرجة (2)	لون عدد المربعات التي تمثل الشكل المطلوب:	5
--------------	---	---



الدرجة (1)	أي مجموعة مما يلي تمثل العدد 0	6
--------------	--------------------------------	---



مدرسة آمنة محمود الجيدة الابتدائية المستقلة للبنات
الرياضيات للصف الأول (التقييم 2)

