

تم تحميل هذا الملف من موقع المناهج القطرية



## بنك أسئلة الوحدة الثالثة

موقع المناهج ← المناهج القطرية ← المستوى الأول ← رياضيات ← الفصل الأول ← مذكرات وبنوك ← الملف

تاريخ إضافة الملف على موقع المناهج: 17:08:14 2024-12-11

ملفات اكتب للمعلم اكتب للطالب | اختبارات الكترونية | اختبارات | حلول | عروض بوربوينت | أوراق عمل  
منهج انجليزي | ملخصات وتقارير | مذكرات وبنوك | الامتحان النهائي للمدرس

المزيد من مادة  
رياضيات:

## التواصل الاجتماعي بحسب المستوى الأول



صفحة المناهج  
القطرية على  
فيسبوك

الرياضيات

اللغة الانجليزية

اللغة العربية

التربية الاسلامية

المواد على تلغرام

## المزيد من الملفات بحسب المستوى الأول والمادة رياضيات في الفصل الأول

بنك أسئلة الوحدة الخامسة	1
أوراق عمل الدائل نهاية الفصل غير مجابة	2
أوراق عمل الأندلس نهاية الفصل غير مجابة	3
أوراق عمل مريم بنت عمران نهاية الفصل غير مجابة	4
أوراق عمل الأندلس مع الإجابة النموذجية	5

مدرسة عبد الحميد الدايل للبنين  
الفصل الدراسي الأول للعام 2024-2025 م  
بنك الأسئلة الوحدة الثالثة

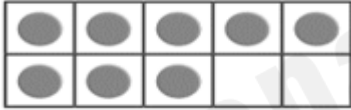
الصف: أول/.....

الاسم: .....

اختر الإجابة الصحيحة لكل من الأسئلة 1: 4 وذلك بوضع علامة × داخل المربع المجاور للإجابة الصحيحة:

السؤال رقم 1

لدى فريق 5 كرات أحضر المدرب 3 كرات أخرى .  
ما عدد الكرات الكلي ؟



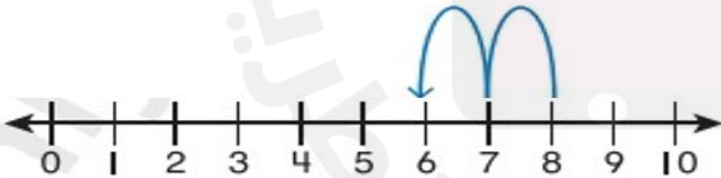
A 7

B 4

C 8

السؤال رقم 2

أي جملة طرح موضحة على خط الأعداد ؟



A  $8 - 2 = 6$

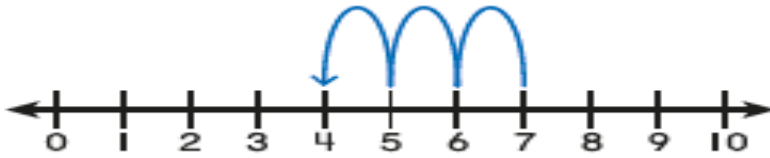
B  $10 - 2 = 8$

C  $7 - 1 = 6$

## السؤال رقم 3

في الحديقة 7 فراشات. طارت منها 3 فراشات، كم فراشة في الحديقة الان؟

أي جملة عددية تمثل القصة؟



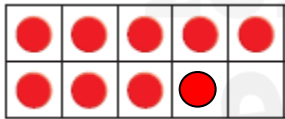
**A**  $8 - 5 = 3$

**B**  $7 - 3 = 4$

**C**  $5 - 1 = 4$

## السؤال رقم 4

ما حقيقة الجمع التي تتضمن العدد 5؟



**A**  $5 + 3 = 8$

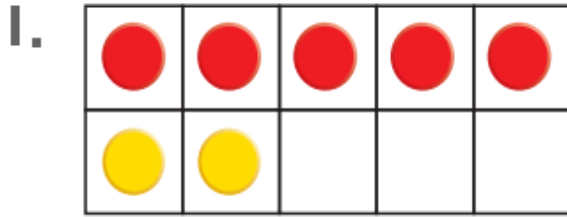
**B**  $5 + 4 = 9$

**C**  $5 + 5 = 10$

عند الإجابة على الأسئلة 5 إلى 7 ، اكتب إجاباتك في المساحات المخصصة لذلك مع توضيح خطوات الحل:

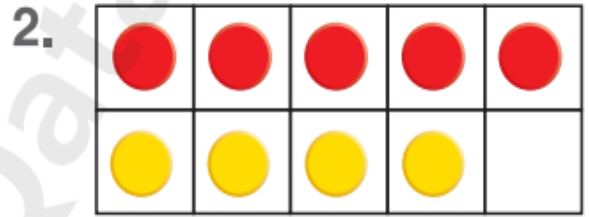
السؤال رقم 5

أكتب حقيقة جمع تتضمن العدد 5 ثم أكتب حقيقة جمع للعدد 10 .



$$5 + 2 = \underline{\quad}$$

$$\underline{\quad} + \underline{\quad} = 10$$



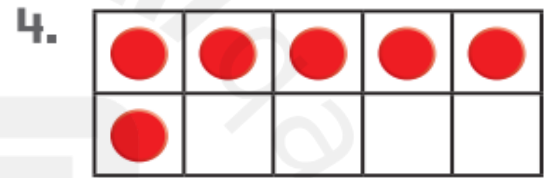
$$5 + 4 = \underline{\quad}$$

$$\underline{\quad} + \underline{\quad} = 10$$



$$5 + \underline{\quad} = \underline{\quad}$$

$$\underline{\quad} + \underline{\quad} = 10$$



$$5 + \underline{\quad} = \underline{\quad}$$

$$\underline{\quad} + \underline{\quad} = 10$$

السؤال رقم 6

في سلة فاتن 9 تفاحات. أكلت منها 1 تفاحة.

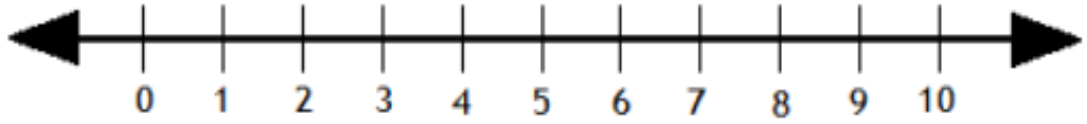
كم تفاحة بقيت في سلتها؟



$$\underline{\quad} - \underline{\quad} = \underline{\quad}$$

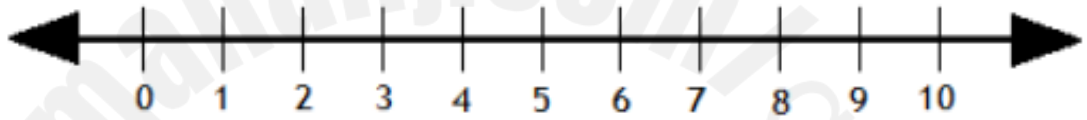
أكمل كل حقيقة طرح . أستعمل خط الأعداد لمساعدتي الحل:

1.



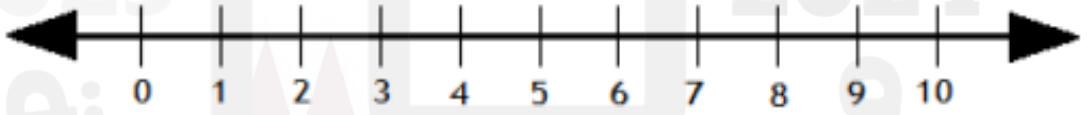
$$3 - 1 = \square$$

2.



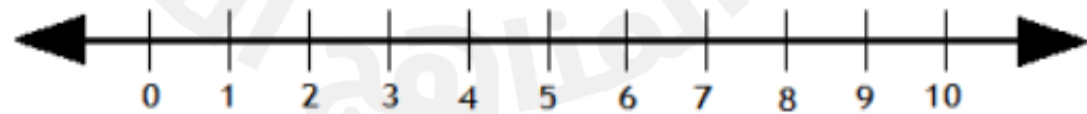
$$9 - 5 = \square$$

3.



$$10 - 3 = \square$$

4.



$$7 - 6 = \square$$