

تم تحميل هذا الملف من موقع المناهج القطرية



بنك أسئلة الوحدة الثالثة عشر غير مجابة مدرسة عبد الحميد الدايل

[موقع المناهج](#) ← [المناهج القطرية](#) ← [المستوى الأول](#) ← [رياضيات](#) ← [الفصل الأول](#) ← [الملف](#)

تاريخ إضافة الملف على موقع المناهج: 09:08:18 2024-05-31

إعداد: مدرسة عبد الحميد الدايل

التواصل الاجتماعي بحسب المستوى الأول



اضغط هنا للحصول على جميع روابط "المستوى الأول"

روابط مواد المستوى الأول على تلغرام

[الرياضيات](#)

[اللغة الانجليزية](#)

[اللغة العربية](#)

[التربية الاسلامية](#)

المزيد من الملفات بحسب المستوى الأول والمادة رياضيات في الفصل الأول

[بنك أسئلة الوحدة الرابعة عشر غير مجابة مدرسة عبد الحميد الدايل](#)

1

[بنك أسئلة الوحدة السادسة عشر غير مجابة مدرسة عبد الحميد الدايل](#)

2

[بنك أسئلة الوحدة الثامنة عشر غير مجابة مدرسة عبد الحميد الدايل](#)

3

[بنك أسئلة الوحدة الثانية عشر غير مجابة مدرسة عبد الحميد الدايل](#)

4

المزيد من الملفات بحسب المستوى الأول والمادة رياضيات في الفصل الأول

[بنك أسئلة الوحدة التاسعة غير محابة مدرسة عبد الحميد الدايل](#)





5

مدرسة عبد الحميد الدايل للبنين
الفصل الدراسي الثاني للعام 2023-2024م
بنك الأسئلة الوحدة الثالثة عشر

الصف: أول /

الاسم:

اختر الإجابة الصحيحة لكل من الأسئلة من 1 إلى 4 وذلك باختيار الإجابة الصحيحة بوضع دائرة حول رمز الإجابة الصحيحة:

	1
	ما الوقت المبين على الساعة؟
	A
	C
	B

	2
	كم دقيقة في نصف الساعة؟
20	A
30	B
60	C

3

يتناول طارق وجبة الغداء بعد الساعة 12 وقبل الساعة 2 كل يوم .

أي ساعة تبين الوقت الذي يتناول فيه طارق وجبة الغداء؟

أختار الساعة الصحيحة .



A



C



B

4

انظر للوقت الذي على وجه الساعة

أي ساعة أدناه تبين نفس الوقت.



A



B



C


أجب عن الأسئلة، واكتب إجابتك في المساحة المخصصة للإجابة:

4

نام حمد قبل والده بثلاث ساعات. نام والد حمد في الساعة 10:00
أكتب وارسم الوقت الذي نام فيه حمد على الساعة.



5 أرسم عقارب الساعة لتمثيل الوقت الموضح



الساعة 3



الساعة 7



الساعة 10



6 اكتب الوقت المبين في الساعة الموضحة ادناه

6



عَقْرَبُ السَّاعَاتِ: _____

عَقْرَبُ الدَّقَائِقِ: _____

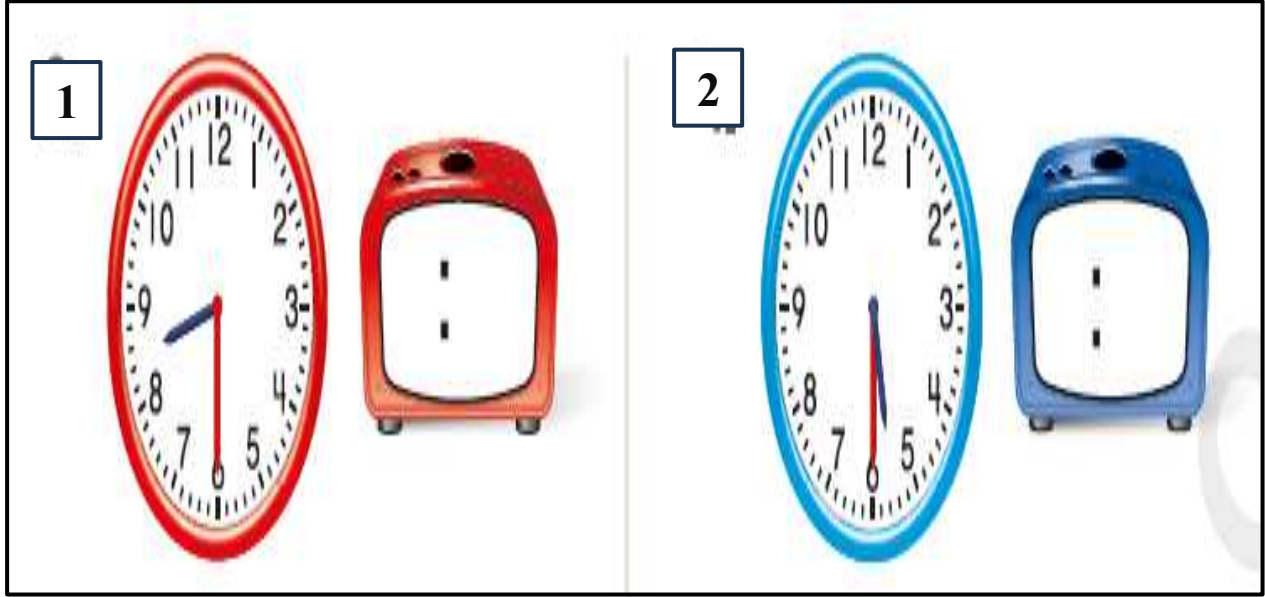
السَّاعَةُ _____



عَقْرَبُ السَّاعَاتِ: _____

عَقْرَبُ الدَّقَائِقِ: _____

السَّاعَةُ _____



أكتب الأعداد لإكمال كل جملة. ثم أكتب الوقت على الساعة الأخرى .

9

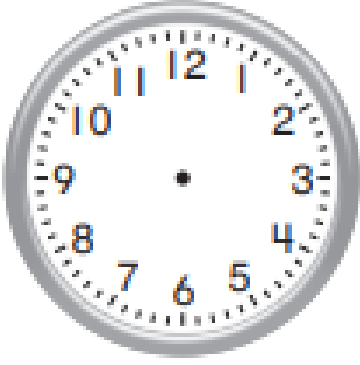


عَقْرَبُ السَّاعَاتِ بَيْنَ _____ وَ _____ ؛

يُشِيرُ عَقْرَبُ الدَّقَائِقِ إِلَى _____ ؛

إِنَّهَا السَّاعَةُ _____

يصل حمد إلى المدرسة الساعة 7:00 تبدأ حصة الرياضيات بعد 30 دقيقة من وصوله .

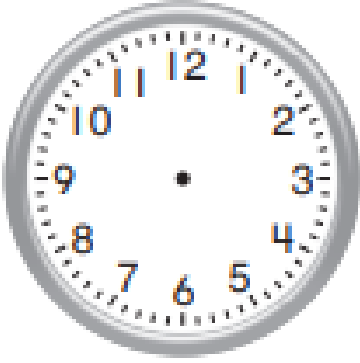


في أي وقت تبدأ حصة الرياضيات ؟

أرسم العقارب على الساعة .

أكتب الوقت في الساعة الأخرى .

ركب حسن دراجته في الساعة 1:00 استمر في ركوب الدراجة لمدة ساعة واحدة .



في أي وقت توقف حسن عن ركوب الدراجة ؟

أرسم العقارب على الساعة .

أكتب الوقت في الساعة الأخرى .