

تم تحميل هذا الملف من موقع المناهج القطرية



أوراق عمل الأندلس الاثرائية منتصف الفصل غير مجابة

موقع المناهج ← المناهج القطرية ← المستوى الأول ← علوم ← الفصل الأول ← ملفات متنوعة ← الملف

تاريخ إضافة الملف على موقع المناهج: 18:35:57 2024-10-05

ملفات اكتب للمعلم اكتب للطالب الاختبارات الكترونية | اختبارات | حلول | عروض بوربوينت | أوراق عمل
منهج انجليزي | ملخصات وتقارير | مذكرات وبنوك | الامتحان النهائي للمدرس

المزيد من مادة
علوم:

إعداد: مدرسة الأندلس

التواصل الاجتماعي بحسب المستوى الأول



صفحة المناهج
القطرية على
فيسبوك

الرياضيات

اللغة الانجليزية

اللغة العربية

التربية الاسلامية

المواد على تلغرام

المزيد من الملفات بحسب المستوى الأول والمادة علوم في الفصل الأول

أوراق عمل الأندلس الاثرائية منتصف الفصل مجابة

1

أوراق عمل نهاية الفصل مدرسة الأندلس

2

تطبيقات امتحانية نهاية الفصل

3

الإجابة النموذجية لتدريبات الكتاب

4

تدريبات دعم وإثراء الفرقان نهاية الفصل

5

مدرسة الأندلس الخاصة للبنات

العام الأكاديمي 2025/2024



2025

2024

الأوراق الإثرائية الشاملة

مادة العلوم العامة

الصف الأول الابتدائي

الوحدة الأولى و الثانية

اسم الطالبة/.....




الصف والشعبة /.....



اختر الإجابة الصحيحة :

السؤال الأول

أي مما يأتي كان غير حي ؟

	A
	B
	C

السؤال الثاني

❖ من أين تأتي البذور؟

- A. ماء
B. الزهرة
C. ج. الورقة



السؤال الثالث

أي الحيوانات التالية تتكاثر بالولادة؟

- A. القطة
B. الدجاجة
C. السمكة

السؤال الرابع

أي الكائنات الحية التالية تلد؟

	A
	B
	C

أي من الصور الآتية كائن غير حي ؟



A



B



C

ضع دائرة على الإجابة الصحيحة فقط



ما الخاصية التي تدل عليها الصورة ؟

يتنفس	A
يتغذى	B
يتحرك	C

2025

2024

السؤال الرابع

أكمل العبارات الآتية بالكلمات المناسبة من صندوق الكلمات:

تلقاء نفسه بيضة - البذرة

1- المرحلة الأولى من دورة حياة الفراشة

2- يتحرك الإنسان من

3- أول مرحلة من دورة حياة النبات

السؤال الخامس

ضع علامة (√) أمام العبارة الصحيحة، أو علامة (x) أمام العبارة الخطأ :

1. تتكاثر الدجاجة بالبيض . ()

2. تتغذى الكائنات الحية بطرق مختلفة . ()

3. جميع الكائنات الحية لها دورة حياة . ()

4. الإنسان والحيوان والنبات من الكائنات الحية ()

السؤال السادس

أكمل الفراغات التالية مستعيناً بالكلمات في الجدول التالي:

الأسد - البيض

1. يُعتبر..... من الكائنات الحية التي تتحرك من تلقاء نفسها .

2. تتكاثر الفراشة ب

السؤال السابع

❖ ارسم المرحلة الأولى من دورة حياة الضب مع كتابة أسم المرحلة ؟

.....

أرسم هنا



أنت كفو وروو
تقي بنفسك