

تم تحميل هذا الملف من موقع المناهج القطرية



*للحصول على أوراق عمل لجميع الصفوف وجميع المواد اضغط هنا

<https://almanahj.com/qa>

* للحصول على أوراق عمل لجميع مواد المستوى الأول اضغط هنا

<https://almanahj.com/qa/1>

* للحصول على جميع أوراق المستوى الأول في مادة رياضيات ولجميع الفصول, اضغط هنا

<https://almanahj.com/qa/1>

* للحصول على أوراق عمل لجميع مواد المستوى الأول في مادة رياضيات الخاصة بـ اضغط هنا

<https://almanahj.com/qa/1>

* لتحميل كتب جميع المواد في جميع الفصول لد المستوى الأول اضغط هنا


<https://almanahj.com/qa/grade1>

للتحدث إلى بوت على تلغرام: اضغط هنا

https://t.me/qacourse_bot



Scientific Track



روضة ومدرسة عمر بن الخطاب الابتدائية الأولى للبنين
العام الأكاديمي 2020-2019

أوراق دعم وتثبيت (رياضيات) الصف الأول الباقية الأولى

الصف: أول /

الاسم



هذه الأوراق لدعم وتثبيت للوحدات السابقة ويرجى عدم الاعتماد عليها في تدريس الطالب للأختبار والرجوع للمصدر الرئيسي



روضة ومدرسة عمر بن الخطاب الابتدائية الأولى للبنين
العام الأكاديمي 2020-2019

دعم وتثبيت رياضيات

مراجعة الاعداد (0-5)

Scientific Track


اختر الإجابة الصحيحة بوضع دائرة حول رمز الإجابة الصحيحة :

1- أي مما يلي يُمثل العدد 2 ؟


A



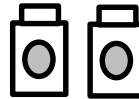
B



C



2- أي مما يلي يُمثل



A

3


B

4

C

5

3- أعدد الكرات ثم أكتب العدد؟




4- أعدد الضفادع ثم أكتب العدد؟



5- أعدد الكرات التي في الصندوق ثم أكتب العدد؟



ثم أكتب العدد؟



5- أعدد ستة




الاسم _____ الصف: أول /


اختر الإجابة الصحيحة بوضع دائرة حول رمز الإجابة الصحيحة:

1- أي مما يلي يُمثل العدد 6 ؟


A



B



C



?

2- أي مما يلي يُمثل عدد المكعبات

A

7




B

8


C

9



3- أعدد حبات التفاح ثم أكتب العدد؟


3- ضع دائرة حول السلحفاة الثالثة.



4- أعدد الطيور ثم أكتب العدد؟



5- أعدد العدد؟



9





روضة ومدرسة عمر بن الخطاب الابتدائية الأولى للبنين
العام الأكاديمي 2020-2019



الصف الأول

دعم و تثبيت لمادة الرياضيات

الاسم _____ الصف: أول /

السؤال الأول : ضع دائرة حول رمز الإجابة الصحيحة

1- ما العدد الكلي للفراشات؟

A


4 و 2 يصبح 6

B

4 و 3 يصبح 7

C

4 و 4 يصبح 8



2- ما العدد الكلي للدراجات؟

A


2 و 1 يصبح 3

B

3 و 2 يصبح 5

C

4 و 3 يصبح 7





روضة ومدرسة عمر بن الخطاب الابتدائية الأولى للبنين
العام الأكاديمي 2020-2019

السؤال الثاني : أكتب جملة الجمع المناسبة :

1- ما العدد الكلي للأسماك ؟



.....



يصبح

.....

و

.....

2- ما العدد الكلي للأزهار ؟



.....

يصبح

.....

و

.....

3- ما العدد الكلي للسيارات ؟



.....

يصبح

.....

و

.....



روضة ومدرسة عمر بن الخطاب الابتدائية الأولى للبنين
العام الأكاديمي 2019-2020


السؤال الثالث ::

1- أكتب جملة جمع تمثل العدد الكلي لقطع العد



$$\underline{\hspace{2cm}} + \underline{\hspace{2cm}} = \underline{\hspace{2cm}}$$

2 - في الحديقة 5 فراشات وانضمت إليها 3 فراشات أخرى ،
كم فراشة أصبحت في الحديقة الآن ؟



$$\underline{\hspace{2cm}} + \underline{\hspace{2cm}} = \underline{\hspace{2cm}}$$



Grade 1 روضة ومدرسة عمر بن الخطاب الابتدائية الأولى للبنين
العام الأكاديمي 2020-2019

دعم وتثبيت رياضيات (طرح)



الاسم _____
الصف: أول /

سؤال الأول : ضع دائرة حول رمز الإجابة الصحيحة

1- في وعاء 6 كرات زجاجية . أخذ منها 4 كرات كم كرة تبقي في الوعاء؟

A 6

B 2

C 3



2- على الشجرة 8 طيور طار منها 6 طيور . كم طائر بقي على الشجرة؟

-أي جملة طرح تمثل القصة:

A $8 - 6 = 2$

B $7 - 2 = 5$

C $8 - 7 = 1$






روضة ومدرسة عمر بن الخطاب الابتدائية الأولى للبنين
العام الأكاديمي 2020-2019


3- أنظر الى الصورة . أكتب جملة الطرح:



4- أضع (x) على الأشياء التي أخذتها . ثم أكتب جملة طرح.

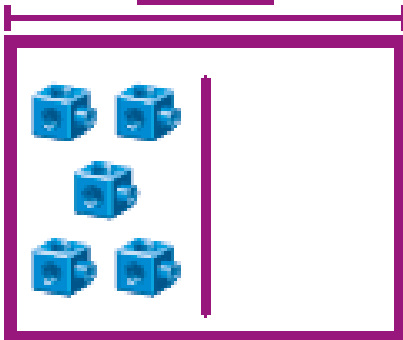


أخذت 5 دجاجات



5- وقفت 8 ضفادع على شجرة . قفزت 5 ضفادع كم ضفدعا بقي على الشجرة؟

8



$$\underline{\quad} - \underline{\quad} = \underline{\quad}$$