

تم تحميل هذا الملف من موقع المناهج القطرية



أوراق عمل الأندلس نهاية الفصل مع الحل

موقع المناهج ← المناهج القطرية ← المستوى الأول ← علوم ← الفصل الأول ← أوراق عمل ← الملف

تاريخ إضافة الملف على موقع المناهج: 2024-11-13 07:04:35

ملفات اكتب للمعلم اكتب للطالب الاختبارات الكترونية | اختبارات | حلول | عروض بوربوينت | أوراق عمل
منهج انجليزي | ملخصات و تقارير | مذكرات و بنوك | الامتحان النهائي للمدرس

المزيد من مادة
علوم:

التواصل الاجتماعي بحسب المستوى الأول



صفحة المناهج
القطرية على
فيسبوك

الرياضيات

اللغة الانجليزية

اللغة العربية

التربية الاسلامية

المواد على تلغرام

المزيد من الملفات بحسب المستوى الأول والمادة علوم في الفصل الأول

أوراق عمل الأندلس نهاية الفصل غير مجانية

1

أوراق عمل اثرائية نهاية الفصل غير مجانية

2

الاختبار النهائي منتصف الفصل

3

بنك أسئلة الوحدة الأولى الكائنات الحية

4

بنك أسئلة الوحدة الثانية وحدة الأشياء المتحركة

5



المادة: العلوم

المستوى: الأول

الحل النموذجي

اختبار الوحدة (الكائنات الحية والغير حية الأشياء المتحركة) رقم(1-2)

الكتاب المدرسي من صفحة () الى صفحة ()

اليوم:

التاريخ:

الفصل الدراسي الأول

الهدف: رفع التحصيل الأكاديمي وتعزيز مهارات التفكير العليا بعد كل وحدة دراسية

العام الأكاديمي: 2024-2023

اختبار الوحدة لا يغني الطالبة عن المذاكرة من المصدر التعليمي وحل أسئلة التقويم للوحدة



اختر الإجابة الصحيحة :

السؤال الأول	3/0
<p>❖ ما المسار الذي يمثله الشكل المجاور؟</p> <p>أ. خط مستقيم</p> <p>ب. منحن</p> <p>ج. متعرج</p>	

السؤال الثاني
<p>❖ ماذا يحتاج المحرك كي يعمل؟</p> <p>أ. ماء</p> <p>ب. وقود</p> <p>ج. حليب</p>

السؤال الثالث
<p>❖ ما الحركة التي أستطيع أن أقوم بها على رجل واحدة؟</p> <p>أ. أمشي</p> <p>ب. أقفز</p> <p>ج. أركض</p>



السؤال الرابع

❖ ما هو الشيء الذي يسهل حركة الأشياء الثقيلة؟

أ. العجلات

ب. الرياح

ت. الوقود

السؤال الخامس

املئ الفراغ تحت الصور الآتية بالكلمات المناسبة من صندوق الكلمات:

ينزلق - يتدحرج - يمشي - يقفز - يدور



يمشي



يقفز






يتدرج

ينزلق

السؤال السادس

❖ ارسم السهم الذي يمثل اتجاه حركة السيارة؟



خلف



أمام

2025

2024




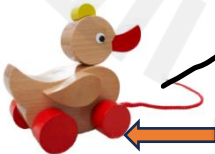
Andalus Educational Complex
Since 1995

موقع المناهج القطرية



السؤال السابع

❖ صل ما في العمود (أ) بما يناسبه من العمود (ب)؟

العمود (ب)	العمود (أ)
	محرك
	رياح
	عجلات
	وقود



السؤال الثامن

أي من الصور الآتية كائن غير حي ؟



A



B



C

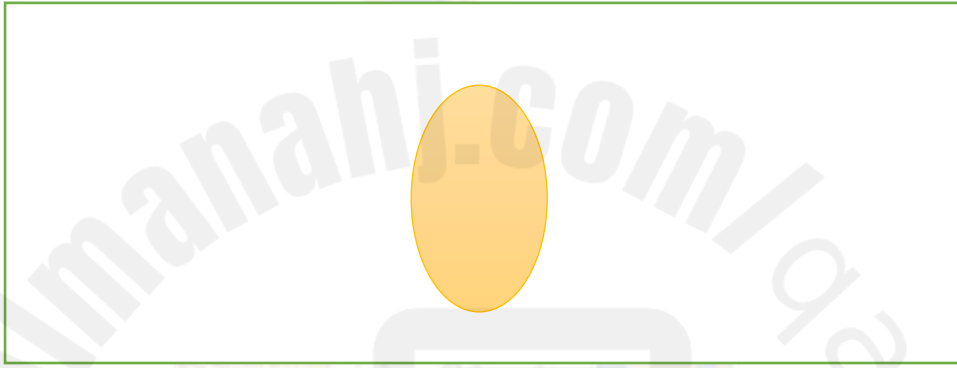


السؤال السادس

❖ ارسم المرحلة الأولى من دورة حياة الضب مع كتابة أسم المرحلة ؟

.....بيض - بيضة..egg..

أرسم هنا



2025

مع تحيات قسم

2024

Andalus Educational Complex
Since 1995