

تم تحميل هذا الملف من موقع المناهج القطرية



الاختبار النهائي منتصف الفصل

موقع المناهج ← المناهج القطرية ← المستوى الأول ← علوم ← الفصل الأول ← اختبارات ← الملف

تاريخ إضافة الملف على موقع المناهج: 2024-10-21 11:52:16

ملفات اكتب للمعلم اكتب للطالب | اختبارات الكترونية | اختبارات | حلول | عروض بوربوينت | أوراق عمل
منهج انجليزي | ملخصات وتقارير | مذكرات وبنوك | الامتحان النهائي للمدرس

المزيد من مادة
علوم:

التواصل الاجتماعي بحسب المستوى الأول



صفحة المناهج
القطرية على
فيسبوك

الرياضيات

اللغة الانجليزية

اللغة العربية

التربية الاسلامية


المواد على تلغرام

المزيد من الملفات بحسب المستوى الأول والمادة علوم في الفصل الأول

بنك أسئلة الوحدة الأولى الكائنات الحية	1
بنك أسئلة الوحدة الثانية وحدة الأشياء المتحركة	2
بنك أسئلة الوحدة الأولى غير مجابة	3
أوراق إثرائية على الوحدة الأولى	4
أوراق عمل الوحدة الأولى غير مجابة	5






اختر الإجابة الصحيحة لكل من الأسئلة من 1 إلى 6، وذلك بوضع علامة × داخل المربع
تعليمات المجاور للإجابة الصحيحة:

السؤال الأول	1 /.....
أي من خصائص الكائنات الحية تدل عليها الصورة؟ 	
A	يتكاثر
B	يتحرك
C	يتغذى

السؤال الثاني	1 /.....
أي مما يلي تبدأ بها دورة حياة الإنسان؟	
A	طفل
B	مراهق
C	حديث الولادة

1 /.....

من الكائنات الحية التالية تنمو داخل بيضة؟

	A
	
	B
	C

1 /.....

2025

2024

سؤال الرابع



ي من هذه الكائنات الحية يمر بمرحلة الشرنقة في دورة حياته؟

	A
القطعة	
الضب	B
الفراشة	C

السؤال الخامس

1 /.....

أي مما يلي المرحلة المختلفة بين دورة حياة الضب ودورة حياة القطة؟

A البيضة

B الصغير

C البالغ

السؤال السادس

1 /.....

أي مما يلي يحتاج محرك كي يتحرك؟



A






B



C

صل الكلمة في العمود (أ) بالصورة المناسبة في العمود (ب):

العمود (ب)




العمود (أ)
فرخ
طائر بالغ

3/.....

ضع علامة (✓) أمام العبارة الصحيحة، أو علامة (x) أمام العبارة الخطأ:

1. الحيوانات كائنات حية تتغذى وتتغذى وتتغذى وتتغذى وتتغذى وتتغذى.

()

2. ينمو الإنسان فيزداد طوله ووزنه.

()

3. تتحرك الكرة من تلقاء نفسها.

()

2025

2024

3/.....

أكمل الفراغات التالية مستعيناً بصندوق الكلمات:

البذرة	الحركة	البيض
--------	--------	-------

1. ينمو النبات من

2. تضع الطيور و الأسماك و الفراشات

3. الانتقال من مكان إلى آخر يسمى

صنف الصور التالية إلى كائن حي وكائن غير حي.



طائر



طاولة

كائن غير حي	كائن حي

