

شكراً لتحميلك هذا الملف من موقع المناهج القطرية



اختبار في الكائنات الحية والأشياء المتحركة

[موقع المناهج](#) ← [المناهج القطرية](#) ← [المستوى الأول](#) ← [علوم](#) ← [الفصل الأول](#) ← [الملف](#)

تاريخ نشر الملف على موقع المناهج: 14:57:37 2023-10-07

التواصل الاجتماعي بحسب المستوى الأول



روابط مواد المستوى الأول على تلغرام

[الرياضيات](#)

[اللغة الانجليزية](#)

[اللغة العربية](#)

[التربية الاسلامية](#)

المزيد من الملفات بحسب المستوى الأول والمادة علوم في الفصل الأول

[تدريبات مجمع الفرقان منتصف الفصل](#)

1

[تدريبات الاندلس الاثرائية نهاية الفصل](#)

2

[كتاب الطالب](#)

3

[اجابات تدريبات دعم واثراء نهاية الفصل الأول ٢٠٢٢م](#)

4

[تدريبات دعم واثراء نهاية الفصل الأول ٢٠٢٢م](#)

5









اختبار الوحدة الأولى – الكائنات الحية

مادة العلوم




الصف : الأول

ضع دائرة حول الإجابة الصحيحة :

رقم (1) السؤال	1 /.....
أي الحيوانات الآتية تتكاثر بالبيض؟	
	A
	B
	C

1 /.....	السؤال رقم (2)
أي من الصور الآتية كائن غير حي ؟	
	A
	B
	C

السؤال رقم (3)		1 /.....
ما الخاصية التي تدل عليها الصورة ؟		
A	يتنفس	
B	يتغذى	
C	يتحرك	

1 /.....	السؤال رقم (4)
أي المراحل التالية تمثل مرحلة الشباب في دورة حياة الانسان ؟	
	A
	B
	C

1 /.....	السؤال رقم (5)
أي الحيوانات التالية تلد؟	
	A
	B
	C

2 /.....

السؤال رقم (6)

صل ما في العمود (أ) بما يناسبه في العمود (ب):

(ب)



(أ)

سمكة

بذور





مدرسة الأندلس الخاصة للبنات
(روضة-ابتدائي-اعدادي-ثانوي)
رؤية المدرسة: "تَعَلَّمْ عَصْرِيَّ مُلْهَمٌ بِهُوِيَّةٍ وَطَنِيَّةٍ وَقِيَمِ إِسْلَامِيَّةٍ"

3/.....

السؤال رقم (7)

ضع علامة (✓) أمام العبارة الصحيحة، أو علامة (x) أمام العبارة الخاطئة :

1. تتكاثر الدجاجة بالبيض . ()

2. تتغذى الكائنات الحية بطرق مختلفة . ()

3. جميع الكائنات الحية لها دورة حياة . ()

4. الأنسان والحيوان والنبات من الكائنات الحية ()

2/.....

السؤال رقم (8)

أكمل الفراغات التالية مستعيناً بالكلمات في الجدول التالي:

الأسد - البيض

1. يُعتبر..... من الكائنات الحية التي تتحرك من تلقاء نفسها .

2. تتكاثر الفراشة ب

1/.....

السؤال رقم (9)

ما المرحلة الأولى من دورة حياة الضب ؟

.....



الوحدة الثانية



الأشياء المتحركة



صل ما في العمود (أ) بما يناسبه في العمود (ب):

يتحرك من تلقاء نفسه
<u>لا</u> يتحرك من تلقاء نفسه



ضع دائرة حول الإجابة الصحيحة :

1 /.....	رقم (2) السؤال
<p>أي مما يلي يتحرك من تلقاء نفسه</p>	
	<p>A</p>
	<p>B</p>
	<p>C</p>

1 /.....	رقم (3) السؤال
<p>أي مما يلي لا يتحرك من تلقاء نفسه</p>	
	A
	B
	C



مدرسة الأندلس الخاصة للبنات
(روضة-ابتدائي-اعدادي-ثانوي)
رؤية المدرسة: "تَعَلَّمْ عَصْرِيَّ مُلْهَمٌ بِهُوِيَّةٍ وَطَنِيَّةٍ وَقِيَمٍ إِسْلَامِيَّةٍ"

3/.....

السؤال رقم (4)

أكمل الفراغات التالية مستعيناً بالكلمات في الجدول التالي:

الأنسان - مختلفة - السيارة

1. تتحرك الأشياء بسرعات

2. تعتبر..... من الكائنات الغير حية التي لا تتحرك من تلقاء نفسها .

3. يُعتبر..... من الكائنات الحية التي تتحرك من تلقاء نفسها .