

تم تحميل هذا الملف من موقع المناهج القطرية



بنك أسئلة الوحدة الأولى الكائنات الحية

موقع المناهج ← المناهج القطرية ← المستوى الأول ← علوم ← الفصل الأول ← مذكرات وبنوك ← الملف

تاريخ إضافة الملف على موقع المناهج: 2024-10-20 13:40:13

ملفات اكتب للمعلم اكتب للطالب | اختبارات الكترونية | اختبارات | حلول | عروض بوربوينت | أوراق عمل
منهج انجليزي | ملخصات وتقارير | مذكرات وبنوك | الامتحان النهائي للمدرس

المزيد من مادة
علوم:

التواصل الاجتماعي بحسب المستوى الأول



صفحة المناهج
القطرية على
فيسبوك

الرياضيات

اللغة الانجليزية

اللغة العربية

التربية الاسلامية

المواد على تلغرام

المزيد من الملفات بحسب المستوى الأول والمادة علوم في الفصل الأول

بنك أسئلة الوحدة الثانية وحدة الأشياء المتحركة

1

بنك أسئلة الوحدة الأولى غير مجابة

2

أوراق إثرائية على الوحدة الأولى

3

أوراق عمل الوحدة الأولى غير مجابة

4

أوراق العمل الاثرائية تحضيراً لاختبار منتصف الفصل مع الإجابة النموذجية

5

بنك الأسئلة – الوحدة الأولى : الكائنات الحية

اختر الإجابة الصحيحة بوضع دائرة حول رمز الإجابة الصحيحة:

أي من الخيارات الآتية شيء غير حي ؟	1
الأرنب	A
الطاولة	B
الحصان	C

أي مما يلي كائن حي ؟	2
السيارة	A
الطاولة	B
الحصان	C

كيف تتكاثر النباتات؟	3
بالبويض	A
بالبذور	B
بالولادة	C

ما اسم الكائن الحي الذي يخرج من بيضة الطائر؟	4
فرخ	A
شرنقة	B
طائر صغير	C

ما هي طريقة تكاثر القطة؟	5
بوضع البيض	A
بالبذور	B
بالولادة	C

ما الذي تحتاجه الكائنات الحية لكي تعيش؟	6
كرسي	A
تلفاز	B
غذاء	C

لماذا يحتاج حيوان المها إلى الهواء؟	7
ليتغذى	A
ليتنفس	B
ليتحرك	C

ما هي المرحلة المختلفة بين دورة حياة الضب ودورة حياة القطة؟	8
البيضة	A
الصغير	B
البالغ	C

أي من هذه الحيوانات يخرج من البيضة؟	9
الفيل	A
القطة	B
الدجاجة	C

أي من هذه الحيوانات ينمو داخل جسم أمه؟	10
الدجاجة	A
الجمل	B
الثعبان	C

ماذا يطلق على كلاً من الهواء والرمال؟	11
كائنات غير حية	A
كائنات حية	B
نباتات	C


من أين تأتي البذور؟	12
الأوراق	A
الجنور	B
الزهرة	C



13	ما اسم المرحلة الأخيرة في دورة حياة الإنسان؟
A	حديث الولادة
B	إنسان بالغ
C	مراهق

14	أين تضع الفراشة بيضها ؟
A	على الأوراق
B	على الزهرة
C	على الأرض

15	ما المرحلة المتشابهة بين دورتي حياة كلاً من السمكة والفراشة ؟
A	اليرقة
B	البيضة
C	السمكة الصغيرة

	<p>16</p>
<p>ما الخاصية التي تعبر عنها الصورة التالية ؟</p>	<p>يتغذى</p>
<p></p>	<p>يتحرك</p>
<p></p>	<p>ينمو</p>

<p>كيف يتكاثر الجمل؟</p>	<p>17</p>
<p></p>	<p>بالبيض</p>
<p></p>	<p>بالنمو</p>
<p></p>	<p>بالولادة</p>

<p>ما اسم الكائن الذي يخرج من بيضة الفراشة؟</p>	<p>18</p>
<p></p>	<p>يرقة</p>
<p></p>	<p>شرنقة</p>
<p></p>	<p>فرخ</p>

لماذا تعتبر النباتات كائنات حية؟	19
لأنها تتغذى	A
لأنها تتكلم	B
لأنها تطير	C

كيف تتنفس النباتات؟	20
بالأوراق	A
بالساق	B
بالجذور	C

كم مرحلة تتضمن دورة حياة الضب؟	21
2	A
3	B
4	C

2- ضع علامة (√) أمام العبارة الصحيحة وعلامة (X) أمام العبارة الخاطئة:

- 1- الحَيَوَانَاتُ كائنات حية لأنها تَتَغَدَّى، وَتَتَنَفَّسُ وَتَتَحَرَّكُ. ()
- 2- تَكْبُرُ النَّعَامَةُ فَتَنُمُو مِنْ فَرْخٍ صَغِيرٍ إِلَى طَائِرٍ كَبِيرٍ ()
- 3- تنمو صغار القطة داخل البيضة. ()
- 4- تنفس جميع الكائنات الحية بنفس الطريقة. ()
- 5- يتكاثر الإنسان بالبيض. ()
- 6- يتحرك العصفور بالسباحة. ()
- 7- المرحلة المختلفة بين دورة حياة الضب ودورة حياة القطة هي البيض. ()
- 8- تضع الفراشة البيض في الماء ()
- 9- يتكاثر الضب عن طريق الولادة . ()
- 10- تعتني الطيور بصغارها. ()
- 11- ينتج النبات البالغ الأزهار . ()

3- صل بين كل كلمة والصورة المناسبة لها :



يتغذى



يتحرك



يتنفس



شئلة



قط حديث الولاة



شرنقة

الأسئلة المقالية

أجب عن هذا السؤال :

1- من أين ينمو النبات؟

.....

2- كيف يتحرك العصفور؟

.....

3- ما اسم المرحلة الأولى في دورة حياة السمكة؟

.....

4- كم عدد مراحل دورة حياة الطائر؟



.....

5- كيف تتكاثر القطة؟

.....

6- اكتب اسم المرحلة الناقصة في دورة حياة السمكة:

.....



7- ماذا تسمى المرحلة الأولى في دورة حياة النبات؟

.....

8- أي رقم يدل على مرحلة النبات البالغ؟

.....