

## شكراً لتحميلك هذا الملف من موقع المناهج القطرية



## تدريبات دعم وإثراء الفرقان نهاية الفصل

[موقع المناهج](#) ⇨ [المناهج القطرية](#) ⇨ [المستوى الأول](#) ⇨ [علوم الحاسب](#) ⇨ [الفصل الأول](#) ⇨ [الملف](#)

تاريخ نشر الملف على موقع المناهج: 2023-11-27 16:50:54

## التواصل الاجتماعي بحسب المستوى الأول



## روابط مواد المستوى الأول على تلغرام

[الرياضيات](#)

[اللغة الانجليزية](#)

[اللغة العربية](#)

[التربية الاسلامية](#)

## المزيد من الملفات بحسب المستوى الأول والمادة علوم الحاسب في الفصل الأول

[إجابة اختبار نهاية الفصل مدرسة الاندلس](#)

1

[اختبار نهاية الفصل مدرسة الاندلس](#)

2

[إجابة اختبار الوحدة الاولى حاسوبي](#)

3

[اختبار في الوحدة الاولى حاسوبي](#)

4

[تدريبات مجمع الفرقان منتصف الفصل](#)

5

# الحوسبة

## دعم وإثراء نهائية ف1

1  
الصف

العام الدراسي

1445 هـ

23-24 م



يا رب انصر عبادك المؤمنين  
وجنك الموحدين في كل مكان

القدس والأقصى ▼ حتماً ستعود

ملحوظة: هذه التدريبات لا تقني عن الكتاب المدرسي

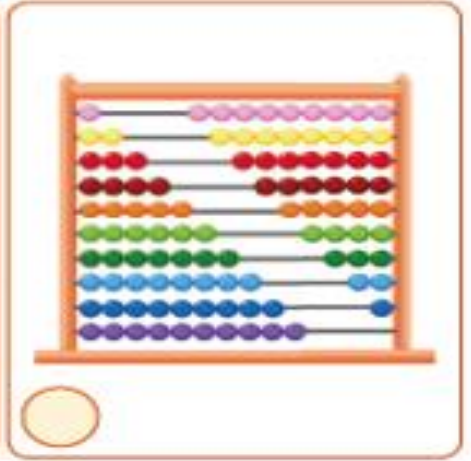
الاسم / ..... الصف/5-

التميز



السؤال الأول : أجب عما يأتي :

(١) - ضع علامة ( ✓ ) تحت صورة أحدها حاسوب في الحواسيب الآتية :



(٢) - من الأشياء التي لا يجب أن تكون بجوار الحاسوب .



(ب) -



(أ) -



(د) -



(ج) -

**السؤال الثاني :**

**أ- صل بين أجزاء الحاسوب والصورة المناسبة له وذلك بكتابة الرقم المناسب في الدائرة أمام الصورة المناسبة :**



١- السماعات  
**Speakers**



٢- لوحة المفاتيح  
**Key board**













٣- الشاشة  
**Monitor**



٤- الفأرة  
**Mouse**

ب- صل بين أسماء أدوات برنامج الرسام بالرمز المناسب له وذلك بكتابة الرقم المناسب في الدائرة أمام الأيقونة المناسبة :

١- الألوان  
Colors

٢- الفرشاة  
Brush

٣- أداة التعبئة والتلوين  
Fill

٤- القلم  
Pencil

٥- الممحاة  
Eraser

**السؤال الثالث :**

١- ضع علامة ( ✓ ) في المربع أسفل الصورة التي تحتوي على لوحة المفاتيح:



٢- ضع علامة ( ✓ ) تحت الصورة التي تدل على أحد أشكال الحواسيب .



٣- ضع دائرة حول الجهاز الذي نستطيع التحكم به عن طريق الإشارة :



**السؤال الرابع :****١- ضع دائرة حول صورة الشاشة فيما يأتي :****٢- ضع دائرة حول صورة الطابعة فيما يأتي :****٣- ضع دائرة حول صورة وحدة النظام فيما يأتي :**

## اماكن استخدام الحاسوب

صل بين مجالات استخدام الحاسوب بالصورة المناسبة وذلك بكتابة الرقم المناسب أمام الصورة المناسبة.

1 السوق

2 البنك

3 المدرسة

4 المطار

2. يمكن أن نستخدم الحاسوب المكتبي في:



## أنواع الملفات ( ملف نص – ملف صوت – ملف صورة – ملف فيديو

اختر الملف الرقمي الذي يتم إنشاؤه عندما تقوم بالتالي:




تكتب على لوحة المفاتيح.



تُسجل صوتك.



تلتقط صورة بواسطة الهاتف الذكي.



تسجل فيديو.



مع أطيب التمنيات بالتوفيق