

تم تحميل هذا الملف من موقع المناهج القطرية



تدريبات دعم واثراء نهاية الفصل مدرسة الأندلس غير مجابة في الوحدات  
الثانية عشر والثالثة عشر والرابعة عشر

[موقع المناهج](#) ← [المناهج القطرية](#) ← [المستوى الأول](#) ← [رياضيات](#) ← [الفصل الثاني](#) ← [الملف](#)

تاريخ إضافة الملف على موقع المناهج: 2024-05-30 11:43:53

إعداد: مدرسة الأندلس

التواصل الاجتماعي بحسب المستوى الأول



[اضغط هنا للحصول على جميع روابط "المستوى الأول"](#)

روابط مواد المستوى الأول على تلغرام

[الرياضيات](#)

[اللغة الانجليزية](#)

[اللغة العربية](#)

[التربية الاسلامية](#)

المزيد من الملفات بحسب المستوى الأول والمادة رياضيات في الفصل الثاني

[تدريبات دعم واثراء نهاية الفصل مدرسة الأندلس مع الإجابة  
النموذجية في الوحدات الثانية عشر والثالثة عشر والرابعة عشر](#)

1

[تدريبات دعم واثراء نهاية الفصل مدرسة الأندلس غير مجابة من  
الوحدة الحادية عشر وحتى الوحدة الرابعة عشر](#)

2

## المزيد من الملفات بحسب المستوى الأول والمادة رياضيات في الفصل الثاني

<a href="#">تدريبات دعم واثراء نهاية الفصل مدرسة الأندلس من الوحدة الحادية عشر وحتى الوحدة الرابعة عشر مع الإجابة النموذجية</a>	3
<a href="#">تدريبات دعم واثراء نهاية الفصل مدرسة الأندلس مع الإجابة النموذجية</a>	4
<a href="#">تدريبات دعم واثراء نهاية الفصل مدرسة الأندلس غير محابة</a>	5

مدرسة الأندلس الخاصة للبنات

العام الأكاديمي 2024/2023

الفصل الدراسي الثاني



أوراق عمل إثرائية الوحدة (12-13-14)

مادة الرياضيات

الصف الأول الابتدائي

اسم الطالبة/.....

الصف والشعبة /.....

1	أي العبارات تعبر عن الشمعة الحمراء؟	1
		
	الأطول	A
	الأقصر	B
	الأوسط	C

1	أي العبارات تعبر عن طول القلم الأحمر؟	2
		
	1	A
	2	B
	3	C

1	أي الساعة التي تشير الى تمام الساعة 4؟	3
		A
		B
		C

أي الأشكال التالية ليس له أحرف ؟

4

1



A



B



C

1

يمثل الشكل التالي ؟

5



مثلث


A


مربع

B

مستطيل

C

1		6
	أي خاصية من الخصائص التالية تمثل شكل المخروط ؟	
	له 6 أوجه	A
	له رأس واحد	B
	له سطحان مستويان	C

1		7
	أي خاصية من الخصائص التالية تمثل شكل الأسطوانة ؟	
	له سطحان مستويان	A
	له رأس واحد	B
	له 6 أوجه	C

1



أي خاصية من الخصائص التالية تمثل شكل شبة المكعب ؟

8

ليس له أحرف

A

له رأس واحد

B

له 6 أوجه


C



أكمل الفراغات التالية بما يناسبها من المربع أدناه:

قارني بين أطوال بكتابة الكلمة المناسبة في الفراغ

الأوسط - الأقصر - الأطول



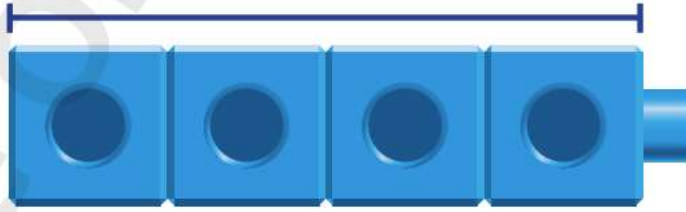
القلم الأزرق هو .....

أَحَوِّطُ الشَّيْءَ الْأَطْوَلَ.  
أَسْتَعْمِلُ الشَّيْءَ الْأَحْمَرَ لِلْمُسَاعَدَةِ.



السؤال الثالث:

يُمْكِنُنِي قِيَاسُ طُولِ الشَّيْءِ بِالْمُكَّعَّاتِ.



كم طول قلم التلوين ؟ .....

السؤال الخامس: أجب عما يلي:

اكتب الساعة الرقمية التي توضح نفس الوقت في الساعة ذات العقارب .



انتهت الاسئلة