

تم تحميل هذا الملف من موقع المناهج القطرية



أوراق عمل منتصف الفصل مدرسة الأندلس مع الإجابة النموذجية

[موقع المناهج](#) ⇨ [المناهج القطرية](#) ⇨ [المستوى الأول](#) ⇨ [علوم الحاسب](#) ⇨ [الفصل الأول](#) ⇨ [الملف](#)

تاريخ إضافة الملف على موقع المناهج: 16:42:23 2024-09-18

إعداد: مدرسة الأندلس

التواصل الاجتماعي بحسب المستوى الأول



اضغط هنا للحصول على جميع روابط "المستوى الأول"

روابط مواد المستوى الأول على تلغرام

[الرياضيات](#)

[اللغة الانجليزية](#)

[اللغة العربية](#)

[التربية الاسلامية](#)

المزيد من الملفات بحسب المستوى الأول والمادة علوم الحاسب في الفصل الأول

[أوراق عمل نهاية الفصل مدرسة الأندلس محابة](#)

1

[أوراق عمل نهاية الفصل مدرسة الأندلس](#)

2

[تدريبات دعم وإثراء الفرقان نهاية الفصل](#)

3

[إجابة اختبار نهاية الفصل مدرسة الأندلس](#)

4

[اختبار نهاية الفصل مدرسة الأندلس](#)

5

العام الأكاديمي 2023/2024

الفصل الأول



أوراق العمل الإثرائية

منتصف الفصل الدراسي الأول

مادة الحوسبة وتكنولوجيا المعلومات

الصف الأول الابتدائي

.....	اسم الطالب
الأول / .....	الصف والشعبت

السؤال الأول:ضع إشارة صح (✓) أسفل الإجابة الصحيحة للحالات التالية:

1- صورة مكبر الصوت



2- صورة الطابعة



3- صورة وحدة النظام



4- صورة الفأرة



السؤال الثاني:


ضع إشارة صح (✓) أسفل الصورة لوضعية الجلوس الصحيحة أو خطأ (X) أسفل الصورة

لوضعية الجلوس الغير صحيحة للحالات التالية:



السؤال الثالث:

صل أجزاء سطح المكتب بوظائفها وذلك بكتابة الرقم المناسب أمام الصورة المناسبة:

السؤال الرابع:

صل بين أزرار التحكم ونافذة البرنامج التي تناسب وظيفتها:





السؤال الخامس:اختر نوع الملف الرقمي الذي يتم إنشاؤه عندما تقوم بالتالي:

(1)



تكتب على لوحة المفاتيح.



(2)



تلتقط صورة بواسطة الهاتف الذكي.



(3)



تسجل فيديو.



السؤال السادس:صل اسماء الأجهزة في العمود (أ) بالصورة المناسبة في العمود (ب):

(ب)



(أ)

حاسوب محمول

حاسوب مكتبي

ساعة ذكية

هاتف ذكي

جهاز لوحي

السؤال السابع:

ضع إشارة صح (√) في دائرة الإجابة الصحيحة للحالات التالية:

1- أول آلة حاسبة ظهورا في التاريخ:



2- شكل الحواسيب في أيامنا هذه:



3- من أشكال الحواسيب:





العام الأكاديمي 2023/2024

الفصل الأول



أوراق العمل الإثرائية

منتصف الفصل الدراسي الأول

مادة الحوسبة وتكنولوجيا المعلومات

الصف الأول الابتدائي

.....	اسم الطالب
الأول / .....	الصف والشعبية

السؤال الأول:ضع إشارة صح (✓) أسفل الإجابة الصحيحة للحالات التالية:

1- صورة مكبر الصوت



2- صورة الطابعة



3- صورة وحدة النظام



4- صورة الفأرة



السؤال الثاني:


ضع إشارة صح (✓) أسفل الصورة لوضعية الجلوس الصحيحة أو خطأ (X) أسفل الصورة

لوضعية الجلوس الغير صحيحة للحالات التالية:

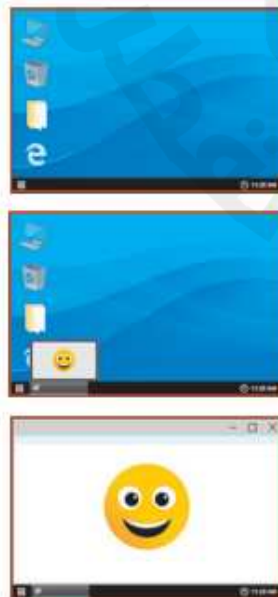


السؤال الثالث:

صل أجزاء سطح المكتب بوظائفها وذلك بكتابة الرقم المناسب أمام الصورة المناسبة:

السؤال الرابع:

صل بين أزرار التحكم ونافذة البرنامج التي تناسب وظيفتها:



السؤال الخامس:اختر نوع الملف الرقمي الذي يتم إنشاؤه عندما تقوم بالتالي:

تكتب على لوحة المفاتيح.

(1)



تلتقط صورة بواسطة الهاتف الذكي.

(2)



تسجل فيديو.

(3)





السؤال السادس:صل اسماء الأجهزة في العمود (أ) بالصورة المناسبة في العمود (ب):

(ب)

(أ)



حاسوب محمول

حاسوب مكتبي

ساعة ذكية

هاتف ذكي

جهاز لوحي



السؤال السابع:

ضع إشارة صح (✓) في دائرة الإجابة الصحيحة للحالات التالية:

1- أول آلة حاسبة ظهورا في التاريخ:



2- شكل الحواسيب في أيامنا هذه:



3- من أشكال الحواسيب:

