

تم تحميل هذا الملف من موقع المناهج القطرية



الاختبار النهائي منتصف الفصل

موقع المناهج ← المناهج القطرية ← المستوى الأول ← رياضيات ← الفصل الأول ← اختبارات ← الملف

تاريخ إضافة الملف على موقع المناهج: 2024-10-20 12:49:01

ملفات اكتب للمعلم اكتب للطالب | اختبارات الكترونية | اختبارات | حلول | عروض بوربوينت | أوراق عمل
منهج انجليزي | ملخصات وتقارير | مذكرات وبنوك | الامتحان النهائي للمدرس

المزيد من مادة
رياضيات:

التواصل الاجتماعي بحسب المستوى الأول



صفحة المناهج
القطرية على
فيسبوك

الرياضيات

اللغة الانجليزية

اللغة العربية

التربية الاسلامية

المواد على تلغرام

المزيد من الملفات بحسب المستوى الأول والمادة رياضيات في الفصل الأول

أوراق عمل الدائل في الأعداد وجمع الأعداد

1

أوراق عمل في الوحدة الأولى الأعداد من الصفر حتى عشرة غير محلولة

2

أوراق عمل في الوحدة الأولى الأعداد من الصفر حتى عشرة

3




أوراق عمل أبي حنيفة في جمع الأعداد


4


أوراق عمل الفرقان في الأعداد وطرح الأعداد مع الإجابة

5

تعليمات: اختر الإجابة الصحيحة لكل من الأسئلة من 1 إلى 3، وذلك بوضع علامة × داخل المربع المجاور للإجابة الصحيحة:

السؤال الأول	
1 /.....	
أي مما يلي يمثل 0 من السمك داخل الحوض؟	
A	
B	
C	

السؤال الثاني	
1 /.....	
ما العدد الكلي للضفادع؟	
	
<div style="display: flex; justify-content: space-around; align-items: center;"> <div style="text-align: center;"> <hr style="width: 50px; border: 0.5px solid black;"/> <hr style="width: 50px; border: 0.5px dashed black;"/> <hr style="width: 50px; border: 0.5px solid black;"/> </div> <div style="text-align: center;"> <hr style="width: 50px; border: 0.5px solid black;"/> 1 <hr style="width: 50px; border: 0.5px solid black;"/> </div> <div style="text-align: center;"> <hr style="width: 50px; border: 0.5px solid black;"/> 3 <hr style="width: 50px; border: 0.5px solid black;"/> </div> </div> <p style="text-align: center;">و يصبح</p>	
A	1
B	3
C	4

السؤال الثالث	
1 /	ما العدد الباقي للسلاحف؟
الكل 7	
يبقى	_____
A	3
B	4
C	7

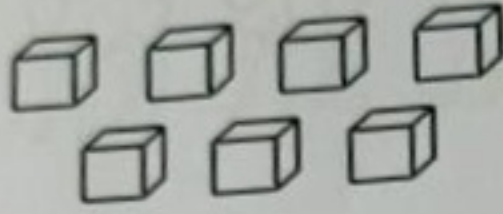


تعليمات: عند الإجابة على الأسئلة من 4 إلى 8، اكتب إجاباتك في المساحات المخصصة لذلك.

السؤال الرابع

2 /

عدّ المكعبات في كل مجموعة. ثم اكتب العدد في المكان المخصص.





السؤال الخامس

3 /

أ) عدّ الحيوانات في كل مجموعة. ثم اكتب العدد في المكان المخصص.





ب) لَوّن العدد المناسب من المربعات لتمثيل العدد 5.

2/.....

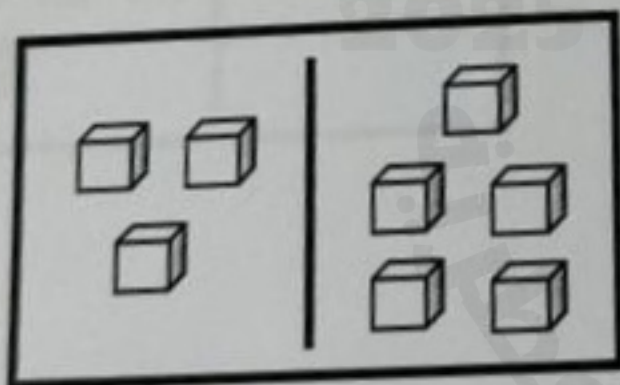
اكتب جملة الجمع المناسبة.



$$\underline{\quad} \text{ } \bigcirc \text{ } \underline{\quad} = \underline{\quad}$$

2 /.....

حل المسألة أدناه.




في صندوق 3 و 5 .

ما العدد الكلي للكرات في الصندوق؟

$$\underline{\quad} + \underline{\quad} = \underline{\quad}$$

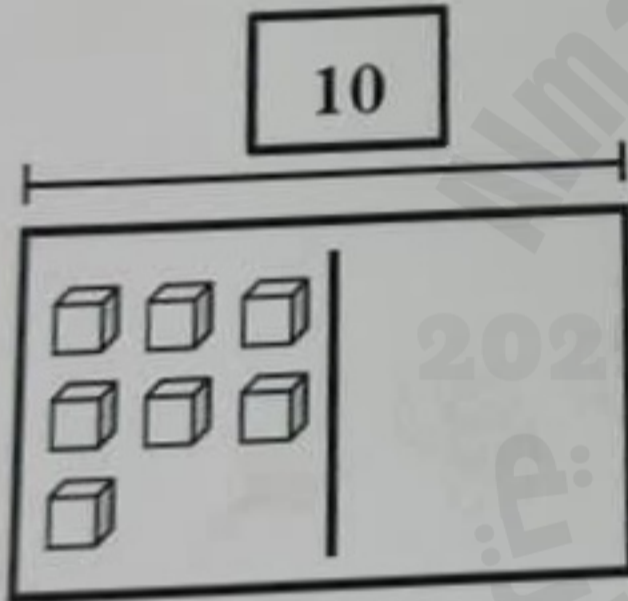
3/.....

(أ) اكتب جملة الطرح التي تمثل المسألة أدناه.



$$\underline{\quad} - \underline{\quad} = \underline{\quad}$$

(ب) أكمل النموذج، ثم حل المسألة أدناه.



لدى خالد 10 أقلام.

أعطى منها 7 أقلام لأخيه.

كم قلمًا بقي لديه؟

$$\underline{\quad} - \underline{\quad} = \underline{\quad}$$

انتهت الأسئلة

نتمنى لكم التوفيق