

تم تحميل هذا الملف من موقع المناهج القطرية



* للحصول على أوراق عمل لجميع الصفوف وجميع المواد اضغط هنا

<https://almanahj.com/qa>

* للحصول على أوراق عمل لجميع مواد المستوى الأول اضغط هنا

<https://almanahj.com/qa/1>

* للحصول على جميع أوراق المستوى الأول في مادة لغة عربية ولجميع الفصول, اضغط هنا

<https://almanahj.com/qa/1arabic>

* للحصول على أوراق عمل لجميع مواد المستوى الأول في مادة لغة عربية الخاصة بـ الفصل الثاني اضغط هنا

<https://almanahj.com/qa/1arabic2>

* لتحميل كتب جميع المواد في جميع الفصول للمستوى الأول اضغط هنا

<https://almanahj.com/qa/grade1>

* لتحميل جميع ملفات المدرس مجمع الفرقان اضغط هنا

للتحدث إلى بوت المناهج القطرية على تلغرام: اضغط هنا

https://t.me/qacourse_bot

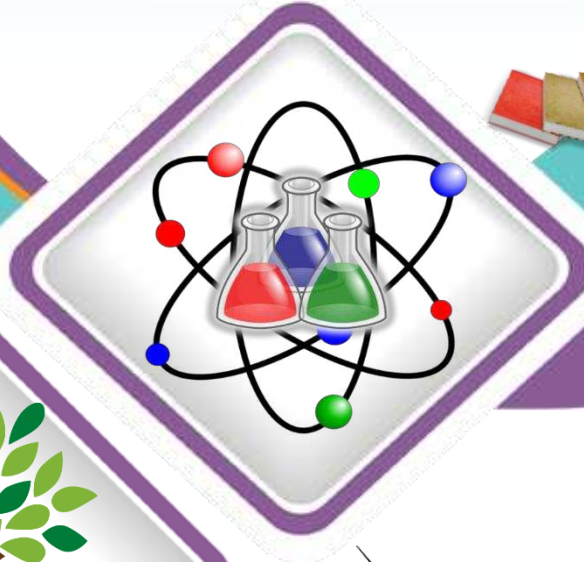
نهاية العام 1444

23-22

علوم 1

إجابات

تدريبات دعم وإثراء



واصلك
إبداعك



ملحوظة: هذه التدريبات لا تقني عن الكتاب المدرسي

الصف/1-

الاسم/



نموذج (1)

اختر الإجابة الصحيحة بوضع علامة (X) داخل المربع :-

السؤال الأول :

1 ما الذي يحتاجه متسلقو الجبال للبقاء على قيد الحياة؟




A الغذاء

B الماء

C الهواء

2 ما نوع الطعام الذي يتغذى عليه الحيوان المعروض في الصورة المقابلة؟




A النباتات و اللحوم .

B اللحوم .

C النباتات .

3 ما أهمية جزء النبات الموضح في الصورة؟



A يصنع الغذاء .

B يمتص الماء .

C ينتج البذور .

4

أي الكائنات الحية الآتية يمثل هذا الصغير إحدى مراحل حياته؟



A الفراشة.

B العصفور.


C الضفدع.

5


أي من الكائنات الحية الآتية يتكاثر عن طريق الولادة؟



A



B



C

6

أي مرحلة من مراحل نمو الإنسان توضحها هذه الصورة؟



A رضيع.

B طفل صغير.

C بالغ.


7 أي من الحيوانات الآتية يعيش مدة اقصر ؟

A . الجمل .

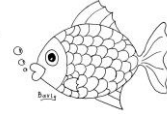
B . الذبابة .

C . الماعز .


8 أي من الكائنات الحية الآتية يجب توخي الحذر عند التعامل معه ؟



A



B



C

9 ما نوع القوة المستخدمة في تحريك كرة البولينج ؟



A . السحب .

B . الرفع .

C . الدفع .

10 ما نوع القوة التي يحرك بها الرجل الصندوق ؟



A رفع

B سحب

C دفع

11 ما نوع القوة التي تحرك الكرة بسرعة أقل و مسافة أقصر ؟

A صغيرة .

B متوسطة .

C كبيرة .

12 أي الكائنات الحية الآتية سيكون أكثر خطراً عندما يتحرك ؟

A الفيل .

B القطة .

C الفراشة .

العمود (2)

العمود (1)



أ- الصورة التي توضح حاجة الحيوان للغذاء كي يبقى على قيد الحياة.

ب - من النباتات التي تستغرق عدة سنوات ليكتمل نموها .

ج - من الكائنات الحية التي تعيش في الشجرة.

د - الصورة التي توضح تأثير تسرب بقع الزيت على الطيور.

- 1- الألعاب الإلكترونية من الأشياء التي يحتاجها الإنسان كي يبقى على قيد الحياة. (×)
- 2- جزء النبات الذي يقوم بامتصاص الماء للنبات الجذور. (√)
- 3- يستفيد الكائن الحي من الغذاء في النمو و الحركة. (√)
- 4- إلقاء النفايات البلاستيكية في البحر مفيد للأسماك والطيور. (×)
- 5- يجر الحصان العربة عن طريق قوة السحب. (√)
- 6- كي أحافظ على سلامتي أرتمي الخوذة عند ركوب الدراجة. (√)

السؤال الرابع: (15) أكمل الفراغ بالكلمة المناسبة من صندوق الكلمات:

(أ):

الحوث - النحلة - الأزهار

1- تنتج النباتات البذور عن طريق الأزهار

2- من الكائنات الحية التي تعيش مدة زمنية طويلة الحوث

3- من الكائنات الحية التي تكون لسعاتها مؤلمة النحلة

(ب):

أسرع - الحلزون - الدراجة النارية

4- من الأشياء التي تتحرك ببطء الدراجة النارية

5- تتحرك الكرة الخفيفة بشكل أسرع عن الكرة الثقيلة إذا أثرت عليهما نفس القوة.

السؤال الخامس: (16) أجب عن الأسئلة الآتية:

أ. تحتاج الكائنات الحية إلى بعض الأشياء كي تبقى على قيد الحياة. اكتب هذه الاحتياجات.

1- الماء -2 الغذاء

3- الهواء

ب. يوجد بعض الكائنات الحية يجب توخي الحذر في التعامل معها. اكتب بعض أسماء هذه الكائنات

1- الصفير -2 العقرب

3- النحلة -4 الضبارة

ج - اكتب أنواع القوة التي تؤثر على الأشياء فتحركها.

1- الدفع -2 السحب

نموذج (2)

السؤال الأول : اختر الإجابة الصحيحة بوضع علامة (X) داخل المربع :-

1 ما الذي يحتاجه رائد الفضاء في الفضاء للبقاء على قيد الحياة؟



A الغذاء

B الماء

C الهواء

2 ما نوع الطعام الذي يتغذى عليه الحيوان المعروض في الصورة المقابلة؟




A النباتات و اللحوم .

B اللحوم .

C النباتات .

3 ما أهمية جزء النبات الموضح في الصورة؟



A يمتص الماء.

B يتخلص من الماء الزائد .

C ينتج البذور .

4

أي الكائنات الحية الآتية يمثل هذا الصغير إحدى مراحل حياته؟



A الحصان.

B الجمل.


C المها.

5


أي من الكائنات الحية الآتية يتكاثر عن طريق البيض؟



A



B



C

6

أي مرحلة من مراحل نمو الإنسان توضحها هذه الصورة؟



A طفل صغير .

B مراهق .

C بالغ .

7 أي من الحيوانات الآتية يعيش مدة أطول ؟

A الفيل .

B النحلة .

C الفأرة .

8 أي من الكائنات الحية الآتية يجب توخي الحذر عند التعامل معه ؟



A



B



C

9 ما نوع القوة المستخدمة لعبة شد الحبل ؟


A السحب .

B الرفع .

C الدفع .



10 ما نوع القوة التي يحرك بها الرجل الصندوق ؟



A دفع

B سحب

C رفع

11 ما نوع القوة التي تؤثر بها على الكرة لتتحرك مسافة طويلة ؟

A صغيرة.

B متوسطة .

C كبيرة .

12 أي الكائنات الحية الآتية سيكون أكثر خطراً عندما يتحرك ؟


A الحصان .

B الأرنب .

C العصفور .

العمود (2)

العمود (1)



ب- الصورة التي توضح حاجة الحيوان للهواء كي يبقى على قيد الحياة.

ب - من النباتات التي تنمو بشكل أسرع و تنتج الأزهار و الثمار بسرعة.

ج - من الكائنات الحية التي تعيش في الغابة.

د - الصورة التي توضح أشياء تسبب تلوث البيئة.

- 1- الحاسوب من الأشياء التي يحتاجها الإنسان كي يبقى على قيد الحياة. (×)
- 2- جزء النبات الذي يقوم بصنع الغذاء للنبات الزهرة. (×)
- 3- الأطعمة التي لا يستفيد منها الجسم تسمى فضلات. (√)
- 4- يمنع الزيت الأسماك و الطيور من الغذاء و الحركة بطريقة مناسبة. (√)
- 5- نحرك الكرة في لعبة البولينج عن طريق قوة الدفع. (√)
- 6- أجلس في المقعد الخلفي للسيارة وأرتدي حزام الأمان. (√)

السؤال الرابع: (15) أكمل الفراغ بالكلمة المناسبة من صندوق الكلمات:

(أ):

القفازات - الفراشة - الجذور

- 1- تمتص النباتات الماء عن طريق الجذور
- 2- من الكائنات الحية التي تعيش مدة زمنية قصيرة الفراشة
- 3- عند التعامل مع النباتات التي لها أشواك أرتدي القفازات

(ب):

أبطأ- الحلزون - سيارات السباق

- 4- من الأشياء التي تتحرك بسرعة كبيرة سيارات السباق
- 5- تتحرك الكرة الثقيلة بشكل أبطأ عن الكرة الخفيفة إذا اثرت عليهما نفس القوة.

السؤال الخامس: (16) أجب عن الأسئلة الآتية:

أ. تحتاج الكائنات الحية إلى بعض الأشياء كي تبقى على قيد الحياة. اكتب هذه الاحتياجات.

1- الماء -2 الغذاء

3- الهواء

ب. يوجد بعض الكائنات الحية يجب توخي الحذر في التعامل معها. اكتب بعض أسماء هذه الكائنات

1- الثعبان -2 الصفير

3- النحلة -4 العقرب

ج - اكتب أنواع القوة التي تؤثر على الأشياء فتحركها.

1- الدفع -2 السحب