

شكراً لتحميلك هذا الملف من موقع المناهج القطرية



إجابة اختبار الوحدة الأولى حاسوبي

[موقع المناهج](#) ⇨ [المناهج القطرية](#) ⇨ [المستوى الأول](#) ⇨ [علوم الحاسب](#) ⇨ [الفصل الأول](#) ⇨ [الملف](#)

تاريخ نشر الملف على موقع المناهج: 14:47:32 2023-10-07

التواصل الاجتماعي بحسب المستوى الأول



روابط مواد المستوى الأول على تلغرام

[الرياضيات](#)

[اللغة الانجليزية](#)

[اللغة العربية](#)

[التربية الاسلامية](#)

المزيد من الملفات بحسب المستوى الأول والمادة علوم الحاسب في الفصل الأول

اختبار في الوحدة الأولى حاسوبي	1
تدريبات مجمع الفرقان منتصف الفصل	2
اوراق عمل نهاية الفصل	3
تحميل كتاب الأنشطة	4
تحميل كتاب الطالب	5



مجمع الأندلس التعليمي
Al Andalus Educational Complex
مدرسة الأندلس الخاصة للبنات
روضة • ابتدائي • إعدادي • ثانوي

وزارة التربية والتعليم والتعليم العالي
Ministry of Education and Higher Education
دولة قطر • State of Qatar



الاسم: _____
الشعبة: _____
رقم الجلوس: _____

اختبار الوحدة رقم (1)

(حاسوبي)

الهدف منه: رفع التحصيل الأكاديمي لمادة الوحدة الأولى

المادة: الحوسبة وتكنولوجيا المعلومات

المستوى: الأول الابتدائي

العام الدراسي: 2023-2024

درجة الاختبار

20



السؤال الأول: الأسئلة الموضوعية: (12 درجات)
اختاري الإجابة الصحيحة:

<u>الجهاز الذي يستخدم لتحريك مؤشر الفأرة:</u>		1.1
	A	
	B	
	C	
<u>تم اكتشاف الأرقام العربية.</u>		1.2
	A	
	B	
	C	



<u>الطريقة التي نستخدمها للعد (المعداد للحسابات):</u>		1.3
	A	
	B	
	C	
<u>أول حاسوب عملاق يسمى "ENIAC".</u>		1.4
	A	
	B	
	C	



تستخدم أجهزة الحاسوب في المدرسة.

1.5



A



B



C

تستخدم أجهزة الحاسوب في السوق.

1.6



A



B



C



مجمع الأندلس التعليمي
Al Andalus Educational Complex
مدرسة الأندلس الخاصة للبنات
روضة • ابتدائي • إعدادي • ثانوي

جزء من أجزاء الحاسوب الرئيسية وهي الفأرة .

1.7



A



B



C

ضع دائرة حول وضعية الجلوس السليمة لاستخدام الحاسوب

1.8



A



B



C



من طرائق المحافظة على نظافة مكتبك وحاسوبك " أحذر من أسلاك الكهرباء".

1.9



A



B



C

عندما نقوم بكتابة الكلمات والجمل بواسطة لوحة المفاتيح ننشئ ملف.

1.10



A



B






C



مجمع الأندلس التعليمي
Al Andalus Educational Complex
مدرسة الأندلس الخاصة للبنات
روضة • ابتدائي • إعدادي • ثانوي

1.11

الملف الذي نستخدمه من أجل التعلم "ملف الصوت":

	A	
	B	
	C	

1.12

من أجزاء جهاز الحاسوب " الشاشة":

	A	
	B	
	C	



الأسئلة المقالية:

السؤال الثاني : صلي بين العمودين: (8 درجات)

ب	أ
	حاسوب مكتبي
	جهاز لوحي
	ساعة زكية
	هاتف ذكي