

تم تحميل هذا الملف من موقع المناهج القطرية



أوراق عمل الدائل في الأعداد وجمع الأعداد

موقع المناهج ← المناهج القطرية ← المستوى الأول ← رياضيات ← الفصل الأول ← أوراق عمل ← الملف

تاريخ إضافة الملف على موقع المناهج: 2024-10-18 00:26:30

ملفات اكتب للمعلم اكتب للطالب الاختبارات الكترونية | اختبارات | حلول | عروض بوربوينت | أوراق عمل
منهج انجليزي | ملخصات وتقارير | مذكرات وبنوك | الامتحان النهائي للمدرس

المزيد من مادة
رياضيات:

إعداد: المدرس

التواصل الاجتماعي بحسب المستوى الأول



صفحة المناهج
القطرية على
فيسبوك

الرياضيات

اللغة الانجليزية

اللغة العربية

التربية الاسلامية

المواد على تلغرام

المزيد من الملفات بحسب المستوى الأول والمادة رياضيات في الفصل الأول

أوراق عمل في الوحدة الأولى الأعداد من الصفر حتى عشرة غير محلولة

1

أوراق عمل في الوحدة الأولى الأعداد من الصفر حتى عشرة

2

أوراق عمل أبي حنيفة في جمع الأعداد

3

أوراق عمل الفرقان في الأعداد وطرح الأعداد مع الإجابة

4

أوراق عمل في الأعداد وكتابتها

5







مدرسة عبد الحميد الدايل للبنين
منتصف الفصل الدراسي الأول للعام 2024-2025م
بنك الأسئلة الوحدة الثانية (الجزء الأول)

الصف: أول/.....

الاسم:


اختر الإجابة الصحيحة لكل من الأسئلة من 1 إلى 4، وذلك بوضع علامة × داخل المربع المجاور للإجابة الصحيحة:

السؤال رقم 1
  <p>أي جُمْلَةٍ جَمَعِ تَمَثَّلِ الصُّورَةَ؟</p>
<input type="checkbox"/> A $4 + 4 = 8$
<input type="checkbox"/> B $2 + 6 = 8$
<input type="checkbox"/> C $2 + 7 = 9$

السؤال رقم 2
  <p>ما العدد الكلي للسلاحف؟</p>
<input type="checkbox"/> A 2 و 4 يصبح 6
<input type="checkbox"/> B 3 و 3 يصبح 6
<input type="checkbox"/> C 5 و 1 يصبح 6

يُوجَدُ 2 مِنْ سَرَطَانَاتِ الْبَحْرِ فِي الدَّخْلِ. وَيُوجَدُ 5 سَرَطَانَاتِ بَحْرِي فِي الْخَارِجِ.

أَيُّ جُمْلَةٍ جَمَعَ أَدْنَاهُ تُمَثِّلُ الْعَدَدَ الْكُلِّيَّ لِسَرَطَانَاتِ الْبَحْرِ؟



Ⓐ $5 + 1 = 6$

Ⓒ $4 + 2 = 6$

Ⓑ $5 + 2 = 7$

Ⓓ $2 + 7 = 9$

أَيُّ جُمْلَةٍ جَمَعَ تُمَثِّلُ الصُّورَةَ؟



Ⓐ $5 + 3 = 8$

Ⓑ $3 + 3 = 6$

Ⓒ $7 + 2 = 9$

عند الإجابة على الأسئلة من 5 إلى 8 ، اكتب إجاباتك في المساحات المخصصة لذلك مع توضيح خطوات الحل:

السؤال رقم 5

ما العدد الكلي للعصافير؟



يُضِيحُ 9 _____

السؤال رقم 6

أكتب جملة الجمع .



أكتب جملة الجمع المناسبة:




..... ○ ○


ما العدد الكلي للطائرات .




_____ و _____ يُصبح


أكتب جملة الجمع .








أكتب جملة الجمع




اكتب جملة الجمع



_____ + _____ = _____



_____ + _____ = _____



_____ + _____ = _____