

شكراً لتحميلك هذا الملف من موقع المناهج القطرية



أوراق عمل نهاية الفصل مدرسة الأندلس

[موقع المناهج](#) ← [المناهج القطرية](#) ← [المستوى الأول](#) ← [علوم الحاسب](#) ← [الفصل الأول](#) ← [الملف](#)

تاريخ نشر الملف على موقع المناهج: 06:58:41 2023-12-02

التواصل الاجتماعي بحسب المستوى الأول



روابط مواد المستوى الأول على تلغرام

[الرياضيات](#)

[اللغة الانجليزية](#)

[اللغة العربية](#)

[التربية الاسلامية](#)

المزيد من الملفات بحسب المستوى الأول والمادة علوم الحاسب في الفصل الأول

[تدريبات دعم وإثراء الفرقان نهاية الفصل](#)

1

[إحابة اختبار نهاية الفصل مدرسة الاندلس](#)

2

[اختبار نهاية الفصل مدرسة الاندلس](#)

3

[إحابة اختبار الوحدة الاولى حاسوبي](#)

4

[اختبار في الوحدة الاولى حاسوبي](#)

5

العام الأكاديمي 2023/2024

الفصل الأول



أوراق العمل الإثرائية

نهاية الفصل الدراسي الأول

مادة الحوسبة وتكنولوجيا المعلومات

الصف الأول الابتدائي

.....	اسم الطالب
الأول /	الصف والشعبت

السؤال الأول:

اختر الإسم الصحيح لكل من أجزاء الحاسوب التالية:

لوحة المفاتيح

وحدة النظام

الفأرة

الشاشة









السؤال الثاني

اختر الإجابة الصحيحة :

1- أول آلة حاسبة تم اختراعها هي :








2- طريقة الجلوس الصحيحة أمام الحاسوب هي :







3- شكل أيقونة الملف النصي في الحاسوب هي :







4- الصورة التي تمثل الساعة الذكية هي :







السؤال الثالث :

صل بين العمود أ بما يناسبه من العمود ب :

ب



أ

طابعة

هاتف ذكي

الشاشة

جهاز لوحي

السؤال الرابع :أ- ضع إشارة صح (✓) أسفل الصورة المناسبة :

1- مكبر الصوت



2- الطابعة

السؤال الخامس :أولاً: اختر الإجابة الصحيحة بوضع إشارة صح (✓) في المربع أسفل الإجابة الصحيحة:

1- الحاسوب المكتبي هو



2- مثال على الحواسيب في أيامنا هذه



3- نستخدم الحاسوب في :

الحافلة



مدينة الألعاب



البنك



4- من أجزاء الحاسوب



5- مثال على جهاز حاسوبي



6- عند التقاط صورة بواسطة الهاتف الذكي ينشئ ملف:







7- جهاز نستطيع التحكم به بواسطة الصوت واللمس:







ثانياً: ضع إشارة صح (✓) في الدائرة أسفل الصورة حسب نوع الملف:










صوت












فيديو



نص



صورة

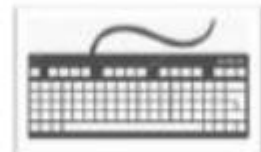
ثالثاً: اربط بسهم بين اسم الجهاز والصورة المناسبة:

الشاشة

الطابعة

مكبر الصوت

لوحة المفاتيح



اشارة صح (√) أسفل صورة الطابعة:



ضع إشارة صح (✓) أسفل صورة لوحة المفاتيح:



ضع علامة ✓ أسفل صورة الشاشة .Monitor.



ضع علامة ✓ أسفل صورة الفأرة .Mouse.



ضع علامة ✓ أسفل صورة مكبر الصوت Speakers.



رابعاً:

1- ضع إشارة صح (✓) في الدائرة بجانب الصورة التي تدل على احد اشكال الحواسيب:



2- ضع إشارة صح (√) في الدائرة بجانب جهاز الحاسوب الذي يتم التحكم به عن طريق الإشارة :



3- صل اسماء الأجهزة بالصورة المناسبة وذلك بكتابة الرقم المناسب أمام الصورة :



حاسوب محمول

1

ساعة ذكية

2

حاسوب مكتبي

3

جهاز لوحي

4

هاتف ذكي

5

4- حدد نوع الملف الذي يتم إنشاؤه عند استخدام كل من

1- الكاميرا الرقمية



2- الميكرفون

