

تم تحميل هذا الملف من موقع المناهج القطرية



أوراق عمل في الأعداد وكتابتها

موقع المناهج ← المناهج القطرية ← المستوى الأول ← رياضيات ← الفصل الأول ← أوراق عمل ← الملف

تاريخ إضافة الملف على موقع المناهج: 2024-10-18 00:09:00

ملفات اكتب للمعلم اكتب للطالب الاختبارات الكترونية | اختبارات | حلول | عروض بوربوينت | أوراق عمل
منهج انجليزي | ملخصات و تقارير | مذكرات و بنوك | الامتحان النهائي | للمدرس

المزيد من مادة
رياضيات:

إعداد: مدرسة عبد الحميد الدايل

التواصل الاجتماعي بحسب المستوى الأول



صفحة المناهج
القطرية على
فيسبوك

الرياضيات

اللغة الانجليزية

اللغة العربية

التربية الاسلامية

المواد على تلغرام

المزيد من الملفات بحسب المستوى الأول والمادة رياضيات في الفصل الأول

أوراق عمل في الطرح غير محلولة

1

أوراق عمل شاملة لاختبار منتصف الفصل غير محلولة

2

أوراق عمل شاملة لاختبار منتصف الفصل مع الإجابة

3

أوراق عمل دعم وإثراء الفرقان منتصف الفصل غير محلولة

4

أوراق عمل الأندلس الاثرانية منتصف الفصل غير مجابة

5




مدرسة عبد الحميد الدايل للبنين
منتصف الفصل الدراسي الأول للعام 2024-2025م
بنك الأسئلة الوحدة الأولى - الأعداد حتى 10




الاسم:

الصف: أول /

اختر الإجابة الصحيحة لكل من الأسئلة من 1 إلى 5 وذلك بوضع علامة × داخل المربع المجاور للإجابة الصحيحة:

تعليمات

السؤال رقم 1
أي مما يلي يمثل العدد 0 ؟
 <input type="checkbox"/> A
 <input type="checkbox"/> B
 <input type="checkbox"/> C

السؤال رقم 2
أي مما يلي يمثل العدد 7 ؟
 <input type="checkbox"/> A
 <input type="checkbox"/> B
 <input type="checkbox"/> C

السؤال رقم 3

أي مما يلي يمثل العدد 5 ؟



A




B



C

السؤال رقم 4

ما العدد الذي يمثل الأزهار ؟




A 7

B 9

C 10

السؤال رقم 5

ما العدد الكلي لحبات الفراولة ؟



A 5


B 8

C 9

عند الإجابة على الأسئلة من 6 إلى 5، اكتب إجاباتك في المساحات المخصصة لذلك مع توضيح خطوات الحل:

السؤال رقم (6)

ظلل 5 مربعات:



السؤال رقم 7

اكتب العدد الكلي للفراشات.



السؤال رقم 8


لون 5 مربعات إضافية. ثم اكتب العدد الكلي للمربعات الملونة:



أقرأ العدد . ثم أرسم نجوما لأمثل العدد :

10

أحوظ 8 أزهار. أكتب العدد.



عد وأكتب العدد المناسب :





.1

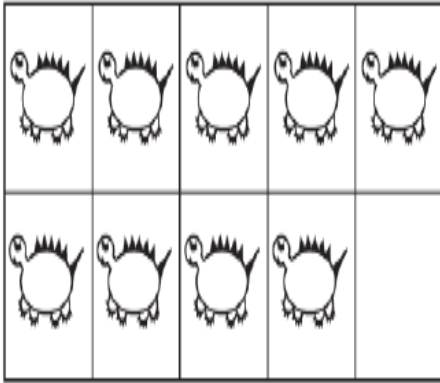





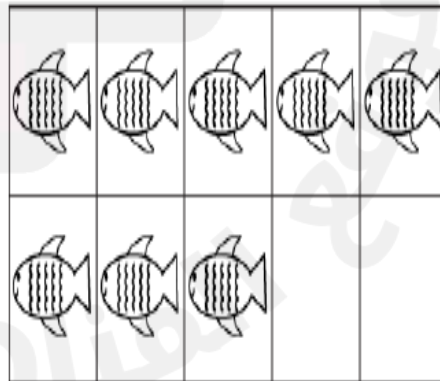
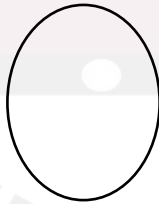
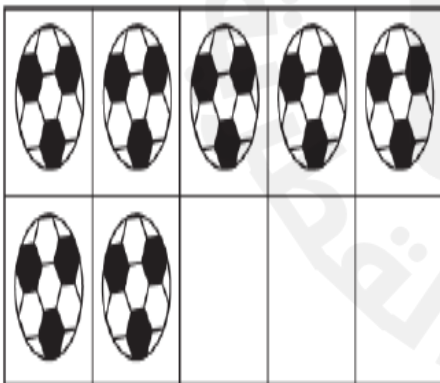

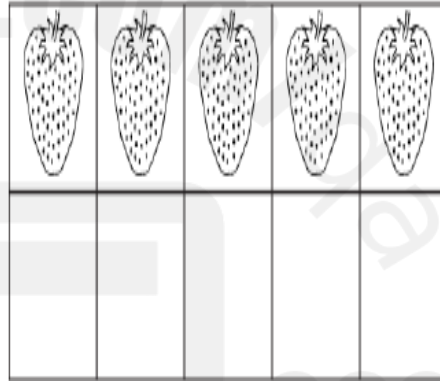
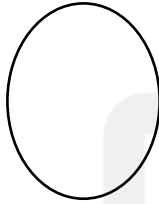
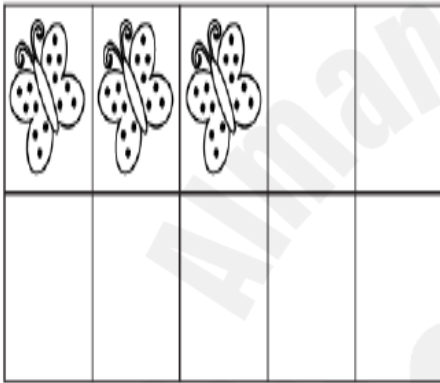

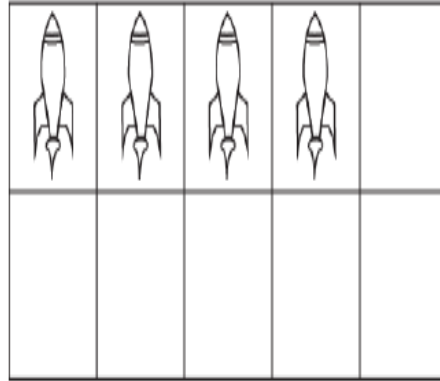



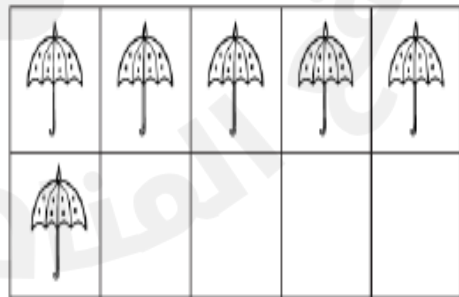
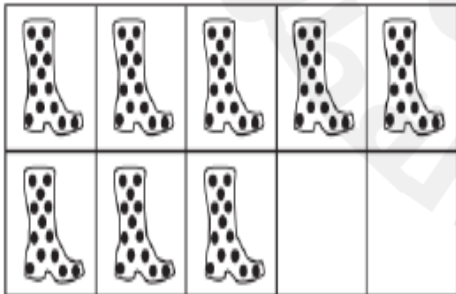

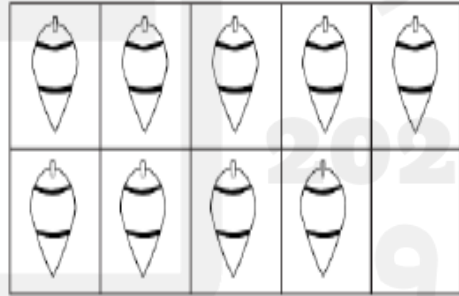


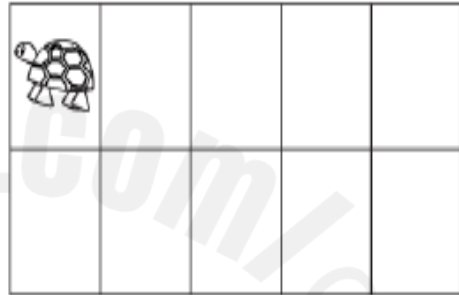


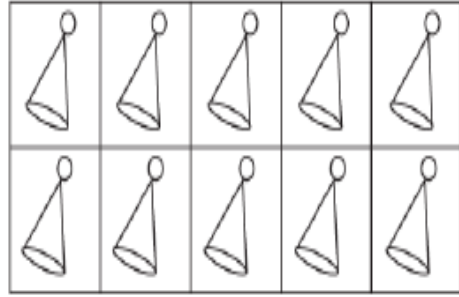

.2

عد وأكتب العدد المناسب :



9





اكتب الأعداد بالترتيب من 0 وحتى 10

_____	_____	_____	_____
-----	-----	-----	-----
_____	_____	_____	_____
_____	_____	_____	_____
-----	-----	-----	-----
_____	_____	_____	_____
_____	_____	_____	_____
-----	-----	-----	-----
_____	_____	_____	_____
_____	_____	_____	_____
-----	-----	-----	-----
_____	_____	_____	_____

