

## تم تحميل هذا الملف من موقع المناهج القطرية



## أوراق العمل الاثرائية نهاية الفصل غير مجانية

موقع المناهج ← المناهج القطرية ← المستوى الأول ← علوم الحاسب ← الفصل الأول ← أوراق عمل ← الملف

تاريخ إضافة الملف على موقع المناهج: 2024-11-30 09:18:43

ملفات اكتب للمعلم اكتب للطالب الاختبارات الكترونية | اختبارات | حلول | عروض بوربوينت | أوراق عمل  
منهج انجليزي | ملخصات وتقارير | مذكرات وبنوك | الامتحان النهائي للمدرس

المزيد من مادة:  
علوم الحاسب:

## التواصل الاجتماعي بحسب المستوى الأول



صفحة المناهج  
القطرية على  
فيسبوك

الرياضيات

اللغة الانجليزية

اللغة العربية

التربية الاسلامية

المواد على تلغرام

## المزيد من الملفات بحسب المستوى الأول والمادة علوم الحاسب في الفصل الأول

أوراق عمل الأندلس نهاية الفصل مع الإجابة النموذجية

1

أوراق عمل الأندلس نهاية الفصل غير مجانية

2

أوراق عمل اثرائية تحضيرية لاختبار منتصف الفصل مع الإجابة النموذجية

3

أوراق عمل اثرائية تحضيرية لاختبار منتصف الفصل غير مجانية

4

أوراق عمل دعم وإثراء الفرقان منتصف الفصل غير مجانية

5

العام الأكاديمي 2025/2024

الفصل الأول



أوراق العمل الإثرائية

نهاية الفصل الدراسي الأول

مادة الحوسبة وتكنولوجيا المعلومات

الصف الأول الابتدائي

.....	اسم الطالب
الأول / .....	الصف والشعبت

السؤال الأول:

في الصورة أدناه وللمحافظة على بيئة عمل نظيفة وآمنة قم بوضع دائرة حول الأشياء التي لا يجب وجودها بجانب الحاسوب.



السؤال الثاني:

ضع إشارة صح (✓) أسفل الصورة الصحيحة أو خطأ (X) أسفل الصورة الغير صحيحة للحالات

التالية:

1- وضعية الجلوس الصحيحة أمام الحاسوب:

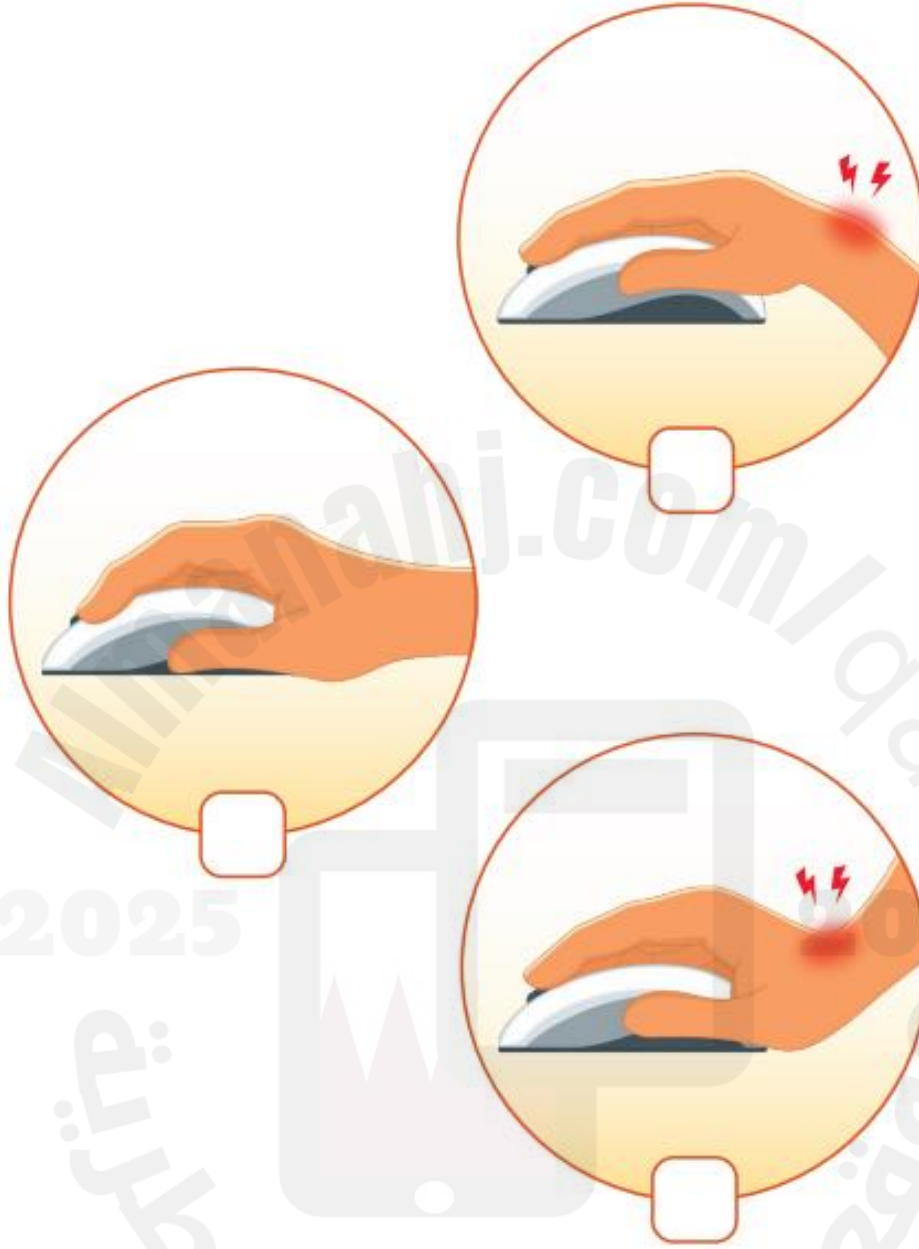


2- وضعية اليد الصحيحة للكتابة باستخدام لوحة المفاتيح:



Almanahj  
2024  
موقع المناهج  
القطري

3- وضعية اليد الصحيحة لإستخدام الفأرة:



2025

2024

موقع المناهج القطرية

السؤال الثالث:

صل اسماء أجزاء سطح المكتب في العمود ( أ ) بالصورة المناسبة في العمود ( ب ):

(ب)



(أ)

متصفح الإنترنت

سلة المحذوفات

مجلد


جهاز الحاسوب

السؤال الرابع:

اختر الإجابة الصحيحة بوضع علامة صح ( ✓ ) في المربع لكل من الحالات التالية:

1- ملف نصي










2- ملف صورة












3- ملف صوت










4- ملف فيديو











السؤال الخامس:

حدد نوع الملف الذي يتم إنشاؤه وذلك بوضع علامة صح (✓) في المربع لكل من الحالات التالية:

1- تكتب على لوحة المفاتيح



2- تسجل صوت



3- تلتقط صورة بواسطة الهاتف الذكي



## 4- تسجيل فيديو

السؤال السادس:

اختر الإجابة الصحيحة لكل من الحالات التالية:

1- أحد برامج الحاسوب والذي يستخدم للرسم:








2- الأداة التي يمكن الكتابة بها في برنامج الرسم:







3- أداة التعبئة المستخدمة في تلوين الأشكال في برنامج الرسام:








4- يتم حفظ الرسمة في برنامج الرسام باستخدام الأمر:

Paste

Save as

Open

1- يتم فتح رسمة تم حفظها مسبقاً في برنامج الرسام باستخدام الأمر:

Paste

Open

Save as