

شكراً لتحميلك هذا الملف من موقع المناهج القطرية



تدريبات مجمع الفرقان منتصف الفصل

[موقع المناهج](#) ⇨ [المناهج القطرية](#) ⇨ [المستوى الأول](#) ⇨ [علوم](#) ⇨ [الفصل الأول](#) ⇨ [الملف](#)

تاريخ نشر الملف على موقع المناهج: 18:31:11 2023-10-02 | اسم المدرس: مجمع الفرقان

التواصل الاجتماعي بحسب المستوى الأول



روابط مواد المستوى الأول على تلغرام

[الرياضيات](#)

[اللغة الانجليزية](#)

[اللغة العربية](#)

[التربية الاسلامية](#)

المزيد من الملفات بحسب المستوى الأول والمادة علوم في الفصل الأول

[تدريبات الاندلس الاثرائية نهاية الفصل](#)

1

[كتاب الطالب](#)

2

[احابات تدريبات دعم واثراء نهاية الفصل الأول ٢٠٢٢م](#)

3

[تدريبات دعم واثراء نهاية الفصل الأول ٢٠٢٢م](#)

4

[كتاب الطالب الفصل الأول 2022-2023](#)

5

العلوم 1

منتصف ف1

1445 هـ
23-24 م



واصل
التطبيق



ملحوظة: هذه التدريبات لا تفني عن الكتاب المدرسي

الصف/1-

الاسم/

التميز



السؤال الأول :

اختر الإجابة الصحيحة بوضع علامة (X) داخل المربع:-

1 ما الخاصية التي تظهرها الصورة من خصائص الكائنات الحية؟



A يتنفس

B يتغذى

C يتحرك

2 الصورة التي أمامك توضح خاصية من خصائص الكائنات الحية ما هي؟




A الحركة

B النمو

C التكاثر

3 أي من الآتي من الأشياء غير الحية؟



A



B



C

4

ما المرحلة التي توضحها الصورة التالية من دورة حياة الإنسان؟



A حديث الولادة

B طفل

C شاب

5

أي من الكائنات الحية يخرج من البيضة؟


A قطة

B سمكة

C بقرة

6

أي من الأشياء الآتية يتحرك من تلقاء نفسه؟



A



B



C

السؤال الثاني: أكمل الفراغ بالكلمة المناسبة من صندوق الكلمات:

الشرنقة - الدجاجة - الزلاجة - الشتلة - الفيل

- 1- من الكائنات الحية التي تنمو داخل جسم أمها
- 2- من الكائنات الحية التي تنمو صغارها داخل البيضة
- 3- أحد مراحل دورة حياة النبات
- 4- من الأشياء الثابتة التي لا تتحرك
- 5- من الأشياء الثابتة التي لا تتحرك

السؤال الثالث: صل ما في العمود (1) بما يناسبه من العمود (2).

العمود (2)	العمود (1)
	1- ما الصورة التي توضح أن الكائن ينمو.
	2- ما الصورة التي توضح كائن حي يتحرك عن طريق الطيران.
	3- الصورة التي توضح طفل رضيع في دورة حياة الإنسان.
	4- الصورة التي توضح سمكة بالغة .

ضع علامة (√) أمام العبارة الصحيحة و علامة (x) أمام العبارة الخطأ.

- 1- يحتاج حيوان الجمل الهواء ليعيش . ()
- 2- العصفور ينمو داخل البيضة قبل أن يولد . ()
- 3- السيارة من الكائنات الحية . ()
- 4- تتغذى الكائنات الحية بطرق متشابهة . ()
- 5- تختلف دورة حياة الفراشة عن دورة حياة الطائر في مرحلة الشرنقة. ()
- 6- تتحرك الطائرة من تلقاء نفسها . ()

أجب عن السؤال التالي:

أ. اكتب اسم بعض الكائنات الحية التي تنمو داخل جسم أمها قبل أن يولد.

ب- اكتب اسم بعض الكائنات الحية التي تبدأ دورة حياتها بمرحلة البيضة .

ج- توجد أشياء تتحرك من تلقاء نفسها اكتب اسم أحد هذه الأشياء.

نموذج (2)

السؤال الأول : اختر الإجابة الصحيحة بوضع علامة (X) داخل المربع :-

1 ما الحاجة التي يحتاجها الإنسان ليعيش في الصورة ؟




A يتنفس

B يتغذى

C يتحرك

2 الصورة التي أمامك توضح خاصية من خصائص الكائنات الحية ما هي ؟




A الحركة

B التكاثر

C التنفس


3 أي من الآتي من الأشياء غير الحية ؟



A



B



C

4

ما المرحلة التي توضحها الصورة التالية من دورة حياة الإنسان؟



A طفل

B مرهق

C شاب

5

أي من الكائنات الحية ينمو الجنين داخل أجسام أمهاتها قبل أن تولد؟


A الصقر.

B الفيل .

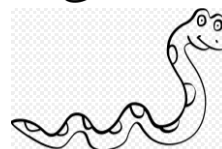
C البطة .

6

أي من الأشياء الآتية يحتاج مساعدة كي يتحرك؟



A



B




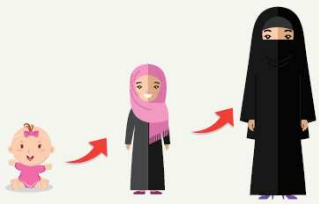


C

السؤال الثاني: أكمل الفراغ بالكلمة المناسبة من صندوق الكلمات:

السيارة - الصقر - الكرة - الباردة - أسد

- 1- من الكائنات الحية التي تنمو داخل جسم أمها
- 2- من الكائنات الحية التي تنمو صغارها داخل البيضة
- 3- أحد مراحل دورة حياة النبات
- 4- من الأشياء التي تحتاج مساعدة كي تتحرك
- 5- من الأشياء تتحرك بمساعدة المحرك

السؤال الثالث: صل ما في العمود (1) بما يناسبه من العمود (2).

العمود (2)	العمود (1)
	1- ما الصورة التي توضح أن الكائن الحي ينمو.
	2- ما الصورة التي توضح شتلة .
	3- الكائن الحي الذي تنمو صغاره داخل البيضة
	4- أحد مراحل دورة الفراشة

ضع علامة (√) أمام العبارة الصحيحة و علامة (x) أمام العبارة الخطأ.

- 1- الكائنات الحية تحتاج إلى أن تتغذى لتبقى حية . ()
- 2- ينمو صغير الجمل داخل جسم أمه قبل أن يولد . ()
- 3- الطائرة من الكائنات الحية. ()
- 4- في دورة حياة الإنسان ينمو الطفل إلى شاب. ()
- 5- تبدأ دورة حياة كل من الطائر والضب من البيضة. ()
- 6- تتحرك السيارة من تلقاء نفسها . ()

السؤال الخامس : أجب عن الأسئلة التالية:

أ. اكتب أسماء بعض الكائنات الحية تتكاثر عن طريق الولادة.

ب- اكتب أسماء بعض الكائنات الحية تتكاثر عن طريق البيض.

ج- اكتب اسم بعض الأشياء التي تحتاج مساعدة كي تتحرك.
