

تم تحميل هذا الملف من موقع المناهج القطرية



* للحصول على أوراق عمل لجميع الصفوف وجميع المواد اضغط هنا

<https://almanahj.com/qa>

* للحصول على أوراق عمل لجميع مواد المستوى الأول اضغط هنا

<https://almanahj.com/qa/1>

* للحصول على جميع أوراق المستوى الأول في مادة علوم ولجميع الفصول, اضغط هنا

<https://almanahj.com/qa/1science>

* للحصول على أوراق عمل لجميع مواد المستوى الأول في مادة علوم الخاصة بـ الفصل الثاني اضغط هنا

<https://almanahj.com/qa/1science2>

* لتحميل كتب جميع المواد في جميع الفصول لد المستوى الأول اضغط هنا

<https://almanahj.com/qa/grade1>

للتحدث إلى بوت المناهج القطرية على تلغرام: اضغط هنا

https://t.me/qacourse_bot



مدرسة عبد الحميد الدايل للبنين
الفصل الدراسي الثاني للعام 2022-2023
بنك الأسئلة الوحدة الثامنة

الاسم: الصف: أول/.....

اختر الإجابة الصحيحة لكل من الأسئلة من 1 إلى 3، وذلك بوضع علامة × داخل المربع المجاور للإجابة الصحيحة:

										السؤال رقم 1
1	2	3	4	5	6		8	9	10	أي مما يلي يمثل الأعداد الناقصة في اللوحة ؟
11	12	13	14	15	16		18	19	20	
21	22	23	24	25	26	27	28	29	30	
<input type="checkbox"/> A 17, 27										
<input type="checkbox"/> B 7, 17										
<input type="checkbox"/> C 7, 8										

				السؤال رقم 2
1	2	3	4	أي مما يلي يمثل الأعداد الناقصة في لوحة الأعداد ؟
11		13	14	
21		23	24	
31		33	34	
41	42	43	44	
<input type="checkbox"/> A 12, 13, 14				
<input type="checkbox"/> B 21, 22, 223				
<input type="checkbox"/> C 12, 22, 32				

				السؤال رقم 3	
		23	24	أي مما يلي يمثل الأعداد الناقصة في اللوحة ؟	
<input type="checkbox"/> A 11, 12					
<input type="checkbox"/> B 21, 22					
<input type="checkbox"/> C 31, 32					

السؤال رقم 4

أكتب الأعداد الناقصة على لوحة الأعداد .

71	72	73	74	75	76	77	78	79	___
___	___	83	84	85	86	87	88	89	90
91	92	93	94	95	96	97	98	99	100

السؤال رقم 5

أكتب الأعداد الناقصة على لوحة الأعداد لإكمال النمط.

41	42	___	44	45	46	47	48	49	50
51	52	___	54	55	56	57	58	59	60
61	62	___	64	65	66	67	68	69	70
71	72	73	74	75	76	77	78	79	80


السؤال رقم 6

أكتب الأعداد الناقصة على لوحة الأعداد لإكمال النمط.

1	2	3		5		7	8		10
11	12		14	15	16	17	18	19	
		23	24	25	26		28	29	30
31	32	33	34		36	37	38		
41	42	43		45		47	48		50

اختر الإجابة الصحيحة لكل من الأسئلة من 1 إلى 3، وذلك بوضع علامة × داخل المربع المجاور للإجابة الصحيحة:

السؤال رقم 1



ما العدد الذي تمثله المكعبات؟

A 30

B 40

C 60

السؤال رقم 2



ما العدد الذي تمثله المكعبات؟

A 47

B 51

C 60

السؤال رقم 3



ما العدد الكلي لنحللات؟

A 18


B 25


C 27


الدرجة (2)

السؤال رقم 4

عد بالعشرات ثم أكتب العدد :





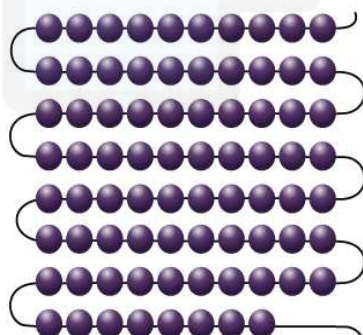


تم تحميل هذا الملف من

موقع المناهج القطرية

السؤال رقم 5

عد بالعشرات وبالأحاد، ثم أكتب العدد الكلي :









أكتب الأعداد الناقصة على لوحة الأعداد لإكمال النمط.

1	2	3	4	5	6	7	8	9	10
11	12	___	___	___	___	___	___	19	20
21	22	23	24	25	26	27	28	29	30

1	2	___	4	5	6	___	___	9	___
11	12	13	14	15	16	17	18	19	___
21	___	23	24	25	26	27	28	29	30
31	32	33	34	___	36	37	38	39	___
41	42	43	44	45	___	47	48	49	___

1	2	3	4	5	6	7	8	9	10
11	12	13	14	15	___	___	___	19	20
21	22	23	24	25	26	27	28	29	30
31	32	33	34	35	36	37	38	39	40
41	42	___	___	___	46	47	48	49	50

