

تم تحميل هذا الملف من موقع المناهج القطرية



أوراق عمل نهاية الفصل مع الإجابة النموذجية مدرسة الأندلس

[موقع المناهج](#) ⇨ [المناهج القطرية](#) ⇨ [المستوى الأول](#) ⇨ [علوم الحاسب](#) ⇨ [الفصل الثاني](#) ⇨ [الملف](#)

تاريخ إضافة الملف على موقع المناهج: 2024-05-31 14:00:30

إعداد: مدرسة الأندلس

التواصل الاجتماعي بحسب المستوى الأول



اضغط هنا للحصول على جميع روابط "المستوى الأول"

روابط مواد المستوى الأول على تلغرام

[الرياضيات](#)

[اللغة الانجليزية](#)

[اللغة العربية](#)

[التربية الاسلامية](#)

المزيد من الملفات بحسب المستوى الأول والمادة علوم الحاسب في الفصل الثاني

[أوراق عمل نهاية الفصل غير محابة مدرسة الأندلس](#)

1

[أوراق عمل نهاية الفصل مدرسة الخور مع الإجابة النموذجية](#)

2

[أوراق عمل نهاية الفصل غير محابة مدرسة الخور](#)

3

[تدريبات دعم واثراء نهاية الفصل مجمع الفرقان غير محابة](#)

4

[أوراق عمل اثرائية منتصف الفصل مدرسة الأندلس مع الإجابة](#)

5

المزيد من الملفات بحسب المستوى الأول والمادة علوم الحاسب في الفصل الثاني

[النموذجية](#)

مدرسة الأندلس الخاصة للبنات
العام الأكاديمي 2024/2023
نهاية الفصل الدراسي الثاني



أوراق عمل إثرائية وإجاباتها

مادة الحاسب الآلي

الصف: الأول

اسم الطالبة/.....

الصف والشعبة /.....

الوحدة الأولى: هيا نكتب

السؤال الأول: الأسئلة الموضوعية:

اختار الإجابة الصحيحة:



15


5

جهاز يستخدم لإدخال الأرقام والحروف:

1.1



A



B

1



C

يستخدم مفتاح لحذف الحروف:

1.2



A



B

1



C

لترك مسافة بين الكلمات نستخدم مفتاح

1.3



A

1

	B
	C






يستخدم مفتاح لكتابة الحروف الكبيرة باللغة الإنجليزية:	1.4
	A
	B
	C
	1

لتحريك المؤشر في جهاز الحاسوب نستخدم.	1.5
	A
	B
	C
	1

10

الأسئلة المقالية: (10 درجات)

السؤال الثاني: صل العمود (أ) مع ما يناسبه من العمود (ب) : (5 درجات)

(ب)	(أ)
	زر التراجع
	مفتاح انشاء سطر جديد
	مفاتيح الأسهم
	مفتاح الحذف
	المفتاح العالي








الوحدة الثانية: أنا أتصفح الإنترنت



20

7

السؤال الأول: الأسئلة الموضوعية:




اختار الإجابة الصحيحة:

<p>1.1 من أنواع الملفات الرقمية التي يمكنك إرسالها عبر البريد الإلكتروني " نص ":</p>	<p>1.1</p>
<p>A </p>	
<p>B </p>	<p>1</p>
<p>C </p>	
<p>1.2 من أنواع الملفات الرقمية التي يمكنك إرسالها عبر البريد الإلكتروني " صورة ":</p>	<p>1.2</p>
<p>A </p>	
<p>B </p>	<p>1</p>
<p>C </p>	
<p>1.3 من أنواع الملفات الرقمية التي يمكنك إرسالها عبر البريد الإلكتروني " صوت ":</p>	<p>1.3</p>
<p>A </p>	<p>1</p>

		B	
		C	


من أنواع الملفات الرقمية التي يمكنك إرسالها عبر البريد الإلكتروني " فيديو ":

1.4

		A	
		B	1
		C	

من مزايا استخدام البريد الإلكتروني " مجاني ":

1.5

		A	
		B	1
		C	

من مزايا استخدام البريد الإلكتروني " يجول العالم":		1.6
	A	1
	B	
	C	
من مزايا استخدام البريد الإلكتروني " سرعة تبادل الرسائل":		1.7
	A	1
	B	
	C	

الأسئلة المقالية: (13 درجات)

13

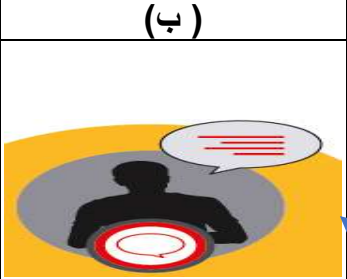



السؤال الثاني: صل العمود (أ) مع ما يناسبه من العمود (ب) : (5 درجات)



السؤال الثالث: صل العمود (أ) مع ما يناسبه من العمود (ب) : (4 درجات)

(ب)	(أ)
	زيارة موقع الويب
	التواصل مع الآخرين
	الاستماع إلى الملفات الصوتية ومشاهدة مقاطع الفيديو
	استخدام الخرائط لتحديد المواقع

السؤال الرابع: صل العمود (أ) مع ما يناسبه من العمود (ب) : (4 درجات)

(ب)	(أ)
	لا تشارك معلومات الشخصية
	لا تتحدث مع الغرباء
	لا تشارك أبدًا كلمات المرور الخاصة بك
	لا ترسل صوراً شخصية للغرباء



الوحدة الثالثة: هيا بنا نفكر

10

السؤال الأول: الأسئلة الموضوعية:




اختار الإجابة الصحيحة:

7	1.1	ما هي الخطوة الأولى من خطوات تسلسل الوضوء؟	
		 A	
		 B	1
		 C	
	1.2	ما هي الخطوة الثانية من خطوات تسلسل الوضوء؟	
		 A	
		 B	1
		 C	
	1.3	ما هي الخطوة الأولى من خطوات تسلسل ارتداء الجوارب؟	
		 A	1

 <p>بعد الجوارب نرتدي الأحذية.</p>	B	
	C	

ما هي الخطوة الثانية من خطوات تسلسل ارتداء الجوارب؟




1.4

 <p>أولاً نرتدي الجوارب.</p>	A	
 <p>بعد الجوارب نرتدي الأحذية.</p>	B	1
	C	



أوجد الشكل المفقود في النمط التالي:

1.5




	A	
	B	1
	C	

		<p>أوجد الشكل المفقود في النمط التالي:</p>	<p>1.6</p>
		 <p>A</p>	
		 <p>B</p>	<p>1</p>
		 <p>C</p>	
		<p>أوجد الشكل المفقود في النمط التالي:</p>	<p>1.7</p>
		 <p>A</p>	
		 <p>B</p>	<p>1</p>
		 <p>C</p>	

3

الأسئلة المقالية: (3 درجات)

السؤال الثاني: صل العمود (أ) مع ما يناسبه من العمود (ب) : (3 درجات)

(ب)	(أ)
	نمط اللون
	نمط الشكل
	نمط الشكل واللون

انتهت الأسئلة