

شكراً لتحميلك هذا الملف من موقع المناهج القطرية



إجابة اختبار الوحدة الثانية

[موقع المناهج](#) ← [المناهج القطرية](#) ← [المستوى الأول](#) ← [رياضيات](#) ← [الفصل الأول](#) ← [الملف](#)

تاريخ نشر الملف على موقع المناهج: 2023-10-07 14:56:09

التواصل الاجتماعي بحسب المستوى الأول



روابط مواد المستوى الأول على تلغرام

[الرياضيات](#)

[اللغة الانجليزية](#)

[اللغة العربية](#)

[التربية الاسلامية](#)

المزيد من الملفات بحسب المستوى الأول والمادة رياضيات في الفصل الأول

اختبار في الوحدة الثانية	1
اختبار في الوحدة الاولى الأعداد	2
تدريبات مجمع الفرقان منتصف الفصل	3
اوراق عمل اثرائية نهاية الفصل في العد والجمع	4
كتاب الطالب الجزء الثاني	5

ما جملة الجمع التي تمثل المسألة التالية؟




A $2 + 2 = 4$

B $5 + 2 = 7$

C $2 + 3 = 5$

ما جملة الجمع التي تمثل الصورة التالية؟



A $3 + 1 = 4$

B $5 + 2 = 7$

C $3 + 4 = 7$

ما جملة الجمع التي تمثل الصورة التالية؟




A $3 + 1 = 4$

B $4 + 5 = 9$


C $3 + 6 = 9$

اكتب جملة الجمع التي تمثل كل مسألة.



$$\underline{1} + \underline{5} = \underline{6}$$

(1)



$$\underline{4} + \underline{4} = \underline{8}$$

(2)

انظر إلى الصورة و اكتب كم الباقي؟

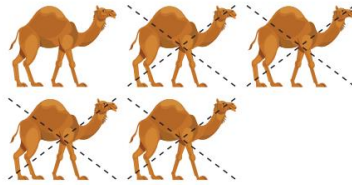


A 2

B 6

C 8

ما جملة الطرح التي تمثل الصورة التالية؟



A $4 - 1 = 3$

B $5 - 1 = 4$

C $5 - 4 = 1$

ما جملة الطرح التي تمثل الصورة التالية؟



A $4 - 3 = 1$

B $7 - 4 = 3$

C $7 - 3 = 4$



مدرسة الأندلس الخاصة للبنات
(روضة-ابتدائي-اعدادي-ثانوي)
رؤية المدرسة: "تَعَلَّمْ عَصْرِيْ مُلْهَمٌ بِهُوِيَّةٍ وَطَنِيَّةٍ وَقِيَمٍ إِسْلَامِيَّةٍ"

اكتب جملة الطرح التي تمثل كل مسألة.




$$\underline{4} - \underline{3} = \underline{1}$$




$$\underline{5} - \underline{4} = \underline{1}$$

اكتب عدد المكعبات الحمراء والمكعبات الزرقاء. ثم أذكر بكم أكثر؟ اكتب جملة الطرح لتمثيل المسألة.




5 مُكْعَبَاتٍ زَرْقَاءٍ
1 مِنَ الْمُكْعَبَاتِ الْحَمْرَاءِ
أَيُّ لَوْنٍ مُكْعَبَاتُهُ أَكْثَرُ؟
بِكَمْ أَكْثَرُ؟
$$\underline{5} - \underline{1} = \underline{4}$$



4 مُكْعَبَاتٍ حَمْرَاءٍ
2 مِنَ الْمُكْعَبَاتِ الزَّرْقَاءِ
أَيُّ لَوْنٍ مُكْعَبَاتُهُ أَكْثَرُ؟
بِكَمْ أَكْثَرُ؟
$$\underline{4} - \underline{2} = \underline{2}$$

بكم يزيد عدد الطيور الزرقاء عن الصفراء؟ اكتب جملة الطرح التي تمثل المسألة.



$$\underline{6} - \underline{5} = \underline{1}$$

بكم يزيد عدد الأشرطة الحمراء عن الزرقاء؟ اكتب جملة الطرح التي تمثل المسألة.



$$6 - 2 = 4$$

لدى سميرة 7 أزهار. لدى فوزية 6 أزهار.
ما الجُمْلَةُ العَدَدِيَّةُ الَّتِي تُمَثِّلُ كَمَ زَهْرَةٍ لَدَى فَوْزِيَّةٍ
أَقَلِّ مِمَّا لَدَى سَمِيرَةَ؟



$$7 - 6 = 1$$

	منسقة القسم		معلمة الصف
			الخطوة العلاجية