

تم تحميل هذا الملف من موقع المناهج القطرية



## أوراق عمل دعم وإثراء الفرقان منتصف الفصل مع الإجابة النموذجية

موقع المناهج ← المناهج القطرية ← المستوى الأول ← علوم الحاسب ← الفصل الأول ← أوراق عمل ← الملف

تاريخ إضافة الملف على موقع المناهج: 2024-10-22 11:57:17

ملفات اكتب للمعلم اكتب للطالب | اختبارات الكترونية | اختبارات | حلول | عروض بوربوينت | أوراق عمل  
منهج انجليزي | ملخصات وتقارير | مذكرات وبنوك | الامتحان النهائي للمدرس

المزيد من مادة:  
علوم الحاسب:

## التواصل الاجتماعي بحسب المستوى الأول



صفحة المناهج  
القطرية على  
فيسبوك

الرياضيات

اللغة الانجليزية

اللغة العربية

التربية الاسلامية

المواد على تلغرام

## المزيد من الملفات بحسب المستوى الأول والمادة علوم الحاسب في الفصل الأول

أوراق عمل اثرائية لاختبار منتصف الفصل غير مجابة

1

أوراق عمل الأندلس الاثرائية منتصف الفصل غير مجابة

2

أوراق عمل الأندلس الاثرائية منتصف الفصل مجابة

3

اختبار الوحدة الأولى غير مجاب

4

أوراق عمل منتصف الفصل مجمع الفرقان مع الإجابة النموذجية

5

# الحواسبة

إجابات

تدريبات

1446 هـ - 24-25 م

منتصف ف 1  
دعم  
وإثراء



يا رب انصر عبادك المؤمنين  
وجنك الموحدين في كل مكان

القدس والأقصى ▼ حتماً ستعود

ملحوظة: هذه التدريبات لا تقني عن الكتاب المدرسي

الاسم / ..... الصف / 1-

التميز



**السؤال الأول: ضع دائرة حول الإجابة الصحيحة فيما يلي:**




**(1) يعتبر من أحدث أنواع أجهزة الحاسوب:**

	(ج)		(ب)		(أ)
---	-----	---	-----	---	-----




**(2) يعتبر من أقدم أنواع أجهزة الحاسوب:**

	(ج)		(ب)		(أ)
--	-----	--	-----	--	-----


**(3) الصورة التي تمثل الحاسوب في المطار:**

	(ج)		(ب)		(أ)
---	-----	---	-----	---	-----


**(4) الصورة التي تمثل الحاسوب في السوق:**

	(ج)		(ب)		(أ)
---	-----	---	-----	---	-----

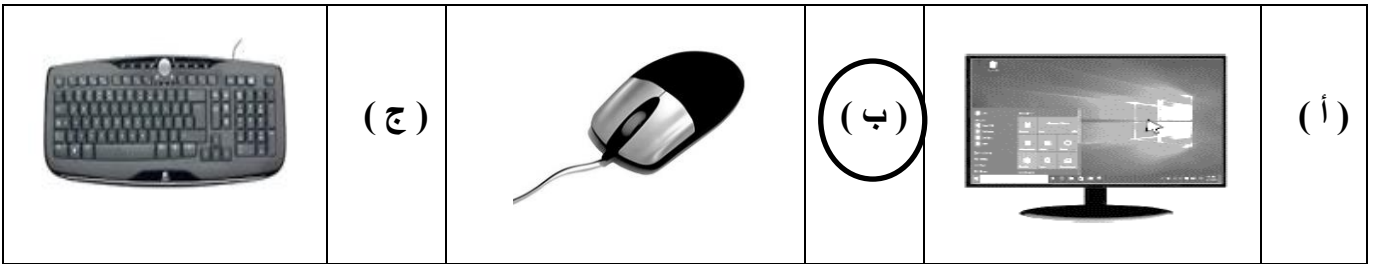
( 5 ) الصورة التي تمثل الحاسوب في المدرسة :



( 6 ) الصورة التي تمثل الحاسوب في البنك :






( 7 ) صورة الفأرة :



( 8 ) صورة وحدة النظام :






( 9 ) صورة لوحة المفاتيح :

	( ج )		( ب )		( أ )
---	-------	---	-------	---	-------

( 10 ) صورة الطابعة :

	( ج )		( ب )		( أ )
--	-------	---	-------	---	-------

( 11 ) صورة مكبر الصوت :

	( ج )		( ب )		( أ )
---	-------	---	-------	---	-------

( 12 ) صورة الشاشة :

	( ج )		( ب )		( أ )
---	-------	---	-------	---	-------

## السؤال الثاني:

- صل بين الكلمة في العمود ( أ ) بالصورة المناسبة في العمود ( ب )

وذلك بكتابة الرقم المناسبة في الدائرة أمام الصورة:

( ب )	
	4
	1
	5
	2
	3

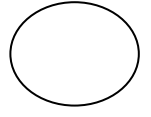

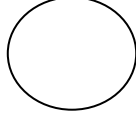
( أ )	
حاسوب محمول	1
حاسوب لوحي	2
ساعة ذكية	3
الطابعة	4
الشاشة	5






### السؤال الثالث:

أولاً - أجب عن الأسئلة الآتية بوضع ( ✓ ) أسفل الصورة المناسبة :




(1) الصورة التي تحتوي على هاتف ذكي :



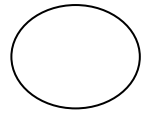
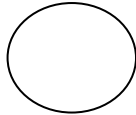

(2) الصورة التي تحتوي على الشاشة :





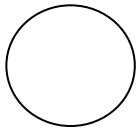
(3) الصورة التي تحتوي على الطابعة :




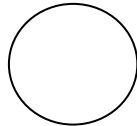
(4) الصورة التي تحتوي على لوحة المفاتيح :



(5) الصورة التي تحتوي على الساعة الذكية :






(6) الصورة التي تحتوي على مكبرات الصوت :








(7) الصورة التي تحتوي على وحدة النظام :



(8) الصورة التي تحتوي على الفأرة :



(9) الصورة التي تحتوي على حاسوب مكتبي :

