

تم تحميل هذا الملف من موقع المناهج القطرية



بنك أسئلة الوحدة الخامسة استخدام المواد مع الإجابة النموذجية

[موقع المناهج](#) ⇨ [المناهج القطرية](#) ⇨ [المستوى الأول](#) ⇨ [علوم](#) ⇨ [الفصل الثاني](#) ⇨ [الملف](#)

تاريخ إضافة الملف على موقع المناهج: 2024-05-29 11:32:42

إعداد: مدرسة عبد الحميد الدليل

التواصل الاجتماعي بحسب المستوى الأول



اضغط هنا للحصول على جميع روابط "المستوى الأول"

روابط مواد المستوى الأول على تلغرام

[الرياضيات](#)

[اللغة الانجليزية](#)

[اللغة العربية](#)

[التربية الاسلامية](#)

المزيد من الملفات بحسب المستوى الأول والمادة علوم في الفصل الثاني

[بنك أسئلة الوحدة الرابعة مع الإجابة النموذجية](#)

1

[بنك أسئلة الوحدة السادسة الغذاء والنمو](#)

2

[بنك أسئلة الوحدة السابعة](#)

3

[بنك أسئلة الوحدة الخامسة](#)

4


[بنك أسئلة الوحدة الرابعة](#)


5

بنك الأسئلة – الوحدة الخامسة : استخدام المواد

اختر الإجابة الصحيحة بوضع علامة (X) داخل المربع:-

أي الصور التالية توضح شيء طري؟		1
	<input type="checkbox"/> A	
	<input checked="" type="checkbox"/> B	
	<input type="checkbox"/> C	

ما هو ملمس الحجارة؟		2
		
طري	<input type="checkbox"/> A	
خشن	<input type="checkbox"/> B	
ناعم	<input checked="" type="checkbox"/> C	

أي مما يأتي يصف ملمس الريش؟		3
		
ناعم	<input checked="" type="checkbox"/> A	
خشن	<input type="checkbox"/> B	
قاسي	<input type="checkbox"/> C	

	أي مما يأتي يصف خصائص المسمار؟	4
	طري	A
	باهت	B
	قاسي	C




	أي المواد التالية قاسية ولامعة؟	5
	المعدن	A
	الورق	B
	القماش	C

	أي المواد التالية لا يمر الضوء من خلالها؟	6
	الشفافة	A
	شبه الشفافة	B
	المعتمة	C

	أي مادة يمكن أن تصنع منها عدسات النظارات الطبية؟	7
	المعدن	A
	الورق	B
	الزجاج	C

أي الأشياء التالية مصنوع من المعدن؟		8
القلم	A	
المسمار	B	
الكتاب	C	

أي الأشياء التالية يستخدم القماش في صناعته؟		9
الكتب	A	
الملابس	B	
الطاوله	C	


أي من الأشياء التالية شفافة؟		10
	A	
	B	
	C	

ما المادة الأكثر تفضيلاً لصنع لعب الأطفال؟		11
الزجاج	A	
البلاستيك	B	
المعدن	C	

12 ما الشيء المصنوع من أكثر من مادة ؟		
	A	
	B	
	C	

13 بأي حاسة أستطيع أن أميز بين المواد الخشنة والمواد الناعمة ؟		
اللمس	A	
التذوق	B	
الشم	C	

14 ما هي المادة التي نستخدمها لنصنع أشياء نحتاج أن نرى من خلالها بوضوح ؟		
المادة المعتمة	A	
المادة الشفافة	B	
المادة شبه الشفافة	C	

15 ما المادة التي صنع منها الباب في الصورة الموضحة ؟		
		
الزجاج	A	
الخشب	B	
المعدن	C	

ضع علامة (√) أمام العبارة الصحيحة وعلامة (x) أمام العبارة الخطأ:

(X)	تصنع جميع الأشياء من مواد شفافة.	1
(√)	يمكن أن نميز بين المواد الناعمة والخشنة بواسطة حاسة اللمس.	2
(X)	الزجاج مناسب لصنع لعب الأطفال .	3
(X)	الورق مادة قاسية وليست طرية.	4
(X)	لا نستطيع أن نحدد المواد المختلفة التي صنعت منها الأشياء.	5
(√)	نستخدم المواد المعتمدة لنصنع أشياء لا نحتاج أن نرى من خلالها .	6
(√)	يستخدم الحديد في بناء المنازل لأنه قاس .	7
(√)	تصنع النافذة من الزجاج لأنه شفاف.	8
(√)	الأشياء اللامعة يمكن أن تعكس الضوء .	9
(X)	يمكن تحديد المادة التي صنع منها الشيء باستخدام حاسة التذوق.	10
(X)	لا يستطيع الشخص الذي يرتدي نظارة طبية أن يرى من خلالها .	11

أصل بخط بين الصور والمفردات التي تناسبها :



(1) شيء لامع



(2) شيء خشن



(3) شيء يغوص



(4) شيء باهت



(5) شيء شفاف

الأسئلة المقالية

1- ما الخاصية التي تجعل الزجاج مناسب لصنع النظارات الطبية؟



شفاف

2- ما هي الخاصية التي تجعل الحديد مناسب لصنع سياج المنزل؟

قاسي

3- اكتب اسم شيء ملمسه قاسي .

المسمار - سياج المنزل

4- اذكر أسماء المواد المصنوع منها هذا الكرسي في الصورة؟



الخشب و المعدن

5- اذكر اسم المادة المستخدمة في صناعة الأشياء التالية :



الخشب



المعدن



الورق



الزجاج