

تم تحميل هذا الملف من موقع المناهج القطرية



\*للحصول على أوراق عمل لجميع الصفوف وجميع المواد اضغط هنا

<https://almanahj.com/qa>

\* للحصول على أوراق عمل لجميع مواد المستوى الأول اضغط هنا

<https://almanahj.com/qa/1>

\* للحصول على جميع أوراق المستوى الأول في مادة علوم الحاسب ولجميع الفصول, اضغط هنا

<https://almanahj.com/qa/1>

\* للحصول على أوراق عمل لجميع مواد المستوى الأول في مادة علوم الحاسب الخاصة بـ الفصل الثاني اضغط هنا

<https://almanahj.com/qa/12>

\* لتحميل كتب جميع المواد في جميع الفصول للـ المستوى الأول اضغط هنا

<https://almanahj.com/qa/grade1>

للتحدث إلى بوت المناهج القطرية على تلغرام: اضغط هنا

[https://t.me/qacourse\\_bot](https://t.me/qacourse_bot)



## تدريبات دعم وإثراء



1442 هـ & 20-21م

خطط رفع كفاءة الطلاب

الصف/1-

الاسم/

السؤال الأول : ضع دائرة حول الإجابة الصحيحة من بين البدائل فيما يلي :

( ١ ) - من فوائد الإنترنت أنني أستخدمة في : .....

( أ ) - التواصل مع أصدقائي . ( ج ) - تمشيط شعري .

( ب ) - تنظيف أسناني .

( ٢ ) - تتصل أجهزة الحواسيب بالإنترنت في جميع أنحاء العالم من خلال الهوائيات و .....

( أ ) - السيارات . ( ج ) - الطائرات .

( ب ) - الأقمار الصناعية .

( ٣ ) - إذا استخدمت الإنترنت فلا تتحدث مع .....

( أ ) - الزملاء . ( ج ) - الغرباء .

( ب ) - الأقارب .

( ٤ ) - من قواعد أمن الإنترنت : .....

( أ ) - لا تتحدث أثناء النهار . ( ج ) - انشر أسرارك الشخصية .

( ب ) - لا ترسل صورتك الشخصية لأي شخص .

( ٥ ) - إذا استخدمت الإنترنت فحافظ على .....

( أ ) - كلمة . ( ج ) - صورة .

( ب ) - فيديو .

( ٦ ) - هو طريقة لتبادل الرسائل بين الأشخاص الذين يستخدمون أجهزة الحاسوب: .....

( أ ) - البريد العادي . ( ج ) - الحمام الزاجل .

( ب ) - البريد الإلكتروني .

السؤال الثاني :

- صل الكلمات في العمود ( أ ) بما يناسبها في العمود ( ب ) :

<u>( ب )</u>	<u>( أ )</u>
ترك مسافة .	Enter
الانتقال إلى سطر جديد .	Space key
كتابة حروف إنجليزية كبيرة .	Backspace
التراجع ومسح الحروف .	Shift key

## السؤال الثالث :

١) ضع علامة (✓) أسفل الصورة التي تتصكح بأن (لا ترسل صُورًا شخصيةً للغرباء) :



( )



( )

٢) ضع علامة (✓) أسفل الصورة التي تدل على الاتصال اللاسلكي :



( )



( )

٣) ضع علامة (✓) أسفل الصورة التي تدل على استخدام الخرائط لتحديد المواقع :



( )



( )

## السؤال الرابع: صل بين كل صورة وما يناسبها من قواعد أمان الإنترنت:



- 1 لا تشارك أبدًا كلمات المرور الخاصة بك.
- 2 لا ترسل أبدًا صورتك الشخصية لأي شخص.
- 3 لا تنشر أبدًا معلوماتك الشخصية.
- 4 لا تتحدث مع الغرباء




## السؤال الخامس : صل استخدامات الإنترنت بالصورة المناسبة:

	زيارة مواقع الويب.
	التواصل مع الأصدقاء.
	الاستماع إلى الملفات الصوتية ومشاهدة مقاطع الفيديو.
	استخدام الخرائط لتحديد المواقع.

## السؤال السادس : ماذا يمكنك أن ترسل عن طريق البريد الإلكتروني؟







## السؤال السابع : صل بين كل صورة وما يناسبها من مزايا البريد الإلكتروني :


	•	مجاني
	•	يجول العالم
	•	سرعة تبادل الرسائل



السؤال الثامن: طابق الصورة مع رقم الخطوة المناسب للحصول على التسلسل الصحيح لخطوات تنظيف الأسنان:

	الخطوة (1)
	الخطوة (2)
	الخطوة (3)
	الخطوة (4)

السؤال التاسع: اكتب الرقم الصحيح في المربع المناسب لصنع هذه الشطيرة:





## السؤال العاشر: صل الزر بالحركة الصحيحة:

	التف إلى اليمين
	ارجع للخلف
	التف إلى اليسار
	ابدأ
	إيقاف مؤقت
	احذف جميع التعليمات
	تحرك للأمام





## السؤال الحادي عشر: أوجد الشكل المفقود:

ضع دائرة حول الثمرة المناسبة أدنى المربع.



## السؤال الثاني عشر: أوجد الشكل المفقود:

ارسم الشكل الصحيح في المربع الفارغ.



مع أطيب التمنيات بالتوفيق