

## تم تحميل هذا الملف من موقع المناهج القطرية



## أوراق عمل نهاية الفصل غير مجانية

موقع المناهج ← المناهج القطرية ← المستوى الأول ← علوم ← الفصل الأول ← أوراق عمل ← الملف

تاريخ إضافة الملف على موقع المناهج: 20:57:27 2024-12-15

ملفات اكتب للمعلم اكتب للطالب الاختبارات الكترونية | اختبارات | حلول | عروض بوربوينت | أوراق عمل  
منهج انجليزي | ملخصات وتقارير | مذكرات وبنوك | الامتحان النهائي للمدرس

المزيد من مادة  
علوم:

## التواصل الاجتماعي بحسب المستوى الأول



صفحة المناهج  
القطرية على  
فيسبوك

الرياضيات

اللغة الانجليزية

اللغة العربية

التربية الاسلامية

المواد على تلغرام

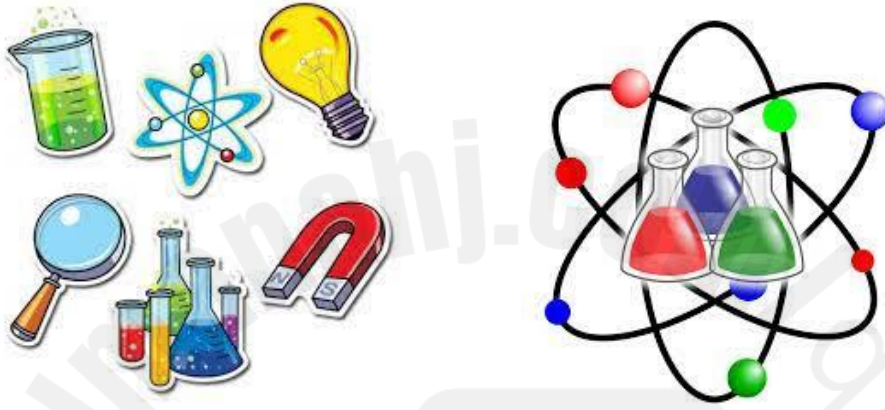
## المزيد من الملفات بحسب المستوى الأول والمادة علوم في الفصل الأول

كراسة نهاية الفصل غير مجانية	1
أوراق عمل دعم وإثراء الفرقان نهاية الفصل غير مجانية	2
أوراق عمل نهاية الفصل غير مجانية	3
أوراق عمل الأندلس نهاية الفصل مع الإجابة النموذجية	4
أوراق عمل الأندلس نهاية الفصل غير مجانية	5

# قسم العلوم

العام الأكاديمي 2024 / 2025

الفصل الدراسي الأول



## أوراق العمل الإثرائية

اختبار نهاية الفصل الدراسي الأول

الصف الأول الابتدائي



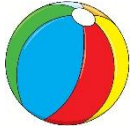
.....	اسم الطالب
..... / الأول	الصف والشعبة

هذه الأسئلة مُساعدة ولا تُغني عن الكتاب المدرسي أو تدريبات الكتاب المدرسي




الاسم: ..... الصف: الأول / ..... التاريخ: ...11... / 11 / 2024

السؤال الأول : اختر الإجابة الصحيحة

1) ما الشيء الذي يحتاج الى مساعدة كي يتحرك؟

		A
		
		B
		C


2) أي مما يلي يحتاج الى محرك كي يتحرك؟

		A
		
		B
		C


3) ما نوع المسار في الصورة المجاورة؟

	A	منحنٍ
	B	متعرج
	C	مستقيم

4) ما نوع المسار في الصورة المجاورة؟

	A	منحنٍ
	B	متعرج
	C	مستقيم

5) كيف نصف حركة السيارة في الصورة؟

	A	الى الأمام
	B	الى الخلف
	C	الى الأعلى

5) كيف نصف حركة الطفل في الصورة؟



ينزلق

A

يتدحرج

B

الى الأعلى

C

5) كيف نصف حركة الكرة في الصورة؟



تنزلق

A

تتدحرج

B

الى الأعلى

C

السؤال الثاني : ضع إشارة ✓ امام العبارة الصحيحة وإشارة ✗ امام العبارة الخاطئة.

1 - تتحرك الحقيبة من تلقاء نفسها. ( )

2 - يستخدم المحرك الوقود. ( )

3 - تتحرك جميع الأشياء بمسار متعرج فقط . ( )

4 - تساعد العجلات الأشياء كي تتحرك . ( )

السؤال الثالث : أصل بين كل صورة والكلمة التي تصف ما الذي يجعل ما في الصورة يتحرك:-

الإِنْسَانُ	
الرِّيحُ	
المُحَرِّكُ	

السؤال الرابع : أختَر الكلمة المناسبة لإكمال الجمل التالية :

1- يحتاج المحرك الى ..... ( الوقود , الصابون )

2- تتحرك الأشياء بطرق ..... ( متشابهة , مختلفة )

3- توصف حركة الكرة بانها ..... ( تتدحرج , تنزلق )

• اكتب الكلمات التالية :-

يتدحرج	ينزلق	وقود	محرك

الاسم: ..... الصف: الأول / ..... التاريخ: 25... / 11 / 2024

1) ما المادة التي تصنع منها الملابس ؟



A الزجاج

B الخشب

C القماش

2) ما المادة التي صنع منها الشيء في الصورة ؟



A الطين

B الخشب

C المطاط



3) ما المادة التي صنع منها الشيء في الصورة ؟

PRO  
High Solution (China) Limited



الورق

A

الخشب

B

الزجاج

C

4) ما المادة التي صنع منها الشيء في الصورة ؟



البلاستيك

A

المعدن

B

المطاط

C

5) ما المواد التي صنع منها الشيء في الصورة ؟



البلاستيك ومعدن

A

الخشب والمطاط

B

القماش والورق

C

6) ما الوصف الصحيح للمادة التي صنعت منها المطرقة؟



ليينة

A

طرية

B

قاسية

C

7) ما الوصف الصحيح للمادة التي صنعت منها الدمية؟

A  
طريةB  
خشنةC  
قاسية

8) ما الشيء الذي يصعب ضغطه أو عصره ؟

A  
الستارهB  
طاولةC  
بالون

السؤال الثاني : ضع إشارة ✓ امام العبارة الصحيحة وإشارة ✗ امام العبارة الخاطئة.

- 1 - يصنع الكتاب من الورق . ( )
- 2 - يمكن وصف الحجر بأنه مادة طرية . ( )
- 3 - تستخدم المواد الطرية لحماية الأشياء . ( )
- 4 - نستخدم القماش في صناعة الملابس لانه طري ومريح . ( )

### السؤال الثاني

أكمل الجمل التالية باستخدام الكلمات الموجودة في صندوق الكلمات:

المطاط - مختلفة - ناعم - القاسية

1. يمكن صنع الملاعق من مواد (.....).

2- للريشة ملمس (.....).

3 - يصنع البالون من (.....).

السؤال الرابع : صل بين صورة الشيء وبين المادة المصنوع منها .



قُمَاسٌ



طِينٌ



خَشَبٌ



مَعْدَنٌ





مَطَاطٌ



بِلاَسْتِيكٌ



Almanah.com  
2025  
موقع المناهج القطرية

السؤال الخامس : أ) حدد المادة التي صنع منها الشيء بكتابة الرقم تحت الكلمة المناسبة :-

		زجاج	خشب
2	1	-----	-----

ب) اكتب على النقاط ملمس الشيء أسفل الصورة المناسبة :-

ناعم , خشن

	
-----	-----

