

تم تحميل هذا الملف من موقع المناهج القطرية



اختبار نهاية الفصل مع الإجابة النموذجية


موقع المناهج ← المناهج القطرية ← المستوى الأول ← علوم الحاسب ← الفصل الأول ← اختبارات ← الملف

تاريخ إضافة الملف على موقع المناهج: 2025-01-04 12:45:43

ملفات اكتب للمعلم اكتب للطالب | اختبارات الكترونية | اختبارات | حلول | عروض بوربوينت | أوراق عمل
منهج انجليزي | ملخصات وتقارير | مذكرات وبنوك | الامتحان النهائي للمدرس

المزيد من مادة:
علوم الحاسب:

التواصل الاجتماعي بحسب المستوى الأول



صفحة المناهج
القطرية على
فيسبوك

الرياضيات

اللغة الانجليزية

اللغة العربية

التربية الاسلامية

المواد على تلغرام

المزيد من الملفات بحسب المستوى الأول والمادة علوم الحاسب في الفصل الأول

أوراق عمل مريم بنت عمران نهاية الفصل مع الإجابة النموذجية

1

أوراق عمل مريم بنت عمران نهاية الفصل غير مجابة

2

أوراق عمل مراجعة نهاية الفصل غير مجابة

3

أوراق عمل دعم وإثراء الفرقان نهاية الفصل غير مجابة

4

أوراق العمل الاثرائية نهاية الفصل غير مجابة

5

مراجعة المفاهيم النظرية - الوحدة الأولى: أنا أستخدم الحاسوب

السؤال الأول: ضع علامة صح أمام الجهاز الذي نستعمله في:

(1) الاستماع للملفات الصوتية:		
		
(2) طباعة الصفحات		
		
(3) كتابة أرقام وحروف		
		
(4) عرض شاشات البرامج		
		



(5) تسجيل الصوت		
		
(6) تحريك المؤشر		
		
(7) التقاط الصور ومقاطع الفيديو		
		
(8) الاستماع للملفات الصوتية		
		

السؤال الثاني: صل وظائف الأجهزة التالية بالصورة المناسبة

1

2

3

4

5

الاستماع إلى الملفات الصوتية.

تحريك المؤشر.

طباعة الصور والصفحات.

إدخال المستندات إلى الحاسوب.

مشاهدة الأصدقاء عبر الإنترنت.

السؤال الثاني: صل وظائف الأجهزة التالية بالصورة المناسبة

تسجيل صوت. 1

كتابة نص. 2

عرض شاشات البرنامج. 3











التقاط الصور أو مقاطع الفيديو. 4

الاستماع إلى الملفات الصوتية. 5

السؤال الثالث:

ضع علامة صح ✓ أسفل الجهاز الرئيسي

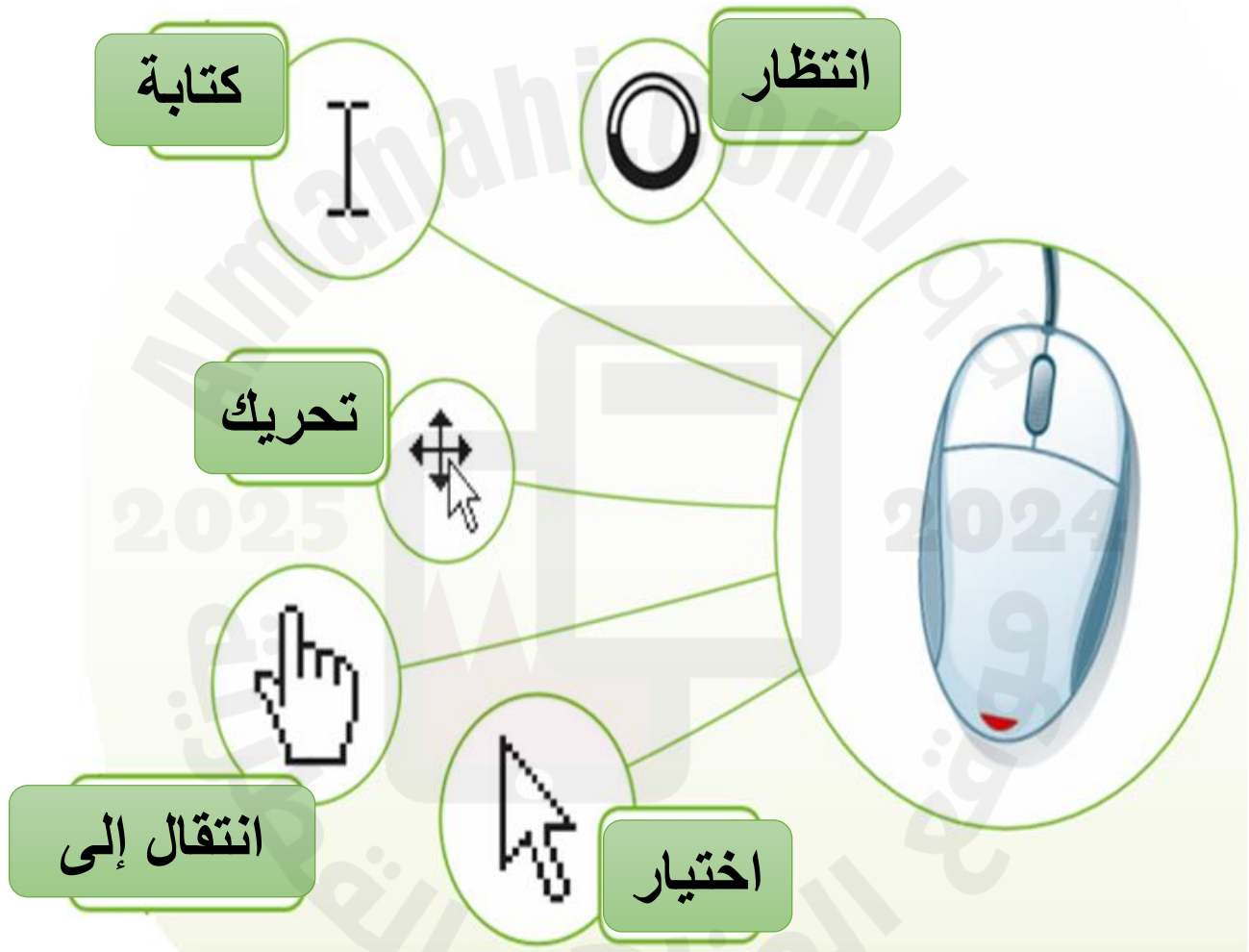
وعلامة خطأ X أسفل الجهاز الملحق

			
✓	X	X	✓
			
X	✓	X	X
			
X	X	✓	X

السؤال الرابع: ضع علامة صح ✓ أسفل مكونات وحدة النظام

			
	✓		✓
			
✓			✓
			
	✓		

السؤال الخامس: اكتب اسم شكل مؤشر الفأرة في الخانة المناسبة:



سؤال السادس: ضع دائرة حول المكونات الموجودة داخل وحدة النظام:

