

تم تحميل هذا الملف من موقع المناهج القطرية



\*للحصول على أوراق عمل لجميع الصفوف وجميع المواد اضغط هنا

<https://almanahj.com/qa>

\* للحصول على أوراق عمل لجميع مواد المستوى الأول اضغط هنا

<https://almanahj.com/qa/1>

\* للحصول على جميع أوراق المستوى الأول في مادة رياضيات ولجميع الفصول, اضغط هنا

<https://almanahj.com/qa/1>

\* للحصول على أوراق عمل لجميع مواد المستوى الأول في مادة رياضيات الخاصة بـ اضغط هنا

<https://almanahj.com/qa/1>

\* لتحميل كتب جميع المواد في جميع الفصول لد المستوى الأول اضغط هنا

<https://almanahj.com/qa/grade1>

للتحدث إلى بوت على تلغرام: اضغط هنا

[https://t.me/qacourse\\_bot](https://t.me/qacourse_bot)



مدرسة الأندلس الابتدائية الإعدادية الثانوية الخاصة للبنات

العام الأكاديمي 2020-2021

رويتنا: تنشئة جيل واعٍ بالعلم متفوقٍ به، راقٍ بالقيم والأخلاق، معتز بوطنه، أصيل بعقيدته، متواصل عالمياً.



# أسئلة تقوية للصف الأول لمادة الرياضيات

الصف: .....

اسم الطالبة: \_\_\_\_\_

2021-2020

Andalus Educational Complex  
Since 1993

• هذه الأسئلة لا تغني أبداً عن الدراسة من الكتاب.

رسالتنا: تنمية الطالبات معرفياً ومهارياً ووجدانياً واجتماعياً ونفسياً على القيم الإسلامية وثوابت المجتمع.



مدرسة الأندلس الابتدائية الإعدادية الثانوية الخاصة للبنات

العام الأكاديمي 2020-2021

رويتنا: نشئة جيل واع بالعلم متفوق به، راق بالقيم والأخلاق، معتز بوطنه، أصيل بعقيدته، متواصل عالمياً.



التاريخ: 21-3-2021


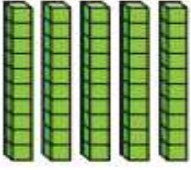
قسم الرياضيات

الاسم	الصف أول
-------	----------



### ورقة عمل (جمع العشرات: باستعمال النماذج)

السؤال الأول:

اكتب الأعداد لإكمال الجملة العددية.

1.  

عشرات + عشرات =  
عشرات  
+ =

2.  

عشرات + عشرات =  
عشرات  
+ =

**أفهم المسألة** لدى كل من هاشم ونواف 4 أكياس من الكرات الزجاجية. في كل كيس 10 كرات زجاجية. ما العدد الكلي للكرات الزجاجية التي لدى هاشم ونواف معاً؟

+ =  
كرة زجاجية

مديرة المدرسة

النائبة الأكاديمية/ابتدائي

المنسقة

معلمة المادة

يسر محمد سعيد

رمزة عبدالله برازي

أبرار نشأت

فاتن محمد

• هذه الأسئلة لا تغني أبداً عن الدراسة من الكتاب.

رسالتنا: تنمية الطالبات معرفياً ومهارياً ووجدانياً واجتماعياً ونفسياً على القيم الإسلامية وثوابت المجتمع.



# مدرسة الأندلس الابتدائية الاعدادية الثانوية الخاصة للبنات

العام الأكاديمي 2020-2021

رويتنا: نشئة جيل واع بالعلم متفوق به، راق بالقيم والأخلاق، معزز بوطنه، أصيل بعقيدته، متواصل عالمياً.



التاريخ: 23-3-2021

قسم الرياضيات

الاسم	الصف أول
-------	----------

## ورقة عمل

### جمع العشرات والآحاد باستعمال لوحة المئة

السؤال الأول:

أَسْتَغِمِلْ لَوْحَةَ الْمِئَةِ لِجَمْعِ عَدَدَيْنِ مِنْ رَقْمَيْنِ

1. 10 + 36	2. 15 + 8	3. 20 + 58	4. 11 + 40	5. 40 + 13	6. 7 + 34
---------------	--------------	---------------	---------------	---------------	--------------

1	2	3	4	5	6	7	8	9	10
11	12	13	14	15	16	17	18	19	20
21	22	23	24	25	26	27	28	29	30
31	32	33	34	35	36	37	38	39	40
41	42	43	44	45	46	47	48	49	50
51	52	53	54	55	56	57	58	59	60
61	62	63	64	65	66	67	68	69	70
71	72	73	74	75	76	77	78	79	80
81	82	83	84	85	86	87	88	89	90
91	92	93	94	95	96	97	98	99	100

مديرة المدرسة

النائبة الأكاديمية/ابتدائي

المنسقة

معلمة المادة

يسر محمد سعيد

رمزة عبدالله برازي

أبرار نشأت

فاتن محمد

• هذه الأسئلة لا تغني أبداً عن الدراسة من الكتاب.

رسالتنا: تنمية الطالبات معرفياً ومهارياً ووجدانياً واجتماعياً ونفسياً على القيم الإسلامية وثوابت المجتمع.



# مدرسة الأندلس الابتدائية الإعدادية الثانوية الخاصة للبنات

العام الأكاديمي 2020-2021

رويتنا: نشنة جيل واعٍ بالعلم متفوقٍ به، راقٍ بالقيم والأخلاق، معزٍ بوطنه، أصيل بعقيدته، متواصل عالمياً.



التاريخ: 28-3-2021

قسم الرياضيات

الاسم	الصف أول

## ورقة عمل

### الجمع باستعمال القيمة المنزلية

السؤال الأول:

أزسم قوالب القيمة المنزلية لأجمع. هل أحتاج إلى تكوين 10؟  
أحوط نعلم أو لا.

أحاذ	عشران

نعم لا

أحاذ	عشران
3	3
2	8
+	

هل أكون 10؟

أحاذ	عشران

نعم لا

أحاذ	عشران
2	4
7	1
+	

هل أكون 10؟

مديرة المدرسة

يسر محمد سعيد

النائبة الأكاديمية/ابتدائي

رمزة عبدالله برازي

المنسقة

أبرار نشأت

معلمة المادة

فاتن محمد

• هذه الأسئلة لا تغني أبداً عن الدراسة من الكتاب.

رسالتنا: تنمية الطالبات معرفياً ومهارياً ووجدانياً واجتماعياً ونفسياً على القيم الإسلامية وثوابت المجتمع.



# مدرسة الأندلس الابتدائية الإعدادية الثانوية الخاصة للبنات

العام الأكاديمي 2020-2021

رويتنا: تنشئة جيل واعٍ بالعلم متفوقٍ به، راقٍ بالقيم والأخلاق، معتزٍ بوطنه، أصيل بعقيدته، متواصل عالمياً.



التاريخ: 30-3-2021

قسم الرياضيات


الاسم	الصف أول
-------	----------

## ورقة عمل

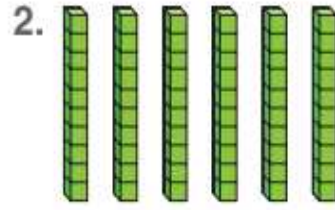
### طرح العشرات باستعمال النماذج

#### السؤال الأول:

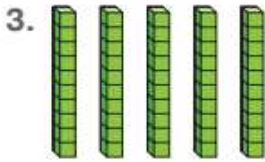
أشطبُ القوالب إذا لزم الأمر لخلّ المسائل أدناه.



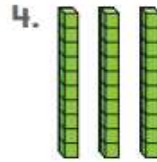
من العشرات = 3 عشرات - عشرات  
\_\_\_\_\_ - \_\_\_\_\_ = \_\_\_\_\_



عشرات = 2 من العشرات - عشرات  
\_\_\_\_\_ - \_\_\_\_\_ = \_\_\_\_\_



من العشرات = 3 عشرات - عشرات  
\_\_\_\_\_ - \_\_\_\_\_ = \_\_\_\_\_



عشرات = 1 من العشرات - من العشرات  
\_\_\_\_\_ - \_\_\_\_\_ = \_\_\_\_\_

مديرة المدرسة

النائبة الأكاديمية/ابتدائي

المنسقة

معلمة المادة

يسر محمد سعيد

رمزة عبدالله برازي

أبرار نشأت

فاتن محمد

• هذه الأسئلة لا تغني أبداً عن الدراسة من الكتاب.

رسالتنا: تنمية الطالبات معرفياً ومهارياً ووجدانياً واجتماعياً ونفسياً على القيم الإسلامية وثوابت المجتمع.



مدرسة الأندلس الابتدائية الإعدادية الثانوية الخاصة للبنات

العام الأكاديمي 2020-2021

رويتنا: تنشئة جيل واعٍ بالعلم متفوقٍ به، راقٍ بالقيم والأخلاق، معزٍ بوطنه، أصيل بعقيدته، متواصل عالمياً.



التاريخ: 1-4-2021

قسم الرياضيات

الاسم	الصف أول
-------	----------

### ورقة عمل

### طرح العشرات باستعمال لوحة المئة

#### السؤال الأول:

استعمل الجزء من لوحة المئة لحلّ المسائل أدناه.

41	42	43	44	45	46	47	48	49	50
51	52	53	54	55	56	57	58	59	60
61	62	63	64	65	66	67	68	69	70
71	72	73	74	75	76	77	78	79	80

1.  $80 - 30 = \underline{\quad}$

2.  $70 - 10 = \underline{\quad}$

3.  $80 - 20 = \underline{\quad}$

4.  $60 - 10 = \underline{\quad}$

مديرة المدرسة

النائبة الأكاديمية/ابتدائي

المنسقة

معلمة المادة

يسر محمد سعيد

رمزة عبدالله برازي

أبرار نشأت

فاتن محمد

• هذه الأسئلة لا تغني أبداً عن الدراسة من الكتاب.

رسالتنا: تنمية الطالبات معرفياً ومهارياً ووجدانياً واجتماعياً ونفسياً على القيم الإسلامية وثوابت المجتمع.



مدرسة الأندلس الابتدائية الإعدادية الثانوية الخاصة للبنات

العام الأكاديمي 2020-2021

رويتنا: نشئة جيل واعٍ بالعلم متفوقٍ به، راقٍ بالقيم والأخلاق، معتز بوطنه، أصيل بعقيدته، متواصل عالمياً.



التاريخ: 6-4-2021

قسم الرياضيات


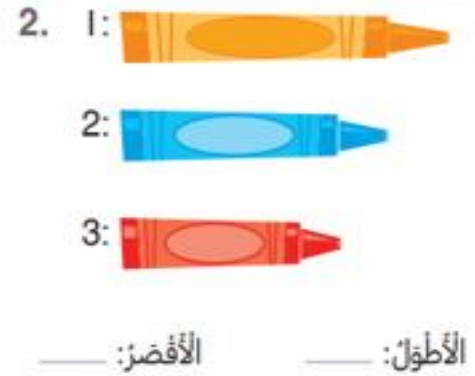
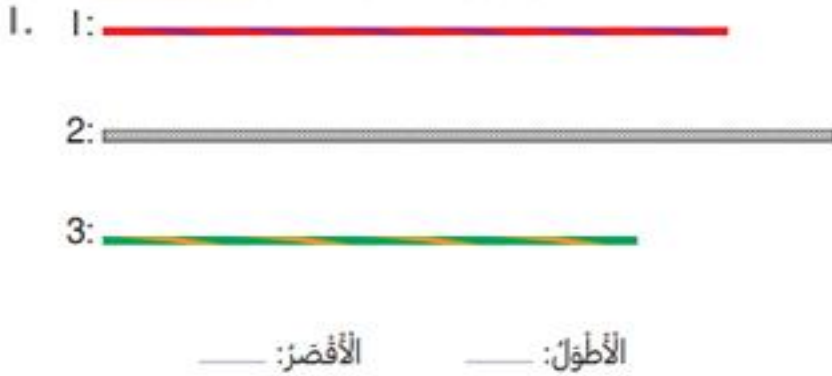
الاسم	الصف أول
-------	----------

### ورقة عمل

### المقارنة والترتيب بحسب الطول

#### السؤال الأول:

من خلال الأشكال التالية حددي الأطول والأقصر؟



أي مما يلي يمثّل أفضل وفضل للأقلام؟

- Ⓐ القلم الأزرق هو الأطول.
- Ⓑ القلم الأخضر هو الأطول.
- Ⓒ القلم الأزرق هو الأطول.
- Ⓓ القلم الأزرق هو الأقصر.

مديرة المدرسة

النائبة الأكاديمية/ابتدائي

المنسقة

معلمة المادة

يسر محمد سعيد

رمزة عبدالله برازي

أبرار نشأت

فاتن محمد

• هذه الأسئلة لا تغني أبداً عن الدراسة من الكتاب.

رسالتنا: تنمية الطالبات معرفياً ومهارياً ووجدانياً واجتماعياً ونفسياً على القيم الإسلامية وثوابت المجتمع.





# مدرسة الأندلس الابتدائية الإعدادية الثانوية الخاصة للبنات

العام الأكاديمي 2020-2021

رويتنا: نشئة جيل واع بالعلم متفوق به، راق بالقيم والأخلاق، معتز بوطنه، أصيل بعقيدته، متواصل عالمياً.



التاريخ: 8-4-2021

قسم الرياضيات

الاسم	الصف أول
-------	----------

## ورقة عمل

### القياس غير المباشر

#### السؤال الأول:

أحوظ الشيء الأفضل.  
استعمل الخيط الأحمر للمساعدة.

1.



\_\_\_\_\_



\_\_\_\_\_

2.



\_\_\_\_\_



\_\_\_\_\_

أحوظ الشيء الأفضل. استعمل الخيط البنفسجي للمساعدة.

3.



\_\_\_\_\_



\_\_\_\_\_

4.



\_\_\_\_\_



\_\_\_\_\_

مديرة المدرسة

يسر محمد سعيد

النائبة الأكاديمية/ابتدائي

رمزة عبدالله برازي

المنسقة

أبرار نشأت

معلمة المادة

فاتن محمد

• هذه الأسئلة لا تغني أبداً عن الدراسة من الكتاب.

رسالتنا: تنمية الطالبات معرفياً ومهارياً ووجدانياً واجتماعياً ونفسياً على القيم الإسلامية وثوابت المجتمع.



مدرسة الأندلس الابتدائية الإعدادية الثانوية الخاصة للبنات

العام الأكاديمي 2020-2021

رويتنا: نشئة جيل واعٍ بالعلم متفوقٍ به، راقٍ بالقيم والأخلاق، معتز بوطنه، أصيل بعقيدته، متواصل عالمياً.



التاريخ: 11-4-2021

قسم الرياضيات

الاسم	الصف أول
-------	----------

### ورقة عمل

### استعمال الوحدات لقياس الطول

#### السؤال الأول:

استعملْ مشابك الورق لقياس الطول.



مديرة المدرسة

النائبة الأكاديمية/ابتدائي

المنسقة

معلمة المادة

يسر محمد سعيد

رمزة عبدالله برازي

أبرار نشأت

فاتن محمد

• هذه الأسئلة لا تغني أبداً عن الدراسة من الكتاب.

رسالتنا: تنمية الطالبات معرفياً ومهارياً ووجدانياً واجتماعياً ونفسياً على القيم الإسلامية وثوابت المجتمع.



مدرسة الأندلس الابتدائية الإعدادية الثانوية الخاصة للبنات

العام الأكاديمي 2020-2021

رويتنا: تنشئة جيل واعٍ بالعلم متفوقٍ به، راقٍ بالقيم والأخلاق، معترٍ بوطنه، أصيل بعقيدته، متواصل عالمياً.



التاريخ: 13-4-2021

قسم الرياضيات

الاسم	الصف أول
-------	----------

### ورقة عمل

### فهم عقرب الساعات وعقرب الدقائق

### السؤال الأول:

### أَكْتُبِ الْوَقْتَ الْمُبَيَّنَ فِي كُلِّ سَاعَةٍ.



عقرب الساعات: \_\_\_\_\_  
عقرب الدقائق: \_\_\_\_\_  
الساعة \_\_\_\_\_



عقرب الساعات: \_\_\_\_\_  
عقرب الدقائق: \_\_\_\_\_  
الساعة \_\_\_\_\_



عقرب الساعات: \_\_\_\_\_  
عقرب الدقائق: \_\_\_\_\_  
الساعة \_\_\_\_\_

### أَرْسِمِ عَقْرِبَ السَّاعَاتِ وَعَقْرِبَ الدَّقَائِقِ لِتَمَثِيلِ الْوَقْتِ.



الساعة 10



الساعة 2



الساعة 11

مديرة المدرسة

يسر محمد سعيد

النائبة الأكاديمية/ابتدائي

رمزة عبدالله برازي

المنسقة

أبرار نشأت

معلمة المادة

فاتن محمد

• هذه الأسئلة لا تغني أبداً عن الدراسة من الكتاب.

رسالتنا: تنمية الطالبات معرفياً ومهارياً ووجدانياً واجتماعياً ونفسياً على القيم الإسلامية وثوابت المجتمع.



مدرسة الأندلس الابتدائية الاعدادية الثانوية الخاصة للبنات

العام الأكاديمي 2020-2021

رويتنا: نشئة جيل واعٍ بالعلم متفوقٍ به، راقٍ بالقيم والأخلاق، معتز بوطنه، أصيل بعقيدته، متواصل عالمياً.



التاريخ: 15-4-2021

قسم الرياضيات

الاسم	الصف أول
-------	----------

### ورقة عمل

### قراءة وكتابة الوقت بالساعات

#### السؤال الأول :

أرسم العقارب على الساعة.  
ثم أكتب الوقت على الساعة الأخرى.

1.



الساعة 3

2.



الساعة 7

3.



الساعة 10

أصل كل ساعة عقارب بالساعة الزمنية التي توضح نفس الوقت.

4.



مديرة المدرسة

يسر محمد سعيد

5.



النائبة الأكاديمية/ابتدائي

رمزة عبدالله برازي

6.



المنسقة

أبرار نشأت

معلمة المادة

فاتن محمد

• هذه الأسئلة لا تغني أبداً عن الدراسة من الكتاب.

رسالتنا: تنمية الطالبات معرفياً ومهارياً ووجدانياً واجتماعياً ونفسياً على القيم الإسلامية وثوابت المجتمع.



مدرسة الأندلس الابتدائية الإعدادية الثانوية الخاصة للبنات

العام الأكاديمي 2020-2021

رويتنا: تنشئة جيل واعٍ بالعلم متفوقٍ به، راقٍ بالقيم والأخلاق، معتزٍ بوطنه، أصيلٍ بعقيدته، متواصلٍ عالمياً.



التاريخ: 19-4-2021

قسم الرياضيات

الاسم	الصف أول
-------	----------

ورقة عمل استعمال الخصائص لتحديد الأشكال الثنائية الأبعاد.

السؤال الأول:

أذكر ما إذا كان الشكل مغلقاً أم لا.  
ثم أذكر عدد أضلاعه وعدد رؤوسه.



3.

مغلق؟ \_\_\_\_\_

الشكل السداسي له \_\_\_\_\_ أضلاع

مستقيمة و \_\_\_\_\_ رؤوس.




2.

مغلق؟ \_\_\_\_\_

المستطيل له \_\_\_\_\_ أضلاع

مستقيمة و \_\_\_\_\_ رؤوس.



1.

مغلق؟ \_\_\_\_\_

الدائرة لها \_\_\_\_\_ من الأضلاع

المستقيمة و \_\_\_\_\_ من الرؤوس.

مديرة المدرسة

يسر محمد سعيد

النائبة الأكاديمية/ابتدائي

رمزة عبدالله برازي

المنسقة

أبرار نشأت

معلمة المادة

فاتن محمد

• هذه الأسئلة لا تغني أبداً عن الدراسة من الكتاب.

رسالتنا: تنمية الطالبات معرفياً ومهارياً ووجدانياً واجتماعياً ونفسياً على القيم الإسلامية وثوابت المجتمع.



مدرسة الأندلس الابتدائية الإعدادية الثانوية الخاصة للبنات

العام الأكاديمي 2020-2021

رويتنا: تنشئة جيل واعٍ بالعلم متفوقٍ به، راقٍ بالقيم والأخلاق، معتزٍ بوطنه، أصيل بعقيدته، متواصل عالمياً.



التاريخ: 22-4-2021

قسم الرياضيات

الاسم	الصف أول
-------	----------

### ورقة عمل الخصائص المحددة وغير المحددة للأشكال الثنائية الأبعاد

السؤال الأول :

أحطِّط الخصائص التي تنطبق على الشكل.

لها 3 أضلاع مُستقيمة.

صفراء.

جميع المثلثات:



1.

لها 3 زُؤوس.

قُصيرة.

أحطِّط الخصائص التي تنطبق على الشكل.

لها 6 أضلاع مُتساوية.

جميع الأشكال السُداسية: بنفسجبة.



2.

لها 6 زُؤوس.

لها 6 أضلاع مُستقيمة.

مديرة المدرسة

النائبة الأكاديمية/ابتدائي

المنسقة

معلمة المادة

يسر محمد سعيد

رمزة عبدالله برازي

أبرار نشأت

فاتن محمد

• هذه الأسئلة لا تغني أبداً عن الدراسة من الكتاب.

رسالتنا: تنمية الطالبات معرفياً ومهارياً ووجدانياً واجتماعياً ونفسياً على القيم الإسلامية وثوابت المجتمع.



مدرسة الأندلس الابتدائية الاعدادية الثانوية الخاصة للبنات

العام الأكاديمي 2020-2021

رويتنا: تشنه جيل واع بالعلم متفوق به، راق بالقيم والأخلاق، معتر بوطنه، أصيل بعقيدته، متواصل عالمياً.



التاريخ: 26-4-2021

قسم الرياضيات

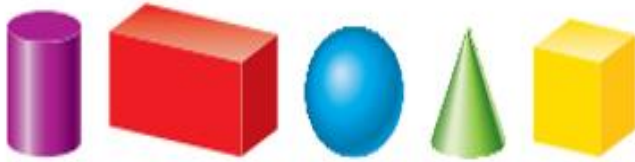
الاسم	الصف أول
-------	----------

## ورقة عمل استعمال الخصائص لتحديد الأشكال الثلاثية الأبعاد

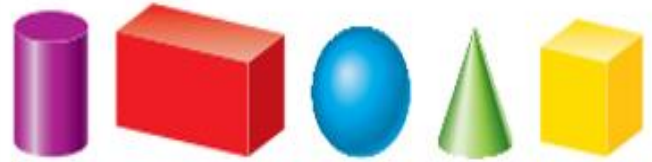
السؤال الأول:

أحوظ الشكل الثلاثي الأبعاد الذي يجيب عن السؤال.


2. ما الشكل الثلاثي الأبعاد الذي ليس له أسطح مستوية أو رؤوس؟



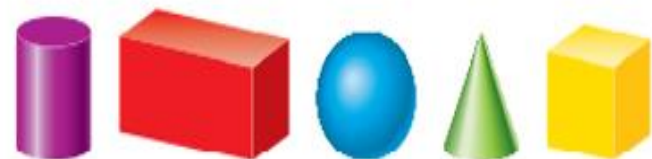
1. ما الشكل الثلاثي الأبعاد الذي له 1 من الرؤوس؟



5. أحوظ الشكل الذي له 2 من الأسطح المستوية ولا رؤوس له.



4. أحوظ الأشكال التي لها 6 أوجه و 12 حرفاً.



مديرة المدرسة

النائبة الأكاديمية/ابتدائي

المنسقة

معلمة المادة

يسر محمد سعيد

رمزة عبدالله برازي

أبرار نشأت

فاتن محمد

• هذه الأسئلة لا تغني أبداً عن الدراسة من الكتاب.

رسالتنا: تنمية الطالبات معرفياً ومهارياً ووجدانياً واجتماعياً ونفسياً على القيم الإسلامية وثوابت المجتمع.



# مدرسة الأندلس الابتدائية الإعدادية الثانوية الخاصة للبنات

العام الأكاديمي 2020-2021

رويتنا: نشنة جيل واع بالعلم متفوق به، راق بالقيم والأخلاق، معتر بوطنه، أصيل بعقيدته، متواصل عالمياً.



التاريخ: 28-4-2021

قسم الرياضيات

الاسم	الصف أول
-------	----------

## ورقة عمل الخصائص المحددة وغير المحددة للأشكال الثلاثة الأبعاد

السؤال الأول:

أحطُ الخصائص التي تنطبق على الشكل.



جميع أشباه المكعبات:

لها 6 أوجه.

لها 6 رؤوس.

لها 8 رؤوس.

خفراء.

السؤال الثاني:

م أصل اسم الشكل بالعجزة المناسبة.

مخروط	شبه مكعب	مكعب	أسطوانة
12 خرفاً	0 من الرؤوس	1 من الرؤوس	8 رؤوس

مديرة المدرسة

النائبة الأكاديمية/ابتدائي

المنسقة

معلمة المادة

يسر محمد سعيد

رمزة عبدالله برازي

أبرار نشأت

فاتن محمد

• هذه الأسئلة لا تغني أبداً عن الدراسة من الكتاب.

رسالتنا: تنمية الطالبات معرفياً ومهارياً ووجدانياً واجتماعياً ونفسياً على القيم الإسلامية وثوابت المجتمع.





مدرسة الأندلس الابتدائية الإعدادية الثانوية الخاصة للبنات

العام الأكاديمي 2020-2021

رويتنا: نشئة جيل واعٍ بالعلم متفوقٍ به، راقٍ بالقيم والأخلاق، معزٍ بوطنه، أصيل بعقيدته، متواصل عالمياً.



التاريخ: 2- 5- 2021

قسم الرياضيات

الاسم	الصف أول
-------	----------

### ورقة عمل تكوين أجزاء متساوية

السؤال الأول :

اكتب عدد الأجزاء المتساوية في كل شكل.  
إذا كانت الأجزاء غير متساوية اكتب 0



.3

من الأجزاء المتساوية



.2

من الأجزاء المتساوية




.1

أجزاء متساوية




.10

أجزاء متساوية



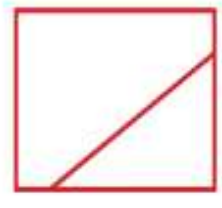
.9

من الأجزاء المتساوية



.8

من الأجزاء المتساوية



.7

من الأجزاء المتساوية

مديرة المدرسة

يسر محمد سعيد

النائبة الأكاديمية/ابتدائي

رمزة عبدالله برازي

المنسقة

أبرار نشأت

معلمة المادة

فاتن محمد

• هذه الأسئلة لا تغني أبداً عن الدراسة من الكتاب.

رسالتنا: تنمية الطالبات معرفياً ومهارياً ووجدانياً واجتماعياً ونفسياً على القيم الإسلامية وثوابت المجتمع.



# مدرسة الأندلس الابتدائية الاعدادية الثانوية الخاصة للبنات

العام الأكاديمي 2020-2021

رويتنا: تنشئة جيل واعٍ بالعلم متفوقٍ به، راقٍ بالقيم والأخلاق، معزٍ بوطنه، أصيل بعقيدته، متواصل عالمياً.



التاريخ: 5-5-2021

قسم الرياضيات

الاسم	الصف أول
-------	----------

## ورقة عمل تقسيم المستطيلات والدوائر إلى أنصاف و أرباع

السؤال الأول :

أحوط الشكل الصحيح في المسائل أدناه.

3. نصف واجد أصفر



2. ربع واجد أخضر



1. نصف واجد أزرق



مديرة المدرسة

يسر محمد سعيد

النائبة الأكاديمية/ابتدائي

رمزة عبدالله برازي

المنسقة

أبرار نشأت

معلمة المادة

فاتن محمد

• هذه الأسئلة لا تغني أبداً عن الدراسة من الكتاب.

رسالتنا: تنمية الطالبات معرفياً ومهارياً ووجدانياً واجتماعياً ونفسياً على القيم الإسلامية وثوابت المجتمع.