

تم تحميل هذا الملف من موقع المناهج القطرية



بنك أسئلة الوحدة الأولى غير مجانية

موقع المناهج ← المناهج القطرية ← المستوى الأول ← علوم ← الفصل الأول ← مذكرات وبنوك ← الملف

تاريخ إضافة الملف على موقع المناهج: 2024-10-20 13:34:32

ملفات اكتب للمعلم اكتب للطالب | اختبارات الكترونية | اختبارات | حلول | عروض بوربوينت | أوراق عمل
منهج انجليزي | ملخصات وتقارير | مذكرات وبنوك | الامتحان النهائي للمدرس

المزيد من مادة
علوم:

التواصل الاجتماعي بحسب المستوى الأول



صفحة المناهج
القطرية على
فيسبوك

الرياضيات

اللغة الانجليزية

اللغة العربية

التربية الاسلامية

المواد على تلغرام

المزيد من الملفات بحسب المستوى الأول والمادة علوم في الفصل الأول

أوراق إثرائية على الوحدة الأولى

1

أوراق عمل الوحدة الأولى غير مجانية

2

أوراق العمل الاثرائية تحضيراً لاختبار منتصف الفصل مع الإجابة النموذجية

3

أوراق العمل الاثرائية تحضيراً لاختبار منتصف الفصل غير مجانية

4

إجابة أوراق عمل دعم وإثراء الفرقان منتصف الفصل

5

بنك الأسئلة

العام الأكاديمي 2024 – 2025


المرحلة الابتدائية للبنات	اسم المدرسة
الأول الابتدائي	الصف
العلوم	المادة
الأولى	الوحدة
منتصف الفصل الدراسي الأول	المحتوى

اختر الإجابة الصحيحة لكل من الأسئلة من 1 إلى 14 ، وذلك بوضع علامة × داخل
المربع المجاور للإجابة الصحيحة:

تعليمات

السؤال رقم (1)	
ما الكائن الحي في الصور التالية ؟	
	A
	B
	C


السؤال رقم (2)	
ما الشيء غير الحي في الصور التالية ؟	
	A
	B
	C

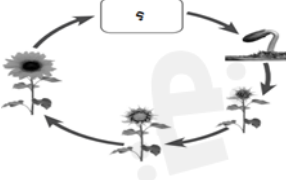
		السؤال رقم (3)
		ماذا يفعل الكائن الحي في الصورة ؟
	يتنفس	A
	يتحرك	B
	يتغذى	C

		السؤال رقم (4)
		ما الكائن الحي الذي يتكاثر بالولادة ؟
		A
		B
		C

السؤال رقم (5)	
ماهي المرحلة الثالثة في دورة حياه الانسان؟	
طفل	A
مراهق	B
انسان بالغ	C

السؤال رقم (6)	
ما الكائن الحي الذي ينمو داخل بيضة ؟	
	A
	B
	C

		السؤال رقم (7)
		كيف يتحرك الحيوان في الصورة؟
	يطير	A
	يركض	B
	يزحف	C

		السؤال رقم (8)
		ما المرحلة من مراحل دورة حياة النبات ناقصة في الشكل أدناه؟
	البذرة	A
	البادرة	B
	الشتلة	C

السؤال رقم (9)	
أي مما يلي تمر بمرحلة الشرنقة؟	
الشجرة	A
القطة	B
الفراشة	C

السؤال رقم (10)	
ما المرحلة التي تتشابه فيها دورة حياة السمكة والفراشة ؟	
بيضة	A
شرنقة	B
سمكة صغيرة	C

السؤال رقم (11)	
ما المرحلة المختلفة في دورة حياة الفراشة عن دورة حياة الطائر ؟	
بيضة	A
شرنقة	B
طائر صغير	C

السؤال رقم (12)	
ما المرحلة المختلفة بين دورة حياة الضب ودورة حياة القطة.	
البالغ	A
البيضة	B
الصغير	C

السؤال رقم (13)

ما المرحلة الناقصة في دورة حياة الفراشة أمامك



الورقة

A

البيضة

B

الفراشة

C

السؤال رقم (14)

ما الكائن الحي الذي ينمو داخل جسم امه قبل أن يلد ؟



A



B



C

	السؤال رقم (15)
ما المرحلة الأخيرة من دورة حياة النبات ؟	
بيضة	A
نبات بالغ	B
نبات صغير	C



السؤال رقم (16)

صل ما في العمود (أ) بما يناسبه في العمود (ب):

(ب)	(أ)
	بييض
	بذرة
	ينمو داخل جسم أمه
	كائن غير حي

السؤال رقم (17)

أكمل الفراغات التالية مستعيناً بالكلمات في الجدول التالي:

البذرة	الطفل	بيضة	تتنفس
--------	-------	------	-------

الكائنات الحية تتحرك وتتغذى و.....

المرحلة الثانية من دورة حياة الإنسان هي

تنمو النباتات من

السؤال رقم (18)

ضع علامة (\checkmark) أمام العبارة الصحيحة ، أو علامة (\times) أمام العبارة الخطأ:

- 1- تتغذى الكائنات الحية بطرق متشابهة. ()
- 2- تتحرك الكائنات الحية بطرق مختلفة. ()
- 3- يسمى كل جزء من دورة الحياة (مرحلة). ()
- 4- لجميع الحيوانات دورة حياة. ()
- 5- تتشابه دورة حياة السمكة والقطة في البيضة. ()
- 6- تختلف دورة حياة الفراشة عن الطائر في الشرنقة. ()
- 7- آخر مرحلة من مراحل دورة حياة النبات نبات بالغ. ()
- 8- الكرسي كائن غير حي. ()

أجب عن الأسئلة الآتية.

1. ما المرحلة الأولى في دورة حياة الدجاجة؟

.....

2. من أين تنمو النباتات؟

.....

3. ما الكائن الحي الذي تمر في مراحل دورة حياته مرحلة اليرقة ؟

.....

2025

2024

صنف الصور التالية بالجدول أدناه الى كائن حي وكائن غير حي .



1

2

3

4

كائن غير حي

كائن حي

2025

2024

السؤال رقم (21)

اكتب خصائص الكائنات الحية التي تدل عليها الصور .



السؤال رقم (22)

اكتب المرحلة أسفل الصورة لتبين مراحل دورة حياة الطائر .



أكتب المرحلة التي تدل عليها الصورة من مراحل دورة حياة النبات.



2025

2024

