

تم تحميل هذا الملف من موقع المناهج القطرية



* للحصول على أوراق عمل لجميع الصفوف وجميع المواد اضغط هنا

<https://almanahj.com/qa>

* للحصول على أوراق عمل لجميع مواد المستوى الأول اضغط هنا

<https://almanahj.com/qa/1>

* للحصول على جميع أوراق المستوى الأول في مادة علوم ولجميع الفصول, اضغط هنا

<https://almanahj.com/qa/1science>

* للحصول على أوراق عمل لجميع مواد المستوى الأول في مادة علوم الخاصة بـ الفصل الأول اضغط هنا

<https://almanahj.com/qa/1science1>

* لتحميل كتب جميع المواد في جميع الفصول للـ المستوى الأول اضغط هنا

<https://almanahj.com/qa/grade1>

* لتحميل جميع ملفات المدرس مدرسة الأندلس اضغط هنا

للتحدث إلى بوت المناهج القطرية على تلغرام: اضغط هنا

https://t.me/qacourse_bot

رؤيتنا: إعداد جيل منتمٍ لدينه ووطنه متسلح بالعلم والقيم في بيئة آمنة ومحفزة.

مادة: العلوم

تدريبات إثرائية

الصف الأول

نهاية الفصل الدراسي الأول 2021-2022

الاسم:

الصف: الأول (.....)

هذه التدريبات لا تُغني عن أسئلة وتدريبات الكتاب المدرسي

رؤيتنا: إعداد جيل منتمٍ لدينه ووطنه متمسك بالعلم والقيم في بيئة آمنة ومحفزة.

تدريبات إثرائية (1)

اختر الإجابة الصحيحة

1

أي الكائنات الحية التالية يتكاثر بالبيض؟



(ت)



(ب)



(أ)

(أ)

A

(ب)

B

(ت)

C

2

أي الأطفال التاليين يكون الأكثر طولاً والأثقل وزناً؟

طفل عمره 7 أشهر

A


طفل عمره عامين

B


طفل عمره خمس سنوات

C

رؤيتنا: إعداد جيل منتّم لدينه ووطنه متسلح بالعلم والقيم في بيئة آمنة ومحفزة.

	الشرنقة مرحلة من دورة حياة		3
	السلمندر	A	
	الفراشة	B	
	الثعبان	C	

كم عدد مراحل دورة حياة الإنسان؟		4
	ثلاثة	A
	أربعة	B
	خمسة	C

	كيف يتحرك الطفل الموجود بالصورة؟		5
	ينزلق	A	
	يتدحرج	B	
	يركض	C	

رؤيتنا: إعداد جيل منتّم لدينه ووطنه متسلح بالعلم والقيم في بيئة آمنة ومحفزة.

6	أي الأشياء التالية يتحرك بنفس الطريقة؟
A	حوت وسمكة وصقر
B	سمكة ودولفين وقرش
C	نعامة وفهد وثعبان

السؤال الثاني: أكمل الجمل باستخدام الكلمات الموجودة في مربع الكلمات التالي.

أركض - الحركة - الطائرة - الأوراق

1- النبات يتحرك حركة محدودة (-----) هي التي تتحرك ناحية الضوء.
2- (-----) لا تتحرك من من تلقاء نفسها.
3- عندما ننتقل من المكان (أ) إلى المكان (ب) هذا يسمى (-----).
4- أستطيع أن (-----) بسرعة.

رؤيتنا: إعداد جيل منتمٍ لدينه ووطنه متسلح بالعلم والقيم في بيئة آمنة ومحفزة.

السؤال الثالث: صل بين العبارة والصورة التي تعبر عنها



يتحرك من تلقاء نفسه



يتحرك بالمحرك والوقود

تم تحميل هذا الملف من
موقع المناهج القطرية
alManahj.com/qa

السؤال الرابع: ضع علامة (✓) أمام العبارة الصحيحة، وعلامة (X) أمام العبارة الخاطئة.

(-----)	3-العجلات تُسهل من حركة الأشياء الثقيلة.
(-----)	2-عندما أمشي تكون سرعتي أكبر من سرعتي عندما أركض وأجري.
(-----)	3-الشتلة مرحلة من مراحل نمو النبات، والمراهق من مراحل نمو الإنسان.

رؤيتنا: إعداد جيل منتّم لدينه ووطنه متسلّح بالعلم والقيم في بيئة آمنة ومحفزة.

السؤال الخامس: أجب عما يلي.

عندما تريد دفع صندوق ثقيل جدًا، ولكنك لا تستطيع أن تحركه، ما الشيء الذي يمكنك إضافته لهذا الصندوق حتى يتحرك بسهولة وتستطيع دفعه للأمام؟

(-----)

تم تحميل هذا الملف من

قم بالتدريب على نسخ المصطلحات التالية

العجلات	مستقيم	منحنٍ	متعرج
العجلات	مستقيم	منحنٍ	متعرج
العجلات	مستقيم	منحنٍ	متعرج
العجلات	مستقيم	منحنٍ	متعرج

رؤيتنا: إعداد جيل منتّم لدينه ووطنه متسلح بالعلم والقيم في بيئة آمنة ومحفزة.




تدريبات إثرائية (2)

	<p>1 ما اسم مسار الحركة الموجود بالصورة؟</p> <table> <tr> <td data-bbox="1252 786 1327 851">A</td><td data-bbox="1141 786 1252 851">منحن</td></tr> <tr> <td data-bbox="1252 851 1327 917">B</td><td data-bbox="1141 851 1252 917">مستقيم</td></tr> <tr> <td data-bbox="1252 917 1327 982">C</td><td data-bbox="1141 917 1252 982">متعرج</td></tr> </table>	A	منحن	B	مستقيم	C	متعرج
A	منحن						
B	مستقيم						
C	متعرج						

أي الأشياء التالية قد يصنع من المطاط؟		2
نافذة السيارة	A	
كرسي السيارة	B	
إطار سيارة	C	

أي الأشياء التالية يكون خشن ونعرفه بحاسة اللمس؟		3
لاصق فيلكرو	A	
قماش حرير	B	
كوب زجاج	C	

رؤيتنا: إعداد جيل منتمٍ لدينه ووطنه متسلح بالعلم والقيم في بيئة آمنة ومحفزة.

<p>أي الكائنات التالية ينمو ويتغذى ويتنفس؟</p> <div style="display: flex; justify-content: space-around; align-items: center;">    </div>	4
<div style="display: flex; justify-content: flex-end; align-items: center;"> <div style="border: 1px solid black; padding: 2px 5px;">A</div> <div>(أ)</div> </div>	
<div style="display: flex; justify-content: flex-end; align-items: center;"> <div style="border: 1px solid black; padding: 2px 5px;">B</div> <div>(ب)</div> </div>	
<div style="display: flex; justify-content: flex-end; align-items: center;"> <div style="border: 1px solid black; padding: 2px 5px;">C</div> <div>(ت)</div> </div>	

<p>تتشابه دورة حياة الإنسان والفراشة في نقطتين، أي من التالي أحدهما؟</p>	5
<div style="display: flex; justify-content: flex-end; align-items: center;"> <div style="border: 1px solid black; padding: 2px 5px;">A</div> <div>مرحلة البالغ</div> </div>	
<div style="display: flex; justify-content: flex-end; align-items: center;"> <div style="border: 1px solid black; padding: 2px 5px;">B</div> <div>مرحلة اليرقة</div> </div>	
<div style="display: flex; justify-content: flex-end; align-items: center;"> <div style="border: 1px solid black; padding: 2px 5px;">C</div> <div>مرحلة المراهق</div> </div>	

<p>المادة التي تتحني بسهولة تكون مادة</p>	6
<div style="display: flex; justify-content: flex-end; align-items: center;"> <div style="border: 1px solid black; padding: 2px 5px;">A</div> <div>صلبة</div> </div>	
<div style="display: flex; justify-content: flex-end; align-items: center;"> <div style="border: 1px solid black; padding: 2px 5px;">B</div> <div>قاسية</div> </div>	
<div style="display: flex; justify-content: flex-end; align-items: center;"> <div style="border: 1px solid black; padding: 2px 5px;">C</div> <div>لينة</div> </div>	

رؤيتنا: إعداد جيل منتهم لدينه ووطنه متسلح بالعلم والقيم في بيئة آمنة ومحفزة.

السؤال الثاني: أكمل الجمل باستخدام الكلمات الموجودة في مربع الكلمات التالي.

الحمامة - الزجاج - الأرنب

1- بعض الكائنات مثل (-----) تستطيع أن تتحرك من نفسها دون مساعدة من أحد.

2- (-----) هي مادة لا يجب أن نضع منها لعب الأطفال.

3- (-----) كائن حي يتكاثر عن طريق وضع البيض.

السؤال الثالث: صل بين العبارة والصورة التي تعبر عنها



كائن حي يتكاثر بالولادة



كائن غير حي، ولكنه يتحرك

رؤيتنا: إعداد جيل منتّم لدينه ووطنه متسلح بالعلم والقيم في بيئة آمنة ومحفزة.

السؤال الرابع: ضع علامة (√) أمام العبارة الصحيحة، وعلامة (X) أمام العبارة الخاطئة.

3-تختلف سرعة الأجسام المتحركة، بعضها يتحرك بسرعة وبعضها ببطيء.	(-----)
2-استخدم حاسة التذوق للفرقة بين ملمس المواد المختلفة.	(-----)

السؤال الخامس: أجب عما يلي.

صنف الأشياء التالية حسب المادة التي صُنعت منها

جرة - مكعبات ليغو - دفتر - غُترَة

ورق	قماش	طين	بلاستيك
-----	-----	-----	-----

رؤيتنا: إعداد جيل منتّم لدينه ووطنه متسلح بالعلم والقيم في بيئة آمنة ومحفزة.

تدريبات إثرائية (3)

1	ما هو الكائن الحي الذي تعتبر مرحلة المراهق جزء من دورة حياته؟
A	الكلب
B	الفراشة
C	الإنسان

2	من الصور الموجودة أمامك شيء يتحرك بسبب وجود محرك بداخله، من هو؟
	  
A	(أ)
B	(ب)
C	(ت)


رؤيتنا: إعداد جيل منتّم لدينه ووطنه متسلح بالعلم والقيم في بيئة آمنة ومحفزة.

3	أي الكائنات التالية يكون الأسرع عند الركض؟
	السلحفاة <input type="checkbox"/> A
	البقرة <input type="checkbox"/> B
	الفهد <input type="checkbox"/> C

4	عدسات النظارة الطبية شفافة، من أي مادة نصنع هذه العدسات؟
	الإسفنج <input type="checkbox"/> A
	الفلين <input type="checkbox"/> B
	الزجاج <input type="checkbox"/> C

5	عندما قمت بتمرير يدي على غطاء سريري وجدت أنه ناعم، ما الحاسة التي استخدمتها لاكتشاف ذلك؟
	النظر <input type="checkbox"/> A
	اللمس <input type="checkbox"/> B
	التذوق <input type="checkbox"/> C

رؤيتنا: إعداد جيل منتّم لدينه ووطنه متسلح بالعلم والقيم في بيئة آمنة ومحفزة.

	<p>كيف يتحرك هذا الولد؟</p>	<p>6</p>
	<p>يقفز</p>	<p>A</p>
	<p>يركض</p>	<p>B</p>
	<p>يدور</p>	<p>C</p>

السؤال الثاني: أكمل الجمل باستخدام الكلمات الموجودة في مربع الكلمات التالي.

ناعم - يقفز - الوقود - الصلبة

<p>1-المواد (-----) هي مواد لا تتحني بسهولة.</p>
<p>2-يحتاج المحرك إلى (-----) كي يعمل.</p>
<p>3-يستطيع الإنسان أن (-----) على رجل واحدة.</p>
<p>4-أستطيع أن أصف الحرير بأنه (-----) باستخدام حاسة اللمس.</p>

رؤيتنا: إعداد جيل منتهم لدينه ووطنه متسلح بالعلم والقيم في بيئة آمنة ومحفزة.

السؤال الثالث: صل بين العبارة والصورة التي تعبر عنها



شيء مصنوع من المطاط



شيء مصنوع من المعدن

تم تحميل هذا الملف من
موقع المناهج القطرية

alManahj.com/qa

السؤال الرابع: ضع علامة (✓) أمام العبارة الصحيحة، وعلامة (X) أمام العبارة الخاطئة.

3- أستطيع أن أمشي بدراجتي الهوائية في مسار حركة متعرج.	(-----)
2- يمكنني أن أصنع المناشف من المطاط أو البلاستيك.	(-----)
3- هناك أشياء تتحرك بسرعة وأشياء تتحرك ببطيء، لذلك دائماً ما تختلف سرعات الأشياء المتحركة.	(-----)

رؤيتنا: إعداد جيل منتّم لدينه ووطنه متسلح بالعلم والقيم في بيئة آمنة ومحفزة.

السؤال الخامس: أجب عما يلي.

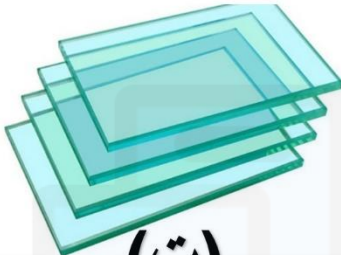


صنف الأشياء التالية في الجدول ، وذلك بكتابة الرقم في مكانه الصحيح بالجدول.



ناعم	خشن


رؤيتنا: إعداد جيل منتّم لدينه ووطنه متسلح بالعلم والقيم في بيئة آمنة ومحفزة.

تدريبات إثرائية (4)

1		ما المادة التي لا يجب علينا أن نصنع منها ألعاب الأطفال لأنها غير مناسبة؟
		
(ت)	(ب)	(أ)
(أ)	A	
(ب)	B	
(ت)	C	

2		ما الاختلاف بين دورتي حياة القطة والضب؟
	A	مرحلة حديث الولادة
	B	مرحلة الصغير
	C	مرحلة البالغ

رؤيتنا: إعداد جيل منتّم لدينه ووطنه متسلح بالعلم والقيم في بيئة آمنة ومحفزة.

	<p>ما هي المواد التي يُصنع منها هذا الكرسي؟</p>	<p>3</p>
	<p>A زجاج وورق</p>	
	<p>B قماش وحجر</p>	
	<p>C بلاستيك ومعدن</p>	

<p>كم عدد مراحل دورة حياة النبات؟</p>	<p>4</p>
<p>A أربعة</p>	
<p>B خمسة</p>	
<p>C ستة</p>	

<p>كرة القدم عندما نركلها وتتحرك للأمام فأنها</p>	<p>5</p>
<p>A تتدحرج</p>	
<p>B تنزلق</p>	
<p>C ترفرف</p>	

رؤيتنا: إعداد جيل منتّم لدينه ووطنه متسلح بالعلم والقيم في بيئة آمنة ومحفزة.

6

أي من الصور التالية تعبر عن شيء مصنوع من مادة طرية؟



(ت)



(ب)



(أ)

(أ)	A	
(ب)	B	
(ت)	C	

السؤال الثاني: أكمل الجمل باستخدام الكلمات الموجودة في مربع الكلمات التالي.

طرية - العجلات - الخشنة

1- لكي أميز المواد (-----) يجب عليّ استخدام حاسة اللمس.

2- تسهل (-----) حركة الأشياء الكبيرة والثقيلة.

3- عند نقل مجموعة من الأطباق الزجاجية يمكنني حمايتها من الكسر عن طريق وضع مادة تمتاز بأنها (-----) بين الأطباق.

رؤيتنا: إعداد جيل منتهم لدينه ووطنه متمسك بالعلم والقيم في بيئة آمنة ومحفزة.

السؤال الثالث: صل بين العبارة والصورة التي تعبر عنها



مصنوع من القماش



مصنوع من الطين



تم تحميل هذا الملف من
موقع المناهج القطرية

alManahj.com/qa

السؤال الرابع: ضع علامة (✓) أمام العبارة الصحيحة، وعلامة (X) أمام العبارة الخاطئة.

(-----)	3-الشرنقة مرحلة من دورة حياة الفراشة، والبادرة مرحلة من دورة حياة النبات.
(-----)	2-عندما نقوم برمي كرة البولينج فإنها تنزلق.
(-----)	3-يفضل صناعة المطرقة والمسمار من المواد اللينة.

رؤيتنا: إعداد جيل منتّم لدينه ووطنه متسلح بالعلم والقيم في بيئة آمنة ومحفزة.

السؤال الخامس: أجب عما يلي.

1) اذكر اسم شيء لا يتحرك من تلقاء نفسه، ويحتاج للمساعدة كي يتحرك، كما أنه لا يعمل بمحرك.

(-----)

قم بالتدريب على نسخ المصطلحات التالية			
خشن	ناعم	طرية	قاسية
خشن	ناعم	طرية	قاسية
خشن	ناعم	طرية	قاسية
خشن	ناعم	طرية	قاسية