

تم تحميل هذا الملف من موقع المناهج القطرية



أوراق عمل الدايل نهاية الفصل غير مجانية

موقع المناهج ← المناهج القطرية ← المستوى الأول ← رياضيات ← الفصل الأول ← أوراق عمل ← الملف

تاريخ إضافة الملف على موقع المناهج: 17:04:23 2024-12-11

ملفات اكتب للمعلم اكتب للطالب | اختبارات الكترونية | اختبارات | حلول | عروض بوربوينت | أوراق عمل
منهج انجليزي | ملخصات وتقارير | مذكرات وبنوك | الامتحان النهائي للمدرس

المزيد من مادة
رياضيات:

التواصل الاجتماعي بحسب المستوى الأول



صفحة المناهج
القطرية على
فيسبوك

الرياضيات

اللغة الانجليزية

اللغة العربية

التربية الاسلامية

المواد على تلغرام

المزيد من الملفات بحسب المستوى الأول والمادة رياضيات في الفصل الأول


أوراق عمل الأندلس نهاية الفصل غير مجانية	1
أوراق عمل مريم بنت عمران نهاية الفصل غير مجانية	2
أوراق عمل الأندلس مع الإجابة النموذجية	3
أوراق عمل اثرائية نهاية الفصل مع الإجابة النموذجية	4
أوراق عمل دعم وإثراء الفرقان نهاية الفصل غير مجانية	5

مدرسة عبد الحميد الدايل للبنين
الفصل الدراسي الأول للعام 2024-2025م
بنك الأسئلة الوحدة الرابعة - عد الأعداد حتى 20

الاسم:


الصف: أول/.....

اختر الإجابة الصحيحة لكل من الأسئلة من 1 إلى 5، وذلك بوضع علامة × داخل المربع المجاور للإجابة الصحيحة:

السؤال رقم 1	
	أي مما يلي يمثل عدد السفن ؟
<input type="checkbox"/>	13
<input type="checkbox"/>	14
<input type="checkbox"/>	15

السؤال رقم 2	
	أي مما يلي يمثل عدد البيض ؟
<input type="checkbox"/>	11
<input type="checkbox"/>	12
<input type="checkbox"/>	13

السؤال رقم 3



أي مما يلي يمثل عدد قطع العد المجاورة ؟

15

A


16

B

19

C

السؤال رقم 4



أي مما يلي يمثل عدد السلاحف ؟

13

A

14

B

15

C

السؤال رقم 5



أي مما يلي يمثل عدد الصيصان ؟

11

A

12

B


13

C

عند الإجابة على الأسئلة من 6 إلى 15، اكتب إجاباتك في المساحات المخصصة لذلك:


السؤال رقم 6

عد الأشياء الموجودة في المجموعة وأكتب العدد




السؤال رقم 7

اكتب العدد الكلي للأسماك.



السؤال رقم 8

اكتب العدد الكلي لقطع العد.




السؤال رقم 9

اكتب العدد الكلي للمكعبات.




السؤال رقم 10

اكتب العدد الكلي للمكعبات.




السؤال رقم 11

اكتب العدد الكلي للمكعبات.




السؤال رقم 12

اكتب العدد الكلي للمكعبات.



السؤال رقم 13

عد الأشياء الموجودة في المجموعة وأكتب العدد



السؤال رقم 14

عد الأشياء الموجودة في المجموعة وأكتب العدد



السؤال رقم 15

عد الأشياء الموجودة في المجموعة وأكتب العدد

