

تم تحميل هذا الملف من موقع المناهج القطرية



أوراق عمل وحدة الأشياء المتحركة

موقع المناهج ← المناهج القطرية ← المستوى الأول ← علوم ← الفصل الأول ← أوراق عمل ← الملف

تاريخ إضافة الملف على موقع المناهج: 2024-12-15 21:21:29

ملفات اكتب للمعلم اكتب للطالب الاختبارات الكترونية | اختبارات | حلول | عروض بوربوينت | أوراق عمل
منهج انجليزي | ملخصات وتقارير | مذكرات وبنوك | الامتحان النهائي للمدرس

المزيد من مادة
علوم:

التواصل الاجتماعي بحسب المستوى الأول



صفحة المناهج
القطرية على
فيسبوك

الرياضيات

اللغة الانجليزية

اللغة العربية

التربية الاسلامية

المواد على تلغرام

المزيد من الملفات بحسب المستوى الأول والمادة علوم في الفصل الأول

أوراق عمل وحدة خصائص المواد	1
بنك أسئلة الوحدة الثالثة خصائص المواد	2
بنك أسئلة الوحدة الثانية الأشياء المتحركة	3
مجموعة أوراق عمل غير مجابة	4
أوراق عمل نهاية الفصل غير مجابة	5

بنك الأسئلة

العام الأكاديمي 2024 – 2025

خولة بنت الأزور	اسم المدرسة
علوم	المادة
الاول	الصّف
د. رانيا البكور	اسم الموجه التربوي
دينا أبو لبدة	اسم المنسق (المراجع)
ندى يوسف شعبان	اسم المعلم (المعد)
○ منتصف الفصل الدراسي الأوّل ○ نهاية الفصل الدراسي الأوّل	نوع الاختبار
1 ديسمبر	تاريخ التسليم

ملاحظات	أرقام الأسئلة					رقم النتائج	اسم الدرس	اسم الوحدة
	المقالي	صح وخطأ	أكمل الفراغ	المزاوجة	الاختيار من متعدد			
	19	17	15	12	11-1	P0101.2	كيف أساعد الأشياء كي تتحرك؟	الأشياء المتحركة
	20	18	16	13		P0102.1		
	21			14		P0102.2	كيف أقارن بين الأشياء التي تتحرك؟	
	22					P0102.3		







تعليمات
اختر الإجابة الصحيحة لكل من الأسئلة من 1 إلى 11 ، وذلك بوضع علامة × داخل
المربع المجاور للإجابة الصحيحة:

السؤال رقم (1)	
أي من الأشياء الآتية يتحرك بواسطة محرك؟	
السيارة	A
الإنسان	B
الغيوم	C

السؤال رقم (2)	
أي من الأشياء الآتية يتحرك بواسطة العجلات؟	
البيت	A

الضفدع	B
الدراجة الهوائية	C




السؤال رقم (3)	
أي مما يلي بحاجة الى أن يحركه الإنسان ليتحرك؟	
	A
	B
	C

السؤال رقم (4)	
	كيف يتحرك كائن حي يمشي في المسار الذي في الصورة؟


يتحرك بمسار مستقيم	A
يتحرك بمسار منحني	B
يتحرك بمسار متعرج	C

السؤال رقم (5)	
أي مما يلي يتحرك بواسطة الريح؟	
	A
	B
	C

السؤال رقم (6)	
أي من الأشياء الآتية يحتاج الى مساعدة كي يتحرك؟	

	A
	B
	C

	السؤال رقم (7)
<p>أي من الأشياء الآتية يستخدمه المحرك كي يساعد السيارة على الحركة؟</p>	
الماء	A
الوقود	B
الهواء	C

		السؤال رقم (8)
		أي مما يلي يجعل الحقيبة تتحرك؟
	الرياح	A
	المحرك	B
	الإنسان	C

		السؤال رقم (9)
		أي مما يلي يساعد على تشغيل المحرك؟
	الماء	A
	الوقود	B
	الهواء	C

السؤال رقم (10)

أي من الأشياء الآتية لا يحتاج الى مساعدة كي يتحرك؟



A



B



C

السؤال رقم (11)

ما هو الشيء المشترك بين تلك الأشياء؟



جميعها لها محرك.

A

جميعها لها أجنحة.

B

جميعها لها عجالات تساعد على الحركة.

C

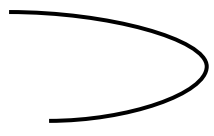





السؤال رقم (12)

صل ما في العمود (أ) بما يناسبه في العمود (ب) :

(ب)	(أ)
ينزلق	
متعرج	
يتدحرج	
إلى الأمام	
إلى الخلف	

صل ما في العمود (أ) بما يناسبه في العمود (ب) :

(ب)	(أ)
يتحرّك من تلقاء نفسه	
يتحرّك بمساعدة الهواء	
منحنٍ	
مستقيم	

صل ما في العمود (أ) بما يناسبه في العمود (ب) :

(ب)	(أ)
مختلفة	تساعد العجلات الأشياء كي
تتحرك	تتحرك الأشياء بطرق
الهواء	يستخدم محرك السيارة
الوقود	العلم يتحرك بواسطة

أكمل الفراغات التالية مستعيناً بالكلمات في الجدول التالي.

عجلات	تتحرك	الوقود	تلقاء نفسها
-------	-------	--------	-------------

- 1- تحتاج بعض الأشياء إلى المساعدة كي
- 2- يستخدم المحرك
- 3- لبعض الأشياء المتحركة

أكمل الفراغات التالية مستعيناً بالكلمات في الجدول التالي .

الإنسان	الريح	مختلفة	مسار
---------	-------	--------	------

- 1- تتحرك الحقيبة بواسطة
- 2- تتحرك الطائرة الورقية بواسطة
- 3- يمكن أن نجعل الأشياء تتحرك باتجاهات

ضع علامة (\checkmark) أمام العبارة الصحيحة وعلامة (\times) أمام العبارة الخاطئة :

- 1- تتحرك الأشياء بطرق مختلفة. ()
- 2- لا تستخدم المحركات الوقود. ()
- 3- كل الأجسام تتحرك بالانزلاق. ()
- 4- تتحرك الأشياء بمسارات متشابهة. ()
- 5- تسهل العجلات تحريك الأشياء الكبيرة والثقيلة. ()

ضع علامة (\checkmark) أمام العبارة الصحيحة وعلامة (\times) أمام العبارة الخطأ :

- 1- يتحرّك القطار بواسطة الهواء. ()
- 2- تتحرّك الأشياء باتجاهات مختلفة. ()
- 3- تتحرّك الطائرة الورقية بواسطة الوقود. ()
- 4- تحتاج عربة التسوق الى الوقود كي تتحرك. ()
- 5- تستطيع السيارة أن تتحرّك في مسارات مختلفة. ()

السؤال رقم (19)

أ- أصل كل نقطة بالتي تليها من حيث الترتيب العددي.



ب- أذكر اسم هذا النوع من المسار.

.....

السؤال رقم (20)

أ- ضع دائرة حول الأشياء التي تحتاج الى مساعدة كي تتحرك.



سم الكائن الحي الذي يساعد الأشياء التي وضعت دائرة عليها لتتحرك.

.....

السؤال رقم (21)

ما هو الاتجاه الذي تتحرك فيه الطائرة؟



2025

2024

.....

السؤال رقم (22)

ما هي الحركة التي تصف الصورة؟



.....

