

تم تحميل هذا الملف من موقع المناهج القطرية



*للحصول على أوراق عمل لجميع الصفوف وجميع المواد اضغط هنا

<https://almanahj.com/qa>

* للحصول على أوراق عمل لجميع مواد المستوى الأول اضغط هنا

<https://almanahj.com/qa/1>

* للحصول على جميع أوراق المستوى الأول في مادة رياضيات ولجميع الفصول. اضغط هنا

<https://almanahj.com/qa/1>

* للحصول على أوراق عمل لجميع مواد المستوى الأول في مادة رياضيات الخاصة بـ اضغط هنا

<https://almanahj.com/qa/1>

* لتحميل كتب جميع المواد في جميع الفصول للمستوى الأول اضغط هنا

<https://almanahj.com/qa/grade1>

للتحدث إلى بوت على تلغرام: اضغط هنا

https://t.me/qacourse_bot



مدرسة الخور الابتدائية للبنات

العام الأكاديمي 2020/2021

أسم الطالبية: الصف: أول ١


تدريبات اثرائية لمادة الرياضيات للمنطقة القطرية للصف الأول الابتدائي



في الوحدة الرابعة
عد الأعداد حتى 20



أجب عن الأسئلة الآتية :

السؤال 1	
ما عدد الأسماك في الصورة ؟	
	
11	A <input type="checkbox"/>
12	B <input type="checkbox"/>
13	C <input type="checkbox"/>

almanahj.com/qa

المنهج القلمية

السؤال 2	
قطف فارس 10 زهور و قطفت أخته 2 من الزهور . ما العدد الكلي للزهور ؟	
	
10	A <input type="checkbox"/>
11	B <input type="checkbox"/>
12	C <input type="checkbox"/>

السؤال 3

ما العدد الكلي للسيارات؟




11 A

12 B

13 C

السؤال 4

أي مما يلي يمثل عدد الأرانب؟




12 A

13 B

14 C

السؤال 5

ما هو عدد الأشياء الموجودة أمامك؟




15 A

13 B

10 C

السؤال 6

ما هو عدد الأشياء الموجودة أمامك؟

15 A 13 B 10 C

السؤال 7

أي من الأعداد التالية هو العدد ثمانية عشر؟

almanahj.com/qa
المنهاج القطرية

11 A 14 B 18 C

السؤال 8

كم عدد الدجاج الموجود أمامك؟

13 A 16 B 12 C

السؤال 9

ما هو عدد الأشياء الموجودة أمامك ؟



20 A

17 B

19 C

السؤال 10

ما هو عدد الأشياء الموجودة أمامك ؟



16 A

18 B

20 C

السؤال 11

أي من التالي يمثل عدد الفراشات ؟




20 A

18 B

19 C


السؤال 12

أي مما يلي يمثل عدد الخراف؟

10 A 11 B 12 C

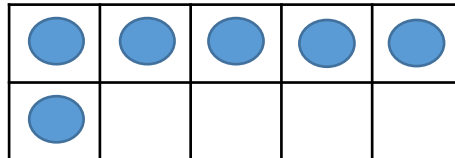
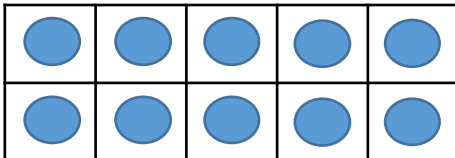
السؤال 13

أي مما يلي يمثل عدد المكعبات؟

19 A 18 B 20 C

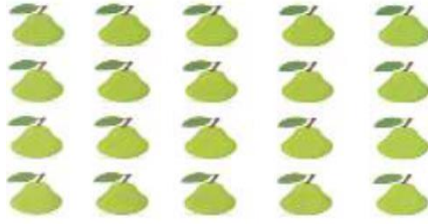
السؤال 14

أي من التالي يمثل عدد قطع العد؟

20 A 16 B 19 C

السؤال 15

أي من التالي يمثل عدد حبات الكمثرى؟

20 A 18 B 19 C

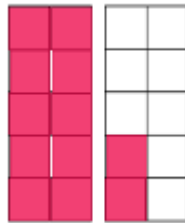
السؤال 16

أي مما يلي يمثل عدد النجوم؟

11 A 13 B 15 C


السؤال 17

أي مما يلي يمثل عدد المربعات الملونة؟

12 A 13 B 14 C

السؤال 18

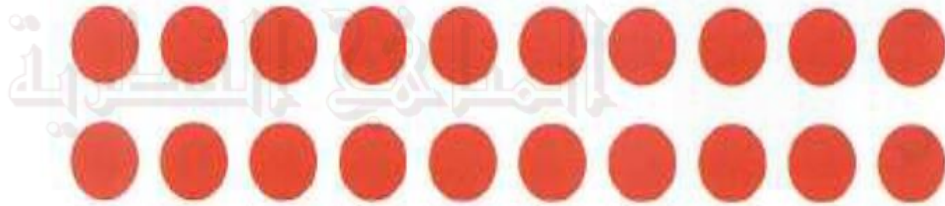
أرسم أربعة عشر قطعة عد في المربع ، ثم اكتب العدد في الفراغ .



السؤال 19


أحوظ ستة عشر قطعة عد ، ثم اكتب العدد في الفراغ .

almanahj.com/qa



السؤال 20

أعد المكعبات في كل مجموعة ، ثم اكتب العدد في الفراغ :



السؤال 21

أكتب عدد الأشياء في كل مجموعة .

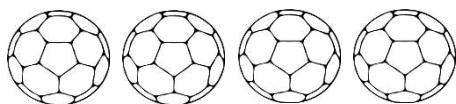




almanahj.com/qa


السؤال 22


أعد الكرات ، ثم ارسم المزيد منها حتى يصبح عددها 11.



السؤال 23

أعد الأشياء التالية ، ثم اكتب العدد .





السؤال 24

أرسم مجموعة من الدوائر تمثل العدد 19 .





19




almanatjz.com/qa

السؤال 25

المنافذ القطرية

أعد الأشياء ، واكتب العدد .





السؤال 26

أجب عن الأسئلة التالية :

(2) لدى محمد 5 ريالات . أعطاه ابوه 6 ريالات إضافية ، كم أصبح عدد الريالات لدى محمد ؟

(1) لدى محمد 14 قلماً . أعطاه اخوه 1 قلماً إضافياً ، كم أصبح عدد الأقلام لدى محمد ؟