

تم تحميل هذا الملف من موقع المناهج القطرية



تدريبات شاملة للدروس التي تم تعلمها خلال الأسبوع

موقع المناهج ← المناهج القطرية ← المستوى العاشر ← علوم ← الفصل الأول ← ملفات متنوعة ← الملف

تاريخ إضافة الملف على موقع المناهج: 2024-10-18 00:14:30

ملفات اكتب للمعلم اكتب للطالب الاختبارات الكترونية | اختبارات | حلول | عروض بوربوينت | أوراق عمل
منهج انجليزي | ملخصات وتقارير | مذكرات وبنوك | الامتحان النهائي للمدرس

المزيد من مادة
علوم:

إعداد: مدرسة محمد بن عبد العزيز المانع الثانوية للبنين

التواصل الاجتماعي بحسب المستوى العاشر



الرياضيات



اللغة الانجليزية



اللغة العربية



التربية الاسلامية



المواد على تلغرام

صفحة المناهج
القطرية على
فيسبوك

المزيد من الملفات بحسب المستوى العاشر والمادة علوم في الفصل الأول

تدريبات على ماتم تعلمه خلال الوحدة

1

شرح مفصل للوحدة الأولى والثانية

2

مذكرة الامتياز للوحدة الأولى والثانية

3

أوراق عمل إثرائية للوحدة الأولى تركيب الخلية ووظيفتها

4

أوراق عمل إثرائية للوحدة الثانية انقسام الخلية ونموها

5

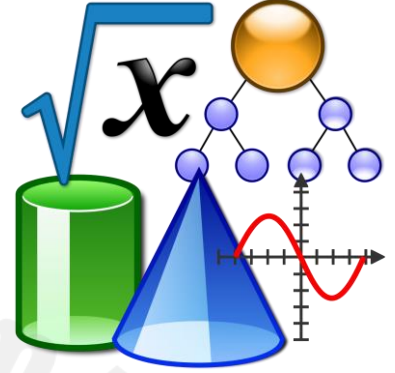
الرياضيات

إجابات

تدريبات

1446 هـ - 24-25 م

منتصف ف 1
دعم
وإثراء



يا رب انصر عبادك المؤمنين
وجنك الموحدين في كل مكان

حتماً ستعود

القدس والأقصى

ملحوظة: هذه التدريبات لا تقني عن الكتاب المدرسي

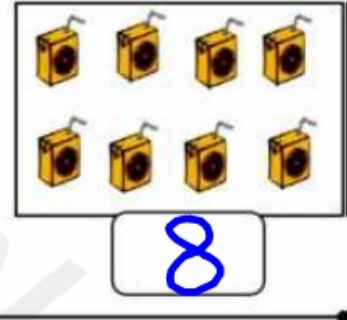
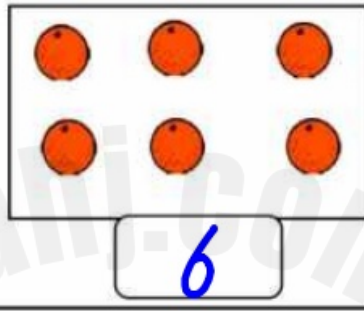
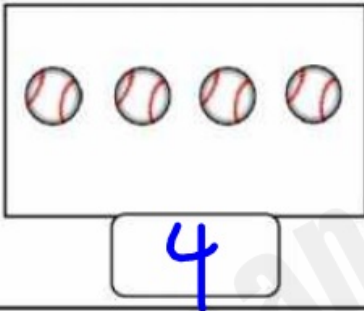

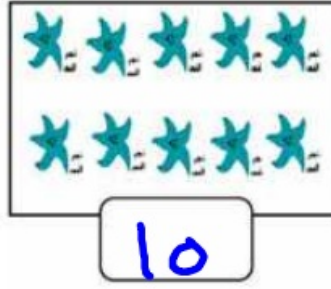
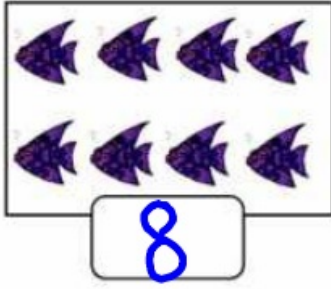
الصف/1-

الاسم/


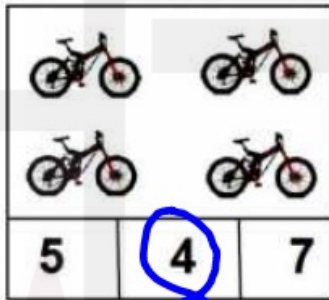
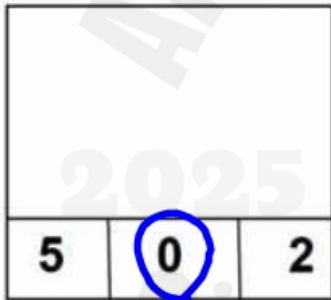
التميز



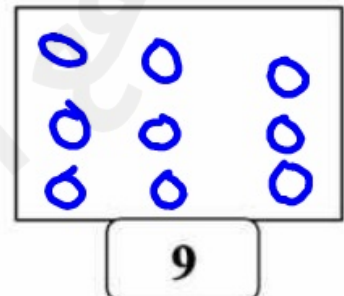
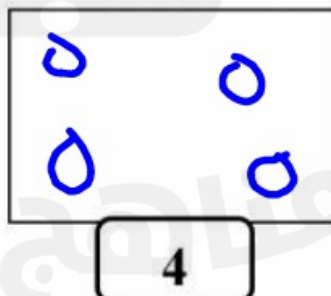
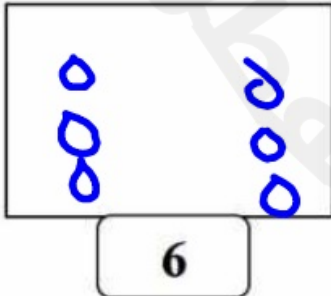
أ : عد و اكتب العدد :



ب : ضع حول العدد المناسب :



ج : ارسم دوائر حسب العدد



د : عد صاعد و اكتب العدد :

→ 0 1 2 3 4 5 6 7 8 9

د : عد نازلا و اكتب العدد :

→ 10 9 8 7 6 5 4 3 2 1

د : عد صاعد و اكتب العدد :

→ 3 4 5 6 7 8

→ 5 6 7 8 9 10

→ 2 3 4 5 6 7

د : عد نازلا و اكتب العدد :

→ 10 9 8 7 6 5

→ 6 5 4 3 2 1

→ 8 7 6 5 4 3

ر - استكشاف الجمع : ما العدد الكلي ؟



7 4 3
نصبح و



4 2 2
نصبح و



5 4 1
نصبح و



8 6 2
نصبح و

ز - تمثيل الجمع بجملة عددية : اكتب جملة الجمع .



$$4 + 3 = 7$$



$$4 + 4 = 8$$



$$2 + 4 = 6$$



$$2 + 2 = 4$$



$$5 + 2 = 7$$



$$3 + 3 = 6$$



$$6 + 3 = 9$$



$$3 + 2 = 5$$



$$1 + 4 = 5$$



$$2 + 2 = 4$$



$$4 + 6 = 10$$



$$3 + 5 = 8$$

$$2 + 3 = \dots 5 \dots$$

$$10 + 0 = \dots 10 \dots$$

$$5 + 1 = \dots 6 \dots$$

$$4 + 3 = \dots 7 \dots$$

$$6 + 4 = \dots 10 \dots$$

$$5 + 5 = \dots 10 \dots$$

$$3 + 4 = \dots 7 \dots$$

$$3 + 7 = \dots 10 \dots$$

$$3 + 3 = \dots 6 \dots$$

$$4 + 4 = \dots 8 \dots$$

في صندوق 3 و 3
كم كرة في الصندوق؟



$$\begin{array}{r} 3 + 3 \\ 3 + 3 = 6 \end{array}$$

بزي جاسم 1 و 6
ما العذد الكلي للخصرات التي
بزاها جاسم؟



$$\begin{array}{r} 1 + 6 \\ 1 + 6 = 7 \end{array}$$

لدى خمير 2 و 5
ما العذد الكلي لقطع العذ لذيها؟



$$\begin{array}{r} 2 + 5 \\ 2 + 5 = 7 \end{array}$$

لدى غابشة 4 و 3
ما العذد الكلي لقطع العذ لذيها؟



$$\begin{array}{r} 4 + 3 \\ 4 + 3 = 7 \end{array}$$

أنفدج قطف طلان 3
ثم قطف 5 أخرى.
كم قطف طلان؟

$$3 + 5 = 8$$

تقويم قطف علي 4 و 5
كم ثقافة قطف علي؟



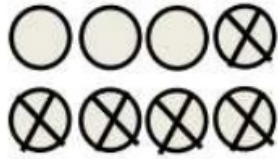







$$4 + 5 = 9$$

لدى زابد 3 و 2
ما عذد المكعبات التي لدى زابد؟

$$3 + 2 = 5$$

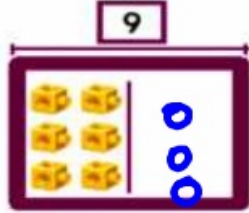
أنفدج لدى ناصر 2
ولدى سيف 4
كم لذيها معا؟

$$2 + 4 = 6$$

<p>الكل 8</p>  <p>يبقى 4</p>	<p>الكل 10</p>  <p>يبقى 7</p>
<p>الكل 8</p>  <p>يبقى 3</p>	<p>الكل 9</p>  <p>يبقى 4</p>
<p>الكل 7</p>  <p>يبقى 4</p>	<p>الكل 9</p>  <p>يبقى 7</p>
<p>الكل 5</p>  <p>يبقى 0</p>	<p>الكل 7</p>  <p>يبقى 4</p>
<p>يوجد 9 كرات سلة أجد منها 6 كرات سلة. اكتب العدد الباقي.</p> <p>الكل 9</p>  <p>يبقى 3</p>	<p>الكل 7</p>  <p>يبقى 5</p>

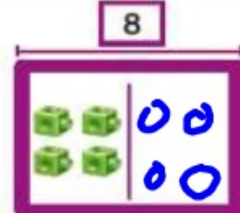
<p>في سلة 8 كرات. أجد منها 3 من الكرات.</p>  $8 - 3 = 5$	<p>أخذت 5 دجاجات.</p>  $6 - 5 = 1$
<p>أخذت 6 نعالب.</p>  $8 - 6 = 2$	<p>أخذت 4 نفور صغيرة.</p>  $6 - 4 = 2$
 $5 - 3 = 2$	<p>مغ مضطفي 6 كرات. أعطى لصديقه 4 منها. اكتب جملة الطرح.</p>  $6 - 4 = 2$
 $6 - 4 = 2$	 $7 - 2 = 5$
$8 - 5 = \dots 3 \dots$	$10 - 5 = \dots 5 \dots$
$9 - 3 = \dots 6 \dots$	$4 - 3 = \dots 1 \dots$
$6 - 5 = \dots 1 \dots$	$5 - 5 = \dots 0 \dots$
$7 - 4 = \dots 3 \dots$	$8 - 7 = \dots 1 \dots$

9 قِطْطِ تَلْعَبُ. هَزَبْتَ 6 مِنْهَا.
كَمْ قِطْطَةً بَقِيَتْ تَلْعَبُ؟



$$9 - 6 = 3$$

وَقَفْتَ 8 صَفَادِعَ عَلَى جَذَعِ شَجَرَةٍ.
قَفَرْتَ 4 صَفَادِعَ مِنْهَا بَعِيدًا.
كَمْ صَفَادِعًا بَقِيَ عَلَى الْجَذَعِ؟



$$8 - 4 = 4$$

فِي غَلْبَةِ 10 أَقْلَامِ ثَلَوْبِي.
سَقَطَتْ مِنْهَا 7 أَقْلَامٍ.
كَمْ قَلَمًا بَقِيَ فِي الْغَلْبَةِ؟



$$10 - 7 = 3$$

عَلَى طَاوِلَةٍ 9 نَفَاحَاتٍ.
تَذَخَّرْتَ مِنْهَا 7 نَفَاحَاتٍ.
كَمْ نَفَاحَةً بَقِيَتْ عَلَى الطَّاوِلَةِ؟



$$9 - 7 = 2$$

أَبْرَزْ مَنْطِقِيًّا فِي بَزَكَةِ 8 بَطَّابٍ. خَرَجْتَ مِنْهَا
4 بَطَّابٍ. كَمْ بَطَّةً بَقِيَتْ فِي الْبَزَكَةِ؟


$$8 - 4 = 4$$

أَسْتَعْمِلِ الْأَنْوَابَ لَدَى سَمَرِ 9 طَوَائِعٍ.
أَعْطَيْتَ 4 طَوَائِعَ لِهَنْدٍ.
كَمْ طَائِعًا بَقِيَ لَدَى سَمَرٍ؟


$$9 - 4 = 5$$

ض: حل المسائل : المقارنة بين الحالات :

اكتب جمل الطرح باستعمال المقارنة بين الحالات




$$6 - 5 = 1$$



$$6 - 3 = 3$$



$$4 - 3 = 1$$



$$7 - 6 = 1$$

بغذُ فَبِضَلْ 7 فِلْزَانِ، خَبْتُ غَدَّ 5 فِلْزَانِ أَكْثَرَ مِنْ قُبْسِي.
كَمْ فَارَا غَدَّ قُبْسِي؟



$$7 - 5 = 2$$

لَدَى زَيْدٍ 3 كِلَابٍ. لَدَى سَيْفٍ 1 مِنْ الْكِلَابِ.
كَمْ كِلْبًا أَكْثَرَ لَدَى زَيْدٍ؟



$$3 - 1 = 2$$