


شكراً لتحميلك هذا الملف من موقع المناهج القطرية



إجابة اختبار في الكائنات الحية والأشياء المتحركة

[موقع المناهج](#) ← [المناهج القطرية](#) ← [المستوى الأول](#) ← [علوم](#) ← [الفصل الأول](#) ← [الملف](#)

تاريخ نشر الملف على موقع المناهج: 15:00:30 2023-10-07

التواصل الاجتماعي بحسب المستوى الأول



روابط مواد المستوى الأول على تلغرام

[الرياضيات](#)

[اللغة الانجليزية](#)

[اللغة العربية](#)

[التربية الاسلامية](#)

المزيد من الملفات بحسب المستوى الأول والمادة علوم في الفصل الأول

[اختبار في الكائنات الحية والأشياء المتحركة](#)

1

[تدريبات مجمع الفرقان منتصف الفصل](#)

2

[تدريبات الاندلس الاثرائية نهاية الفصل](#)

3

[كتاب الطالب](#)

4

[اجابات تدريبات دعم واثراء نهاية الفصل الأول ٢٠٢٢م](#)

5






# اختبار الوحدة الأولى – الكائنات الحية




مادة العلوم

الصف : الأول




\_\_\_\_\_

ضع دائرة حول الإجابة الصحيحة :

رقم (1) السؤال	1 /.....
أي الحيوانات الآتية تتكاثر بالبيض؟	
	A
	B ✓
	C

1 /.....	السؤال رقم (2)
أي من الصور الآتية كائن غير حي؟	
	A ✓
	B
	C

السؤال رقم (3)		1 /.....
ما الخاصية التي تدل عليها الصورة ؟		
A	يتنفس	
✓B	يتغذى	
C	يتحرك	

1 /.....	السؤال رقم ( 4 )
أي المراحل التالية تمثل مرحلة الشباب في دورة حياة الانسان ؟	
	A
	✓B
	C

1 /.....	السؤال رقم (5)
أي الحيوانات التالية تلد؟	
	A
	B
	C ✓

2 /.....

السؤال رقم (6)

صل ما في العمود (أ) بما يناسبه في العمود (ب):

(ب)



(أ)

سمكة

بذور







3/.....

السؤال رقم (7)

ضع علامة (✓) أمام العبارة الصحيحة، أو علامة (x) أمام العبارة الخاطئة :

1. تتكاثر الدجاجة بالبيض . ( ✓ )

2. تتغذى الكائنات الحية بطرق مختلفة . ( ✓ )

3. جميع الكائنات الحية لها دورة حياة . ( ✓ )

4. الأنسان والحيوان والنبات من الكائنات الحية ( ✓ )

2/.....

السؤال رقم (8)

أكمل الفراغات التالية مستعيناً بالكلمات في الجدول التالي:

الأسد - البيض

1. يُعتبر..... الأسد ..... من الكائنات الحية التي تتحرك من تلقاء نفسها .

2. تتكاثر الفراشة ب ..... البيض ..... .

1/.....

السؤال رقم (9)

ما المرحلة الأولى من دورة حياة الضب ؟

..... بيض أو بيضة

.....



# الوحدة الثانية

## الأشياء المتحركة

صل ما في العمود (أ) بما يناسبه في العمود (ب):

يتحرك من تلقاء نفسه
<u>لا</u> يتحرك من تلقاء نفسه



ضع دائرة حول الإجابة الصحيحة :

رقم (2) السؤال	1 /.....
	أي مما يلي يتحرك من تلقاء نفسه
	<b>A</b>
	<b>B</b>
	<b>C</b>

1 /.....	رقم (3) السؤال
<p>أي مما يلي لا يتحرك من تلقاء نفسه</p>	
	<b>A</b>
	<b>B</b>
	<b>C</b>

3/.....

السؤال رقم (4)

أكمل الفراغات التالية مستعيناً بالكلمات في الجدول التالي:

الأنسان - مختلفة - السيارة

1. تتحرك الأشياء بسرعات ..... مختلفة .....
2. تعتبر..... السيارة..... من الكائنات الغير حية التي لا تتحرك من تلقاء نفسها .
3. يُعتبر..... الأنسان ..... من الكائنات الحية التي تتحرك من تلقاء نفسها .