

تم تحميل هذا الملف من موقع المناهج القطرية



*للحصول على أوراق عمل لجميع الصفوف وجميع المواد اضغط هنا

<https://almanahj.com/qa>

* للحصول على أوراق عمل لجميع مواد المستوى الأول اضغط هنا

<https://almanahj.com/qa/1>

* للحصول على جميع أوراق المستوى الأول في مادة رياضيات ولجميع الفصول, اضغط هنا

<https://almanahj.com/qa/1>

* للحصول على أوراق عمل لجميع مواد المستوى الأول في مادة رياضيات الخاصة بـ اضغط هنا

<https://almanahj.com/qa/1>

* لتحميل كتب جميع المواد في جميع الفصول لد المستوى الأول اضغط هنا

<https://almanahj.com/qa/grade1>

للتحدث إلى بوت على تلغرام: اضغط هنا

https://t.me/qacourse_bot



مدرسة الأندلس الابتدائية الإعدادية الثانوية الخاصة للبنات

العام الأكاديمي 2020-2021

رويتنا: تنشئة جيل واعٍ بالعلم متفوقٍ به، راقٍ بالقيم والأخلاق، معتز بوطنه، أصيل بعقيدته، متواصل عالمياً.



أسئلة مراجعة عامة

للمصف الأول

لمادة الرياضيات

الصف:

اسم الطالبة: _____

2021-2020

Andalus Educational Complex
Since 1993

• هذه الأسئلة لا تغني أبداً عن الدراسة من الكتاب.

رسالتنا: تنمية الطالبات معرفياً ومهارياً ووجدانياً واجتماعياً ونفسياً على القيم الإسلامية وثوابت المجتمع.



مدرسة الأندلس الابتدائية الإعدادية الثانوية الخاصة للبنات

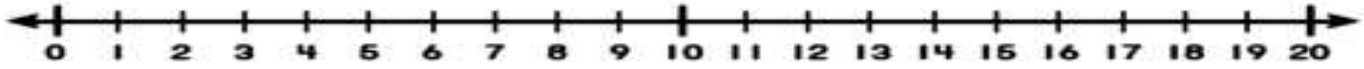
العام الأكاديمي 2020-2021

رويتنا: تنشئة جيل واعٍ بالعلم متفوقٍ به، راقٍ بالقيم والأخلاق، معتز بوطنه، أصيل بعقيدته، متواصل عالمياً.

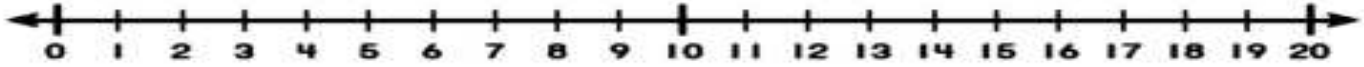


الطرح باستعمال خط الأعداد

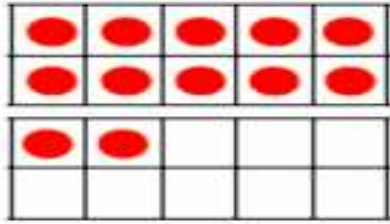
1 / $11 - 5 = \dots\dots$




2 / $8 - 8 = \dots\dots$



الطرح بتكوين العشرة

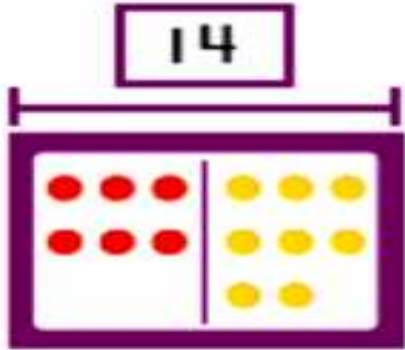


$12 - 4 =$



$17 - 8 =$

عائلات الحقائق



____ + ____ = ____
____ + ____ = ____
____ - ____ = ____
____ - ____ = ____

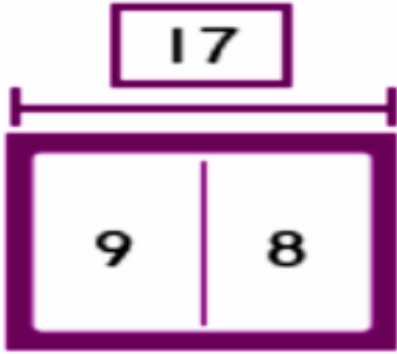
• هذه الأسئلة لا تغنى أبداً عن الدراسة من الكتاب.



مدرسة الأندلس الابتدائية الإعدادية الثانوية الخاصة للبنات

العام الأكاديمي 2020-2021

رويتنا: تنشئة جيل واعٍ بالعلم متفوقٍ به، راقٍ بالقيم والأخلاق، معتزٍ بوطنه، أصيلٍ بعقيدته، متواصلٍ عالمياً.



$$\begin{array}{r} _ + _ = _ \\ _ + _ = _ \\ _ - _ = _ \\ _ - _ = _ \end{array}$$

$$\begin{array}{r} 15 \\ - 8 \\ \hline \square \end{array}$$

$$\begin{array}{r} 11 \\ - 2 \\ \hline \square \end{array}$$

$$\begin{array}{r} 12 \\ - 4 \\ \hline \square \end{array}$$

$$\begin{array}{r} 16 \\ - 7 \\ \hline \square \end{array}$$

العد بالآحاد

| | | | | | | | | | |
|---|---|--|--|--|--|--|--|--|--|
| 1 | 2 | | | | | | | | |
| | | | | | | | | | |
| | | | | | | | | | |
| | | | | | | | | | |
| | | | | | | | | | |
| | | | | | | | | | |
| | | | | | | | | | |
| | | | | | | | | | |
| | | | | | | | | | |
| | | | | | | | | | |

• هذه الأسئلة لا تغنى أبداً عن الدراسة من الكتاب.

رسالتنا: تنمية الطالبات معرفياً ومهارياً ووجدانياً واجتماعياً ونفسياً على القيم الإسلامية وثوابت المجتمع.



مدرسة الأندلس الابتدائية الإعدادية الثانوية الخاصة للبنات

العام الأكاديمي 2020-2021

رويتنا: تنشئة جيل واعٍ بالعلم متفوقٍ به، راقٍ بالقيم والأخلاق، معتز بوطنه، أصيل بعقيدته، متواصل عالمياً.



| | | | | | | | | | |
|--|--|--|--|--|--|--|--|--|-----|
| | | | | | | | | | |
| | | | | | | | | | 100 |

العد بالآحاد

| | | | | | | | | | |
|---|---|--|--|--|--|--|--|--|--|
| 8 | 9 | | | | | | | | |
|---|---|--|--|--|--|--|--|--|--|

| | | | | | | | | | |
|--|--|--|--|----|----|--|--|--|--|
| | | | | 65 | 66 | | | | |
|--|--|--|--|----|----|--|--|--|--|

| | | | | | | | | | |
|--|--|--|--|--|--|----|----|--|--|
| | | | | | | 77 | 78 | | |
|--|--|--|--|--|--|----|----|--|--|

العد بالعشرات

| | | | | | | | | | |
|----|----|--|--|--|--|--|--|--|--|
| 13 | 23 | | | | | | | | |
|----|----|--|--|--|--|--|--|--|--|

| | | | | | | | | | |
|----|----|--|--|--|--|--|--|--|--|
| 35 | 45 | | | | | | | | |
|----|----|--|--|--|--|--|--|--|--|

| | | | | | | | | | |
|--|--|--|--|--|--|----|----|--|--|
| | | | | | | 86 | 96 | | |
|--|--|--|--|--|--|----|----|--|--|

| | | | | | | | | | |
|--|--|--|--|----|----|--|--|--|--|
| | | | | 55 | 65 | | | | |
|--|--|--|--|----|----|--|--|--|--|

| | | | | | | | | | |
|--|--|--|--|----|----|--|--|--|--|
| | | | | 70 | 80 | | | | |
|--|--|--|--|----|----|--|--|--|--|

• هذه الأسئلة لا تغني أبداً عن الدراسة من الكتاب.

رسالتنا: تنمية الطالبات معرفياً ومهارياً ووجدانياً واجتماعياً ونفسياً على القيم الإسلامية وثوابت المجتمع.



مدرسة الأندلس الابتدائية الإعدادية الثانوية الخاصة للبنات

العام الأكاديمي 2020-2021

رويتنا: تنشئة جيل واعٍ بالعلم متفوقٍ به، راقٍ بالقيم والأخلاق، معزٍ بوطنه، أصيل بعقيدته، متواصل عالمياً.



كتابة العدد في صورة أحاد و عشرات

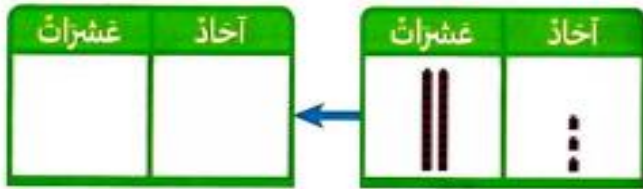
سنة عشر هو أحاد عشرات

تسعة عشر هو أحاد عشرات

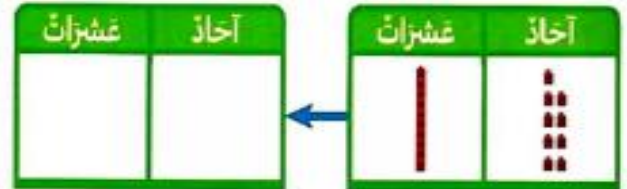
ثلاثة عشر هو أحاد عشرات

خمسة عشر هو أحاد عشرات

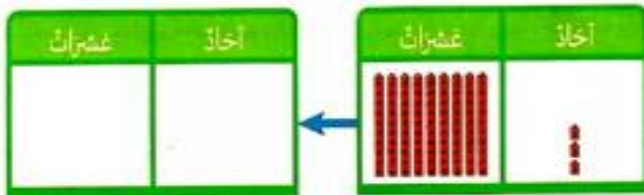
اكتب العدد بالصيغة القياسية ثم في صورة أحاد و عشرات :



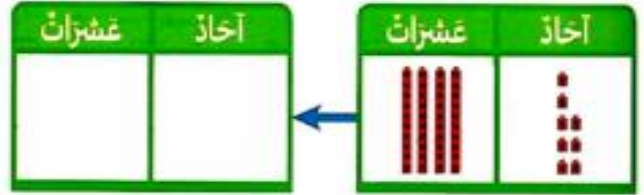
هو أحاد عشرات



هو أحاد عشرات



هو أحاد عشرات



هو أحاد عشرات

• هذه الأسئلة لا تغني أبداً عن الدراسة من الكتاب.

رسالتنا: تنمية الطالبات معرفياً ومهارياً ووجدانياً واجتماعياً ونفسياً على القيم الإسلامية وثوابت المجتمع.



مدرسة الأندلس الابتدائية الاعدادية الثانوية الخاصة للبنات


العام الأكاديمي 2020-2021

رويتنا: تنشئة جيل واعٍ بالعلم متفوقٍ به، راقٍ بالقيم والأخلاق، معتزٍ بوطنه، أصيلٍ بعقيدته، متواصلٍ عالمياً.

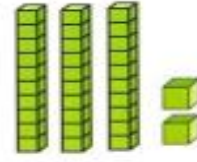


الجمع

عد اكتب العدد المناسب ثم أوجد ناتج الجمع :



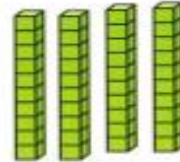
$$\square + \square = \square$$



$$\square + \square = \square$$



$$\square + \square = \square$$



$$\square + \square = \square$$

| | | | | | | | | | |
|----|----|----|----|----|----|----|----|----|-----|
| 1 | 2 | 3 | 4 | 5 | 6 | 7 | 8 | 9 | 10 |
| 11 | 12 | 13 | 14 | 15 | 16 | 17 | 18 | 19 | 20 |
| 21 | 22 | 23 | 24 | 25 | 26 | 27 | 28 | 29 | 30 |
| 31 | 32 | 33 | 34 | 35 | 36 | 37 | 38 | 39 | 40 |
| 41 | 42 | 43 | 44 | 45 | 46 | 47 | 48 | 49 | 50 |
| 51 | 52 | 53 | 54 | 55 | 56 | 57 | 58 | 59 | 60 |
| 61 | 62 | 63 | 64 | 65 | 66 | 67 | 68 | 69 | 70 |
| 71 | 72 | 73 | 74 | 75 | 76 | 77 | 78 | 79 | 80 |
| 81 | 82 | 83 | 84 | 85 | 86 | 87 | 88 | 89 | 90 |
| 91 | 92 | 93 | 94 | 95 | 96 | 97 | 98 | 99 | 100 |

$$23 + 30 = \square$$

$$36 + 7 = \square$$

$$42 + 40 = \square$$

$$81 + 8 = \square$$

$$60 + 18 = \square$$

$$62 + 6 = \square$$

• هذه الأسئلة لا تغني أبداً عن الدراسة من الكتاب.


اجمع

| عشرات | آحاد |
|----------------------|------|
| <input type="text"/> | |
| 2 | 7 |
| + | 5 |
| <hr/> | |
| | |


| عشرات | آحاد |
|----------------------|------|
| <input type="text"/> | |
| 1 | 9 |
| + | 3 |
| <hr/> | |
| | |

| عشرات | آحاد |
|----------------------|------|
| <input type="text"/> | |
| 5 | 6 |
| + | 3 |
| <hr/> | |
| | |

| عشرات | آحاد |
|----------------------|------|
| <input type="text"/> | |
| 5 | 7 |
| + | 1 |
| <hr/> | |
| | |



عشرون _____ - عشرون _____ = عشرون _____
 _____ - _____ = _____



عشرون _____ - عشرون _____ = عشرون _____
 _____ - _____ = _____

• هذه الأسئلة لا تغنى أبداً عن الدراسة من الكتاب.



مدرسة الأندلس الابتدائية الإعدادية الثانوية الخاصة للبنات

العام الأكاديمي 2020-2021

رويتنا: تنشئة جيل واعٍ بالعلم متفوقٍ به، راقٍ بالقيم والأخلاق، معتز بوطنه، أصيل بعقيدته، متواصل عالمياً.



| | | | | | | | | | |
|----|----|----|----|----|----|----|----|----|-----|
| 1 | 2 | 3 | 4 | 5 | 6 | 7 | 8 | 9 | 10 |
| 11 | 12 | 13 | 14 | 15 | 16 | 17 | 18 | 19 | 20 |
| 21 | 22 | 23 | 24 | 25 | 26 | 27 | 28 | 29 | 30 |
| 31 | 32 | 33 | 34 | 35 | 36 | 37 | 38 | 39 | 40 |
| 41 | 42 | 43 | 44 | 45 | 46 | 47 | 48 | 49 | 50 |
| 51 | 52 | 53 | 54 | 55 | 56 | 57 | 58 | 59 | 60 |
| 61 | 62 | 63 | 64 | 65 | 66 | 67 | 68 | 69 | 70 |
| 71 | 72 | 73 | 74 | 75 | 76 | 77 | 78 | 79 | 80 |
| 81 | 82 | 83 | 84 | 85 | 86 | 87 | 88 | 89 | 90 |
| 91 | 92 | 93 | 94 | 95 | 96 | 97 | 98 | 99 | 100 |

5. $50 - 10 = \underline{\hspace{2cm}}$

6. $80 - 60 = \underline{\hspace{2cm}}$

7. $30 - 20 = \underline{\hspace{2cm}}$

8. $90 - 30 = \underline{\hspace{2cm}}$

9. $70 - 20 = \underline{\hspace{2cm}}$

10. $20 - 10 = \underline{\hspace{2cm}}$

11. $60 - 30 = \underline{\hspace{2cm}}$

12. $90 - 50 = \underline{\hspace{2cm}}$

13. $90 - 40 = \underline{\hspace{2cm}}$

14. $80 - 10 = \underline{\hspace{2cm}}$

5. $53 - 10 = \underline{\hspace{2cm}}$

6. $20 - 10 = \underline{\hspace{2cm}}$

7. $32 - 10 = \underline{\hspace{2cm}}$

8. $80 - 10 = \underline{\hspace{2cm}}$

9. $17 - 10 = \underline{\hspace{2cm}}$

10. $60 - 10 = \underline{\hspace{2cm}}$

11. $47 - 10 = \underline{\hspace{2cm}}$

12. $85 - 10 = \underline{\hspace{2cm}}$

13. $11 - 10 = \underline{\hspace{2cm}}$

• هذه الأسئلة لا تغني أبداً عن الدراسة من الكتاب.

رسالتنا: تنمية الطالبات معرفياً ومهارياً ووجدانياً واجتماعياً ونفسياً على القيم الإسلامية وثوابت المجتمع.

3.

| عشرات | أحاد |
|-------|------|
| □ | □ |
| 3 | 3 |
| - | |
| □ | □ |

| عشرات | أحاد |
|-------|------|
| □ | □ |

4.

| عشرات | أحاد |
|-------|------|
| □ | □ |
| 9 | 1 |
| - | |
| □ | □ |


| عشرات | أحاد |
|-------|------|
| □ | □ |

5.

| عشرات | أحاد |
|-------|------|
| □ | □ |
| 6 | 1 |
| - | |
| □ | □ |

| عشرات | أحاد |
|-------|------|
| □ | □ |

استعمل مشبك الورق لقياس الطول



ارسم عقرب الساعات و عقرب الدقائق لتمثيل الوقت :



• هذه الأسئلة لا تغنى أبداً عن الدراسة من الكتاب.



مدرسة الأندلس الابتدائية الاعدادية الثانوية الخاصة للبنات

العام الأكاديمي 2020-2021

رويتنا: نشئة جيل واعٍ بالعلم متفوقٍ به، راقٍ بالقيم والأخلاق، معتز بوطنه، أصيل بعقيدته، متواصل عالمياً.















ارسم الشكل

5. شكّل لئس له زؤوس.








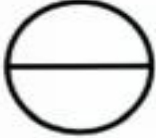



4. شكّل له 4 زؤوس.

3. شكّل له أكثر من 3 أضلاع.

اذكر اسم الشكل ثم حوط الشيء الذي له نفس الشكل

| | | | |
|--|---|---|---|
| 3.  |  |  |  |
| 4.  |  |  |  |
| 5.  |  |  |  |

لون

| | |
|---|---|
| 2 زئغ واذد بزئفالي | 1 بصف واذد أخمز |
|  |  |
|  |  |
|  | |
| 4 بصف واذد أزرق | 3 زئغ واذد أخصر |
|  |  |
|  |  |
|  |  |

• هذه الأسئلة لا تغنى أبداً عن الدراسة من الكتاب.

رسالتنا: تنمية الطالبات معرفياً ومهارياً ووجدانياً واجتماعياً ونفسياً على القيم الإسلامية وثوابت المجتمع.



مدرسة الأندلس الابتدائية الاعدادية الثانوية الخاصة للبنات







العام الأكاديمي 2020-2021

رويتنا: تنشئة جيل واع بالعلم متفوق به، راق بالقيم والأخلاق، معتز بوطنه، أصيل بعقيدته، متواصل عالمياً.



اختر الإجابة الصحيحة لكل من الأسئلة من 1 إلى 10 ، وذلك بوضع علامة X داخل المربع المجاور للإجابة الصحيحة:

تعليمات

| السؤال رقم (1) | الدرجة (1) | | | | | | |
|--|---|--------------|---|---|---------|------|-----------------------------|
| <p>خزانه سعيد</p> <table border="1"><tr><td>قمصان</td><td>بناطيل قصيرة</td></tr><tr><td></td><td></td></tr><tr><td>IIII II</td><td>IIII</td></tr></table> <p>في جدول الإشارات المقابل :- ما عدد قمصان سعيد ؟</p> | قمصان | بناطيل قصيرة |  |  | IIII II | IIII | <p>A 4 B 7 C 11</p> |
| قمصان | بناطيل قصيرة | | | | | | |
|  |  | | | | | | |
| IIII II | IIII | | | | | | |

| السؤال رقم (2) | الدرجة (1) | | | | | | |
|---|---|---------|---|---|---------|------|-----------------------------|
| <table border="1"><tr><td>الزرقاء</td><td>الحمراء</td></tr><tr><td></td><td></td></tr><tr><td>IIII II</td><td>IIII</td></tr></table> <p>في جدول الإشارات المقابل :- بكم يزيد عدد البالونات الزرقاء عن الحمراء ؟</p> | الزرقاء | الحمراء |  |  | IIII II | IIII | <p>A 2 B 5 C 12</p> |
| الزرقاء | الحمراء | | | | | | |
|  |  | | | | | | |
| IIII II | IIII | | | | | | |

• هذه الأسئلة لا تغني أبداً عن الدراسة من الكتاب.

رسالتنا: تنمية الطالبات معرفياً ومهارياً ووجدانياً واجتماعياً ونفسياً على القيم الإسلامية وثوابت المجتمع.





مدرسة الأندلس الابتدائية الإعدادية الثانوية الخاصة للبنات

العام الأكاديمي 2020-2021

رويتنا: نشئة جيل واع بالعلم متفوق به، راق بالقيم والأخلاق، معتز بوطنه، أصيل بعقيدته، متواصل عالمياً.



| السؤال رقم (3) | الدرجة (1) |
|---|-------------------------------------|
| <p>ما العدد الذي تمثله المكعبات ؟</p>  | <p>A 30</p> <p>B 40</p> <p>C 50</p> |

| السؤال رقم (4) | الدرجة (1) |
|--|---|
| <p>ما الجملة العددية التي يمثلها الشكل المقابل ؟</p>  | <p>A $4 + 3 = 7$</p> <p>B $40 + 30 = 70$</p> <p>C $40 + 40 = 80$</p> |

• هذه الأسئلة لا تغني أبداً عن الدراسة من الكتاب.

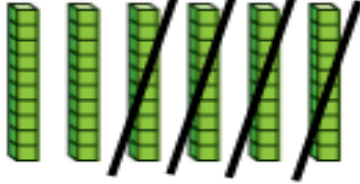





مدرسة الأندلس الابتدائية الإعدادية الثانوية الخاصة للبنات


العام الأكاديمي 2020-2021

رويتنا: تنشئة جيل واعٍ بالعلم متفوقٍ به، راقٍ بالقيم والأخلاق، معتزٍ بوطنه، أصيل بعقيدته، متواصل عالمياً.



| السؤال رقم (5) | الدرجة (1) |
|--|--|
| <p>أي جملة عددية تطابق الشكل المقابل ؟</p>  | <p>A $40 + 20 = 60$</p> <p>B $60 - 40 = 20$</p> <p>C $60 - 10 = 50$</p> |

| السؤال رقم (6) | الدرجة (1) |
|--|--------------|
| <p>أي هذه الأشياء هي الأطول ؟</p> <p>A </p> <p>B </p> <p>C </p> | |

| السؤال رقم (7) | الدرجة (1) |
|--|-----------------------------------|
| <p>كم الساعة المبيّنة في الشكل المقابل ؟</p>  | <p>A 0</p> <p>B 8</p> <p>C 12</p> |

• هذه الأسئلة لا تغنى أبداً عن الدراسة من الكتاب.




مدرسة الأندلس الابتدائية الإعدادية الثانوية الخاصة للبنات



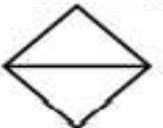
العام الأكاديمي 2020-2021

رويتنا: تنشئة جيل واع بالعلم متفوق به، راق بالقيم والأخلاق، معتز بوطنه، أصيل بعقيدته، متواصل عالمياً.



| السؤال رقم (8) | الدرجة (1) |
|--|-----------------------------------|
| ما عدد الأحرف في الكرة المقابلة ؟  | <p>A 0</p> <p>B 6</p> <p>C 12</p> |

| السؤال رقم (9) | الدرجة (1) |
|--|---|
| أي العبارات الآتية تنطبق على أشباه المكعبات .  | <p>A جميع أشباه المكعبات لها 8 حرفاً</p> <p>B جميع أشباه المكعبات لها 12 حرفاً</p> <p>C جميع أشباه المكعبات لها 8 حرفاً</p> |

| السؤال رقم (10) | الدرجة (1) |
|---|--------------|
| ما الشكل المقسم إلى أجزاء متساوية ؟ <p>A </p> <p>B </p> <p>C </p> | |

• هذه الأسئلة لا تغنى أبداً عن الدراسة من الكتاب.



مدرسة الأندلس الابتدائية الإعدادية الثانوية الخاصة للبنات

العام الأكاديمي 2020-2021

رويتنا: نشئة جيل واعٍ بالعلم متفوقٍ به، راقٍ بالقيم والأخلاق، معتز بوطنه، أصيل بعقيدته، متواصل عالمياً.



تعليمات
عند الإجابة على الأسئلة من 1 إلى 9 ، اكتب إجاباتك في المساحات المخصصة لذلك مع توضيح خطوات الحل:

| السؤال رقم (1) | الدرجة (2) | | |
|---|--------------|-------|--|
| <p>A – استعمل خط الأعداد لإيجاد ناتج الطرح .</p> $15 - 8 = \dots\dots$ <p>B – اكتب حقيقة واحدة من عائلة الحقائق باستعمال النموذج التالي .</p> <table border="1"><tr><td>14</td></tr><tr><td>9 5</td></tr></table> $\underline{\quad} - \underline{\quad} = \underline{\quad}$ | 14 | 9 5 | |
| 14 | | | |
| 9 5 | | | |

| السؤال رقم (2) | الدرجة (2) | | | | | | | | | | | | | | | | | | | | | | | | | | | | | | | | | | | |
|---|--------------|-------|-------|----|----|----|----|----|-----|----|----|----|----|----|----|----|----|----|----|----|----|----|----|----|----|----|----|----|----|----|----|----|----|----|-----|--|
| <p>A – عد باستعمال النمط و أكمل العدد الناقص .</p> <table border="1"><tr><td>24</td><td>25</td><td>.....</td><td>27</td><td>28</td></tr></table> <p>B – اكتب الأعداد الناقصة في اللوحة .</p> <table border="1"><tr><td>71</td><td>72</td><td>73</td><td>74</td><td>75</td><td>76</td><td>77</td><td>78</td><td>79</td><td>80</td></tr><tr><td>81</td><td>82</td><td>83</td><td>84</td><td>85</td><td>86</td><td>87</td><td>88</td><td>89</td><td>90</td></tr><tr><td>91</td><td>92</td><td>93</td><td>94</td><td>95</td><td>96</td><td>97</td><td>98</td><td>99</td><td>100</td></tr></table> | 24 | 25 | | 27 | 28 | 71 | 72 | 73 | 74 | 75 | 76 | 77 | 78 | 79 | 80 | 81 | 82 | 83 | 84 | 85 | 86 | 87 | 88 | 89 | 90 | 91 | 92 | 93 | 94 | 95 | 96 | 97 | 98 | 99 | 100 | |
| 24 | 25 | | 27 | 28 | | | | | | | | | | | | | | | | | | | | | | | | | | | | | | | | |
| 71 | 72 | 73 | 74 | 75 | 76 | 77 | 78 | 79 | 80 | | | | | | | | | | | | | | | | | | | | | | | | | | | |
| 81 | 82 | 83 | 84 | 85 | 86 | 87 | 88 | 89 | 90 | | | | | | | | | | | | | | | | | | | | | | | | | | | |
| 91 | 92 | 93 | 94 | 95 | 96 | 97 | 98 | 99 | 100 | | | | | | | | | | | | | | | | | | | | | | | | | | | |

• هذه الأسئلة لا تغنى أبداً عن الدراسة من الكتاب.

رسالتنا: تنمية الطالبات معرفياً ومهارياً ووجدانياً واجتماعياً ونفسياً على القيم الإسلامية وثوابت المجتمع.



مدرسة الأندلس الابتدائية الإعدادية الثانوية الخاصة للبنات

العام الأكاديمي 2020-2021

رويتنا: تنشئة جيل واع بالعلم متفوق به، راق بالقيم والأخلاق، معزز بوطنه، أصيل بعقيدته، متواصل عالمياً.



| السؤال رقم (3) | الدرجة (2) |
|---|--------------|
| A - اكمل الجملة الرياضية التالية : هو أحاد و عشرات | 14 |
| B - اكمل الجملة الرياضية التالية : هو 0 أحاد و 5 عشرات | |

| السؤال رقم (4) | الدرجة (3) |
|---------------------------------|--------------|
| استعمل لوحة المئة لأجمع | |
| A - $61 + 15 = \dots\dots\dots$ | |
| C - أجمع . | |

| | | | | | | | | | |
|----|----|----|----|----|----|----|----|----|-----|
| 1 | 2 | 3 | 4 | 5 | 6 | 7 | 8 | 9 | 10 |
| 11 | 12 | 13 | 14 | 15 | 16 | 17 | 18 | 19 | 20 |
| 21 | 22 | 23 | 24 | 25 | 26 | 27 | 28 | 29 | 30 |
| 31 | 32 | 33 | 34 | 35 | 36 | 37 | 38 | 39 | 40 |
| 41 | 42 | 43 | 44 | 45 | 46 | 47 | 48 | 49 | 50 |
| 51 | 52 | 53 | 54 | 55 | 56 | 57 | 58 | 59 | 60 |
| 61 | 62 | 63 | 64 | 65 | 66 | 67 | 68 | 69 | 70 |
| 71 | 72 | 73 | 74 | 75 | 76 | 77 | 78 | 79 | 80 |
| 81 | 82 | 83 | 84 | 85 | 86 | 87 | 88 | 89 | 90 |
| 91 | 92 | 93 | 94 | 95 | 96 | 97 | 98 | 99 | 100 |

| عشرات | أحاد |
|-------|------|
| 1 | 5 |
| 3 | 7 |
| + | |
| | |

• هذه الأسئلة لا تغنى أبداً عن الدراسة من الكتاب.



مدرسة الأندلس الابتدائية الاعدادية الثانوية الخاصة للبنات

العام الأكاديمي 2020-2021

رويتنا: تنشئة جيل واع بالعلم متفوق به، راق بالقيم والأخلاق، معتز بوطنه، أصيل بعقيدته، متواصل عالمياً.



| الدرجة (2) | | | | | | | | | | السؤال رقم (5) |
|--------------|----|----|----|----|----|----|----|----|----|---|
| 41 | 42 | 43 | 44 | 45 | 46 | 47 | 48 | 49 | 50 | استعمل الجزء من لوحة المئة المقابل للحل . A - $80 - 20 = \dots\dots\dots$ B - لدى جاسم 30 قلم تلوين , أعطى أخته 10 أقلام منها . ما عدد أقلام التلوين التي بقيت لدى جاسم ؟ $\dots\dots\dots - \dots\dots\dots = \dots\dots\dots$ |
| 51 | 52 | 53 | 54 | 55 | 56 | 57 | 58 | 59 | 60 | |
| 61 | 62 | 63 | 64 | 65 | 66 | 67 | 68 | 69 | 70 | |
| 71 | 72 | 73 | 74 | 75 | 76 | 77 | 78 | 79 | 80 | |

| الدرجة (2) | | | | | | | | | | السؤال رقم (6) |
|--------------|--|--|--|--|--|--|--|--|--|--|
| | | | | | | | | | | A - أحوظ القلم الأطول . استعمل الخيط الأسود للمساعدة . |
| | | | | | | | | | | |
| | | | | | | | | | | |
| | | | | | | | | | | B - استعمل مشبك الورق لقياس الطول . |
| | | | | | | | | | | |
| | | | | | | | | | | |

• هذه الأسئلة لا تغنى أبداً عن الدراسة من الكتاب.






مدرسة الأندلس الابتدائية الاعدادية الثانوية الخاصة للبنات

العام الأكاديمي 2020-2021

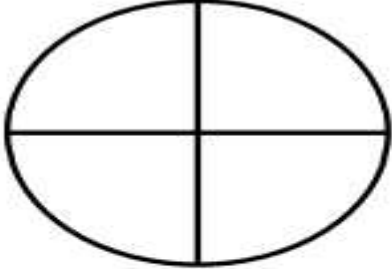
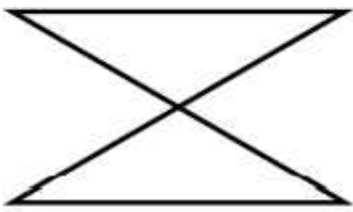
رويتنا: تنشئة جيل واع بالعلم متفوق به، راق بالقيم والأخلاق، معتز بوطنه، أصيل بعقيدته، متواصل عالمياً.




| السؤال رقم (7) | الدرجة (2) |
|--|--------------|
| <p>A – أرسم العقارب على الساعة . ثم أكتب الوقت على الساعة الأخرى .</p>  <p>الساعة 5</p> <p>B – أكتب الوقت المبين في الساعة التالية .</p>  <p>الساعة :</p> | |

| السؤال رقم (8) | الدرجة (3) |
|--|---|
| <p>A – ما اسم الشكل ؟</p> <p>B – كم عدد أضلاع الشكل ؟</p> <p>C – كم عدد رؤوس الشكل ؟</p> |  |

• هذه الأسئلة لا تغنى أبداً عن الدراسة من الكتاب.

| السؤال رقم (9) | الدرجة (2) |
|---|--------------|
| <p>A – لون بالقلم الرصاص الربع في الشكل التالي .</p>  | |
| <p>B – لون بالقلم الرصاص نصف واحد من الشكل التالي .</p>  | |


2. ما الشكل الذي له 3 أضلاع؟



1. ما الشكل الذي يمثّل مُرَبَّعاً؟



أي شكل مُقسَّم إلى أرباع؟



• هذه الأسئلة لا تغني أبداً عن الدراسة من الكتاب.