

تم تحميل هذا الملف من موقع المناهج القطرية



أوراق عمل الوحدة الأولى غير مجانية

موقع المناهج ← المناهج القطرية ← المستوى الأول ← علوم ← الفصل الأول ← أوراق عمل ← الملف

تاريخ إضافة الملف على موقع المناهج: 2024-10-20 13:25:24

ملفات اكتب للمعلم اكتب للطالب | اختبارات الكترونية | اختبارات | حلول | عروض بوربوينت | أوراق عمل
منهج انجليزي | ملخصات وتقارير | مذكرات وبنوك | الامتحان النهائي للمدرس

المزيد من مادة
علوم:

التواصل الاجتماعي بحسب المستوى الأول



صفحة المناهج
القطرية على
فيسبوك

الرياضيات

اللغة الانجليزية

اللغة العربية

التربية الاسلامية

المواد على تلغرام

المزيد من الملفات بحسب المستوى الأول والمادة علوم في الفصل الأول

أوراق العمل الاثرية تحضيراً لاختبار منتصف الفصل مع الإجابة النموذجية	1
أوراق العمل الاثرية تحضيراً لاختبار منتصف الفصل غير مجانية	2
إجابة أوراق عمل دعم وإثراء الفرقان منتصف الفصل	3
أوراق عمل دعم وإثراء الفرقان منتصف الفصل غير مجانية	4
أوراق عمل الأندلس الاثرية منتصف الفصل غير مجانية	5

أوراق إثرائية على الوحدة الأولى

(الجزء الثاني)

الفصل الأول للعام الدراسي

1446 هـ (2024 – 2025)

علوم الصف الأول

تعليمات: عند الإجابة على الأسئلة من 1 إلى 5، ضع علامة X على الجواب الصحيح.

السؤال (1)	
ما الكائن الحي الذي تتضمن دورة حياته مرحلة الرضيع؟	
الإنسان	A
الفراشة	B
النبات	C

السؤال (2)	
أختَر الدورة التي تمثل دورة حياة الطيور؟	
بيضة، سمكة صغيرة، سمكة كبيرة.	A
بيضة، فرخ، طائر صغير، طائر بالغ.	B
قط حديث الولادة، قط صغير، قط بالغ.	C

السؤال (3)	
أختَر المرحلة المختلفة بين دورة حياة الضب ودورة حياة القطة؟	
البيضة	A
البالغ	B
الصغير	C

السؤال (4)	
ما المرحلة المتشابهة بين دورة حياة الفراشة ودورة حياة القطة؟	
البيضة	A
الشرنقة	B
البالغ	C

السؤال (5)	
أي مما يلي من مراحل دورة حياة الفراشة؟	
الفرخ	A
الطائر البالغ	B
اليرقة	C

السؤال (6)	
	<p>اكتب المرحلة الناقصة في دورة حياة الضب</p> <p>.....</p>

العمود (ب)

A



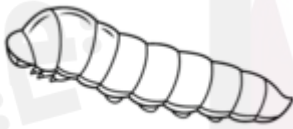
B



C



D



E



العمود (أ)

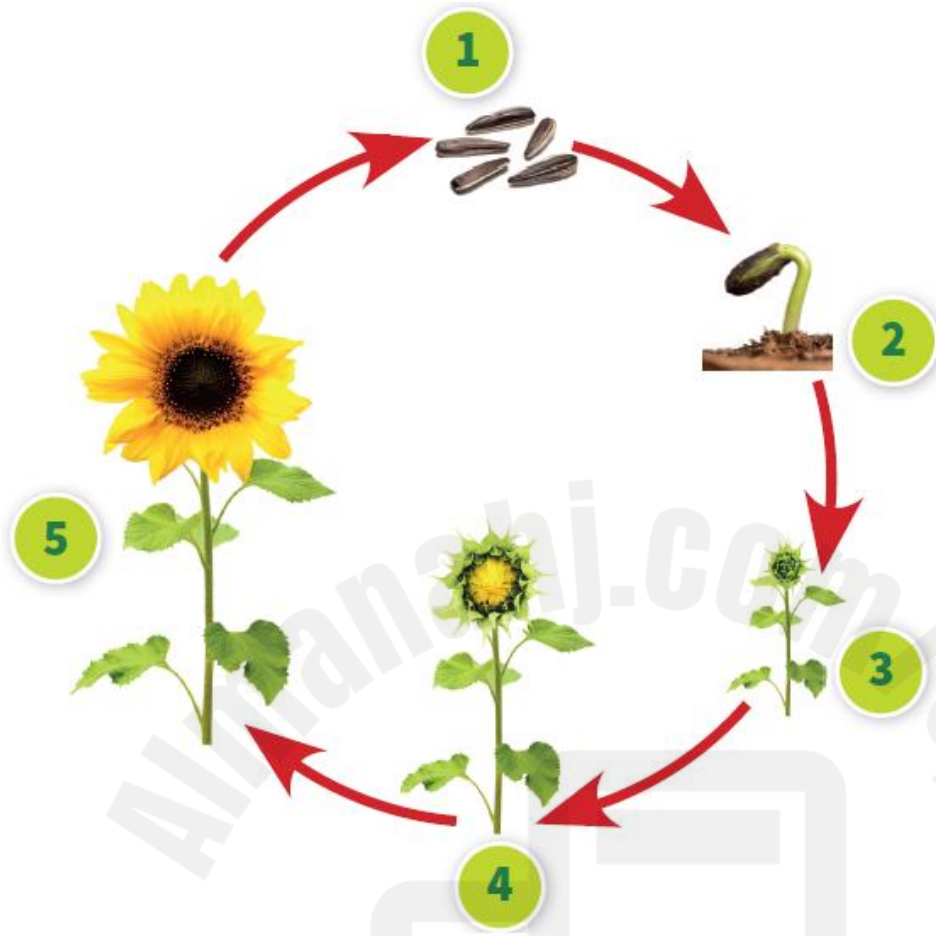
1 - البادرة

2- تمثل دورة حياة الانسان.

3 - اليرقة

4- البيض

انظر إلى الصورة التالية ، ثم أجب عن الأسئلة التالية .



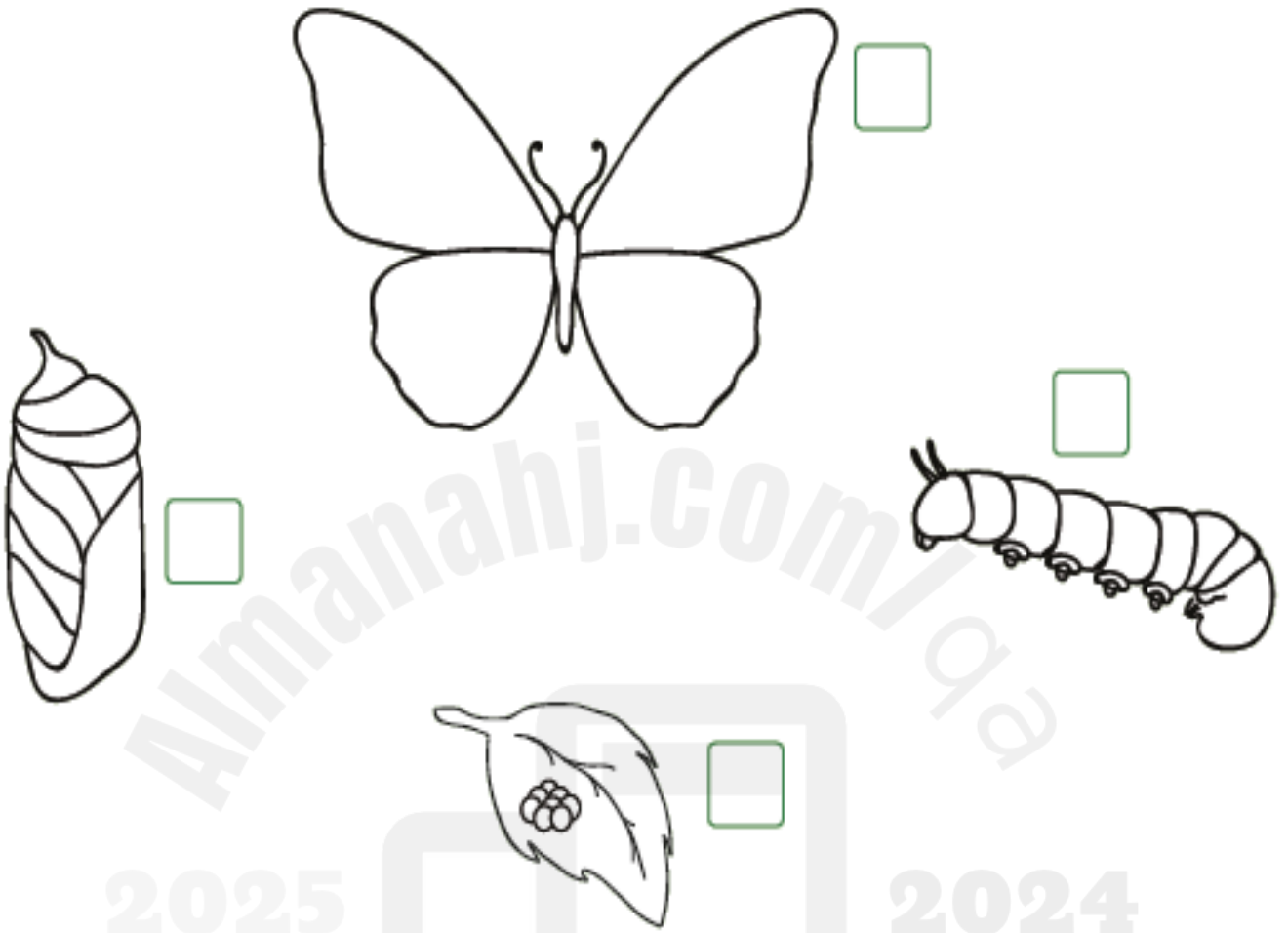
1- ماذا يسمى النبات في رقم 3 ؟

2- من أين تأتي البذور ؟

3- ضع دائرة حول المفردة الصحيحة .

تتكون البذور في النبات (الصغير / البالغ)

تُظهِرُ الصُّورَةُ مَرَاجِلَ دَوْرَةِ حَيَاةِ حَيَّوَانٍ.



أرِّقِّمُ الصُّوَرَ بِالتَّرْتِيبِ المُنَاسِبِ.

أَلْوَنُ القَرَاشَةِ.

أ

ب

انتهت الأسئلة

نتمنى لكم التوفيق