

تم تحميل هذا الملف من موقع المناهج القطرية



أوراق عمل الأندلس الاثرية منتصف الفصل مجابة

موقع المناهج ← المناهج القطرية ← المستوى الأول ← رياضيات ← الفصل الأول ← ملفات متنوعة ← الملف

تاريخ إضافة الملف على موقع المناهج: 2024-10-05 18:38:47

ملفات اكتب للمعلم اكتب للطالب الاختبارات الكترونية | اختبارات | حلول | عروض بوربوينت | أوراق عمل
منهج انجليزي | ملخصات وتقارير | مذكرات وبنوك | الامتحان النهائي للمدرس

المزيد من مادة
رياضيات:

إعداد: مدرسة الأندلس

التواصل الاجتماعي بحسب المستوى الأول



صفحة المناهج
القطرية على
فيسبوك

الرياضيات

اللغة الانجليزية

اللغة العربية

التربية الاسلامية

المواد على تلغرام

المزيد من الملفات بحسب المستوى الأول والمادة رياضيات في الفصل الأول

أوراق عمل نهاية الفصل مدرسة الأندلس

1

تطبيقات امتحانية في نهاية الفصل

2

الإجابة النموذجية لتدريبات الكتاب

3

تدريبات دعم وإثراء الفرقان نهاية الفصل


4

اختبار مجاب نهاية الفصل مدرسة الأندلس

5

مدرسة الأندلس الخاصة للبنات

العام الأكاديمي 2025/2024



أوراق عمل إثرائية الوحدة (الأولى – الثانية)

نموذج إجابة

مادة الرياضيات

الصف الأول الابتدائي

اسم الطالبة/.....

الصف والشعبة /.....



30

تعليمات: اختر الإجابة الصحيحة لكل من الأسئلة من 1 إلى 6، وذلك بوضع علامة × داخل المربع المجاور للإجابة الصحيحة:

السؤال (1)	2 /
أي مما يلي يمثل العدد 0 من التفاح؟	
A	
B	
C	

السؤال (2)	2 /
أي مما يلي يمثل العدد الكلي للضفادع؟	
A	4
B	5
C	6

2 /

السؤال (3)



أي مما يلي يمثل العدد الكلي للفرشات؟

A

7

B

10

C

8

2 /

السؤال (4)



أي جملة جمع تمثل الصورة التالية؟

A

$5 + 1 = 6$

B

$5 + 2 = 7$

C

$5 + 3 = 8$

2 /

السؤال (5)



أي جملة طرح تمثل الصورة التالية ؟

A

$$8 - 2 = 6$$

B


$$8 - 5 = 3$$

C

$$8 - 3 = 5$$

2 /

السؤال (6)



أخذت 4 من الجمال، كم يتبقى؟

A

3

B

2

C


1

تعليمات: عند الإجابة على الأسئلة من 7 إلى 12، اكتب إجاباتك في المساحات المخصصة لذلك.

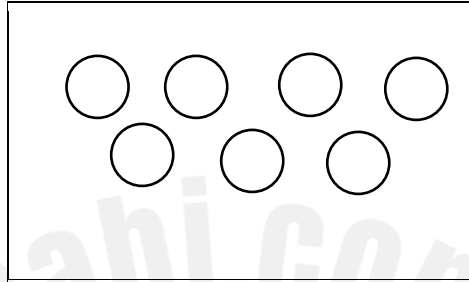
3 /

السؤال (7)


عدّ الأشياء في كل مجموعة، ثم اكتب العدد الكلي .



8



7



2

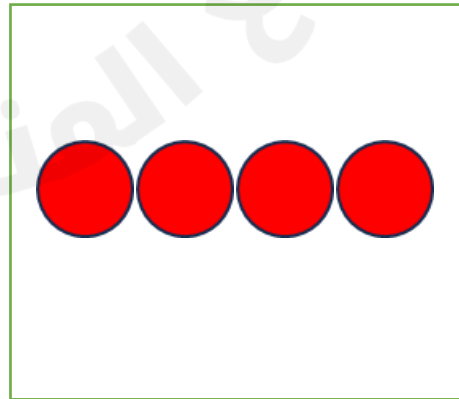
3 /

السؤال (8)

ب- عد الأسماك ثم لون المربعات التي تمثل العدد الكلي للأسماك:



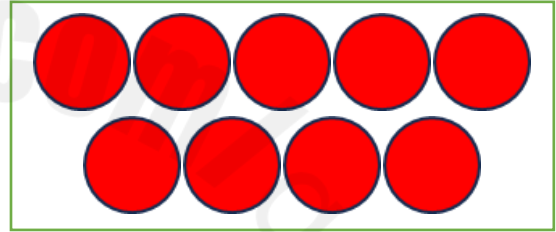
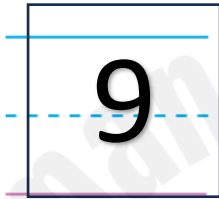
أ- لدى أحمد أربع كرات أرسم العدد الذي يمثل العدد الكلي للكرات.





3 /

السؤال: (9)

أ- ارسم تسعة دوائر ثم أكتب العدد الكلي للدوائر.



ب- لون 3 مربعات اضافية ثم أكتب العدد الكلي للمربعات المظللة.



3 /

السؤال (10)

أ- ما العدد الكلي للسيارات ؟



7 يصبح 3 و 4

ب- حل المسألة التالية .

قطع خالد 4 ثم قطع 2 أخرى

كم قطع خالد؟

$$4 + 2 = 6$$

2 /

السؤال (11)

أنظر إلى الصور التالية ، وأكتب العدد الباقي.

أ- على شجرة 7 تفاحات .سقطت منها 5 تفاحات . كم تفاحة بقيت على الشجرة ؟




2 /

السؤال (12)

لدى محمد 7 أقلام. أعطى خالد 2 منها .

كم قلمًا بقي لدى محمد؟



$$\underline{7} - \underline{2} = \underline{5}$$

2025

2024