

تم تحميل هذا الملف من موقع المناهج القطرية



تدريبات دعم واثراء نهاية الفصل مدرسة الأندلس مع الإجابة النموذجية
في الوحدات الثانية عشر والثالثة عشر والرابعة عشر

[موقع المناهج](#) ← [المناهج القطرية](#) ← [المستوى الأول](#) ← [رياضيات](#) ← [الفصل الثاني](#) ← [الملف](#)

تاريخ إضافة الملف على موقع المناهج: 2024-05-30 11:41:53

إعداد: مدرسة الأندلس

التواصل الاجتماعي بحسب المستوى الأول



[اضغط هنا للحصول على جميع روابط "المستوى الأول"](#)

روابط مواد المستوى الأول على تلغرام

[الرياضيات](#)

[اللغة الانجليزية](#)

[اللغة العربية](#)

[التربية الاسلامية](#)

المزيد من الملفات بحسب المستوى الأول والمادة رياضيات في الفصل الثاني

[تدريبات دعم واثراء نهاية الفصل مدرسة الأندلس غير محابة من
الوحدة الحادية عشر وحتى الوحدة الرابعة عشر](#)

1

[تدريبات دعم واثراء نهاية الفصل مدرسة الأندلس من الوحدة
الحادية عشر وحتى الوحدة الرابعة عشر مع الإجابة النموذجية](#)

2

المزيد من الملفات بحسب المستوى الأول والمادة رياضيات في الفصل الثاني

تدريبات دعم واثراء نهاية الفصل مدرسة الأندلس مع الإجابة النموذجية	3
تدريبات دعم واثراء نهاية الفصل مدرسة الأندلس غير مجابة	4
مراجعة شاملة لاختبار نهاية الفصل مدرسة الأندلس غير مجابة	5

مدرسة الأندلس الخاصة للبنات

العام الأكاديمي 2024/2023

الفصل الدراسي الثاني



أوراق عمل إثرائية الوحدة (12-13-14)

مادة الرياضيات

الصف الأول الابتدائي

اسم الطالبة/.....

الصف والشعبة /.....

1	أي العبارات تعبر عن الشمعة الحمراء؟	1
		
	الأطول	A ✓
	الأقصر	B
	الأوسط	C




1	أي العبارات تعبر عن طول القلم الأحمر؟	2
		
	1	A
	2	B ✓
	3	C

1	أي الساعة التي تشير الى تمام الساعة 4؟	3
		A
		B ✓
		C

4

أي الأشكال التالية ليس له أحرف ؟

1

	A	✓
	B	
	C	


5


يمثل الشكل التالي ؟

1



مثلث	A	✓
مربع	B	
مستطيل	C	

1		أي خاصية من الخصائص التالية تمثل شكل المخروط	6
		له 6 أوجه	<input type="checkbox"/> A
		له رأس واحد	<input checked="" type="checkbox"/> B
		له سطحان مستويان	<input type="checkbox"/> C

1		أي خاصية من الخصائص التالية تمثل شكل الأسطوانة	7
		له سطحان مستويان	<input checked="" type="checkbox"/> A
		له رأس واحد	<input type="checkbox"/> B
		له 6 أوجه	<input type="checkbox"/> C

1



أي خاصية من الخصائص التالية تمثل شكل شبة المكعب ؟

8

ليس له أحرف

A

له رأس واحد

B

له 6 أوجه

C


✓

السؤال الثاني: أكمل ما يلي:

أكمل الفراغات التالية بما يناسبها من المربع أدناه:

قارني بين أطوال بكتابة الكلمة المناسبة في الفراغ

الأوسط - الأقصر - الأطول




القلم الأزرق هو **الأقصر**

أَحَوِّطُ الشَّيْءَ الْأَطْوَلَ.
أَسْتَعْمِلُ الشَّيْءَ الْأَخْمَرَ لِلْمُسَاعَدَةِ.



السؤال الثالث:

يُمْكِنُنِي قِيَاسُ طُولِ الشَّيْءِ بِالْمَكْعَبَاتِ.



4

كم طول قلم التلوين ؟

السؤال الخامس: أجب عما يلي:

اكتب الساعة الرقمية التي توضح نفس الوقت في الساعة ذات العقارب .



انتهت الاسئلة