

تم تحميل هذا الملف من موقع المناهج القطرية



*للحصول على أوراق عمل لجميع الصفوف وجميع المواد اضغط هنا

<https://almanahj.com/qa>

* للحصول على أوراق عمل لجميع مواد المستوى الأول اضغط هنا

<https://almanahj.com/qa/1>

* للحصول على جميع أوراق المستوى الأول في مادة علوم ولجميع الفصول, اضغط هنا

<https://almanahj.com/qa/1science>

* للحصول على أوراق عمل لجميع مواد المستوى الأول في مادة علوم الخاصة بـ الفصل الثاني اضغط هنا

<https://almanahj.com/qa/1science2>

* لتحميل كتب جميع المواد في جميع الفصول لد المستوى الأول اضغط هنا

<https://almanahj.com/qa/grade1>

للتحدث إلى بوت المناهج القطرية على تلغرام: اضغط هنا


https://t.me/qacourse_bot

بنك الأسئلة – الوحدة الخامسة : استخدام المواد

اختر الإجابة الصحيحة بوضع علامة (X) داخل المربع:-

| | | |
|---|----------------------------|----------|
| أي الصور التالية توضح شيء طري؟ | | 1 |
|  | <input type="checkbox"/> A | |
|  | <input type="checkbox"/> B | |
|  | <input type="checkbox"/> C | |

| | | |
|---|----------------------------|----------|
| ما هو ملمس الحجارة؟ | | 2 |
|  | | |
| طري | <input type="checkbox"/> A | |
| خشن | <input type="checkbox"/> B | |
| ناعم | <input type="checkbox"/> C | |

| | | |
|---|----------------------------|----------|
| أي مما يأتي يصف ملمس الريش؟ | | 3 |
|  | | |
| ناعم | <input type="checkbox"/> A | |
| خشن | <input type="checkbox"/> B | |
| قاسي | <input type="checkbox"/> C | |

| | | | |
|---|--------------------------------|---|---|
|  | أي مما يأتي يصف خصائص المسمار؟ | | 4 |
| | طري | A | |
| | باهت | B | |
| | قاسي | C | |



| | | | |
|---------------------------------|---|--|---|
| أي المواد التالية قاسية ولامعة؟ | | | 5 |
| المعدن | A | | |
| الورق | B | | |
| القماش | C | | |

| | | | |
|---|---|--|---|
| أي المواد التالية لا يمر الضوء من خلالها؟ | | | 6 |
| الشفافة | A | | |
| شبه الشفافة | B | | |
| المعتمة | C | | |

| | | | |
|--|---|--|---|
| أي مادة يمكن أن تصنع منها عدسات النظارات الطبية؟ | | | 7 |
| المعدن | A | | |
| الورق | B | | |
| الزجاج | C | | |

| | | |
|-------------------------------------|---|---|
| أي الأشياء التالية مصنوع من المعدن؟ | | 8 |
| القلم | A | |
| المسمار | B | |
| الكتاب | C | |

| | | |
|---|---|---|
| أي الأشياء التالية يستخدم القماش في صناعته؟ | | 9 |
| الكتب | A | |
| الملابس | B | |
| الطاولة | C | |


| | | |
|---|---|----|
| أي من الأشياء التالية شفافة؟ | | 10 |
|  | A | |
|  | B | |
|  | C | |

| | | |
|--|---|----|
| ما المادة الأكثر تفضيلاً لصنع لعب الأطفال؟ | | 11 |
| الزجاج | A | |
| البلاستيك | B | |
| المعدن | C | |

| | | |
|--|---|--|
| 12 ما الشيء المصنوع من أكثر من مادة ؟ | | |
|  | A | |
|  | B | |
|  | C | |

| | | |
|--|---|--|
| 13 بأي حاسة أستطيع أن أميز بين المواد الخشنة والمواد الناعمة ؟ | | |
| اللمس | A | |
| التذوق | B | |
| الشم | C | |

| | | |
|--|---|--|
| 14 ما هي المادة التي نستخدمها لنصنع أشياء نحتاج أن نرى من خلالها بوضوح ؟ | | |
| المادة المعتمة | A | |
| المادة الشفافة | B | |
| المادة شبه الشفافة | C | |

| | | |
|---|---|--|
| 15 ما المادة التي صنع منها الباب في الصورة الموضحة ؟ | | |
|  | | |
| الزجاج | A | |
| الخشب | B | |
| المعدن | C | |

ضع علامة (✓) أمام العبارة الصحيحة وعلامة (x) أمام العبارة الخطأ:

| | | |
|-----|--|----|
| () | تصنع جميع الأشياء من مواد شفافة. | 1 |
| () | يمكن أن نميز بين المواد الناعمة والخشنة بواسطة حاسة اللمس. | 2 |
| () | الزجاج مناسب لصنع لعب الأطفال . | 3 |
| () | الورق مادة قاسية وليست طرية. | 4 |
| () | لا نستطيع أن نحدد المواد المختلفة التي صنعت منها الأشياء. | 5 |
| () | نستخدم المواد المعتمدة لنصنع أشياء لا نحتاج أن نرى من خلالها . | 6 |
| () | يستخدم الحديد في بناء المنازل لأنه قاس . | 7 |
| () | تصنع النافذة من الزجاج لأنه شفاف. | 8 |
| () | الأشياء اللامعة يمكن أن تعكس الضوء . | 9 |
| () | يمكن تحديد المادة التي صنع منها الشيء باستخدام حاسة التذوق. | 10 |
| () | لا يستطيع الشخص الذي يرتدي نظارة طبية أن يرى من خلالها . | 11 |

أصل بخط بين الصور والمفردات التي تناسبها:



(1) شيء لامع



(2) شيء خشن



(3) شيء يغوص



(4) شيء باهت



(5) شيء شفاف

تم تحميل هذا الملف من
موقع المناهج القطرية

alManahj.com/qa

الأسئلة المقالية

1- ما الخاصية التي تجعل الزجاج مناسب لصنع النظارات الطبية؟



.....

2- ما هي الخاصية التي تجعل الحديد مناسب لصنع سياج المنزل؟

موقع المناهج القطرية

.....

3- اكتب اسم شيء ملمسه قاسي .

.....

4- اذكر أسماء المواد المصنوع منها هذا الكرسي في الصورة؟



.....

5- اذكر اسم المادة المستخدمة في صناعة الأشياء التالية :



.....

.....

.....

.....

ترتحميل هذا الملف من
موقع المناهج القطرية

alManahj.com/qa