

## تم تحميل هذا الملف من موقع المناهج القطرية



## مجموعة أوراق عمل غير مجابة

موقع المناهج ← المناهج القطرية ← المستوى الأول ← علوم ← الفصل الأول ← أوراق عمل ← الملف

تاريخ إضافة الملف على موقع المناهج: 2024-12-15 21:00:54

ملفات اكتب للمعلم اكتب للطالب الاختبارات الكترونية | اختبارات | حلول | عروض بوربوينت | أوراق عمل  
منهج انجليزي | ملخصات وتقارير | مذكرات وبنوك | الامتحان النهائي للمدرس

المزيد من مادة  
علوم:

## التواصل الاجتماعي بحسب المستوى الأول



صفحة المناهج  
القطرية على  
فيسبوك

الرياضيات

اللغة الانجليزية

اللغة العربية

التربية الاسلامية

المواد على تلغرام

## المزيد من الملفات بحسب المستوى الأول والمادة علوم في الفصل الأول

أوراق عمل نهاية الفصل غير مجابة

1

كراسة نهاية الفصل غير مجابة

2

أوراق عمل دعم وإثراء الفرقان نهاية الفصل غير مجابة

3

أوراق عمل نهاية الفصل غير مجابة

4

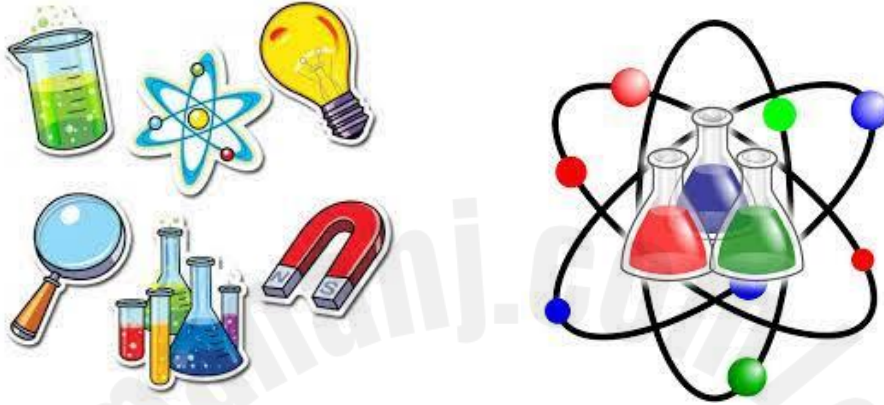
أوراق عمل الأندلس نهاية الفصل مع الإجابة النموذجية

5

قسم العلوم

العام الأكاديمي 2024 / 2025

الفصل الدراسي الأول



أوراق العمل الإثرائية

استعدادًا للتطبيق الثالث

الصف الأول الابتدائي

.....	اسم الطالب
..... / .....	الصف والشعبة



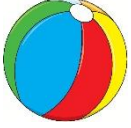
هذه الأسئلة مُساعدة ولا تُغني عن الكتاب المدرسي أو تدريبات الكتاب المدرسي






الاسم: ..... الصف: الاول/ ..... التاريخ: ..... / 11 / 2024

ورقة عمل (3) / العلوم

السؤال الأول : اختر الإجابة الصحيحة

1) ما الشيء الذي يحتاج الى مساعدة كي يتحرك؟	
A	
B	
C	

2) أي مما يلي يحتاج الى محرك كي يتحرك؟	
A	
B	
C	



3) ما نوع المسار في الصورة المجاورة؟

A	منحنٍ	
B	متعرج	
C	مستقيم	

4) ما نوع المسار في الصورة المجاورة؟

A	منحنٍ	
B	متعرج	
C	مستقيم	

5) كيف نصف حركة السيارة في الصورة؟

A	الى الأمام	
B	الى الخلف	
C	الى الأعلى	



السؤال الثاني : ضع اشارة ✓ امام العبارة الصحيحة وإشارة ✗ أمام العبارة الخاطئة.

1 - تتحرك الحقيبة من تلقاء نفسها. ( )

2 - يستخدم المحرك الوقود. ( )

3 - تتحرك جميع الأشياء بمسار متعرج فقط. ( )

4 - تساعد العجلات الأشياء كي تتحرك. ( )

السؤال الثالث : أصل بين كل صورة والكلمة التي تصف ما الذي يجعل ما في الصورة يتحرك:-

الإِنْسَانُ	
الرِّيحُ	
المُحَرِّكُ	



السؤال الرابع : أختَر الكلمة المناسبة لإكمال الجمل التالية :

1- يحتاج المحرك الى ..... ( الوقود , الصابون )

2- تتحرك الأشياء بطرق ..... ( متشابهة , مختلفة )

3- توصف حركة الكرة بانها ..... ( تتلحرج , تنزلق )

• اكتب الكلمات التالية :-

محرك	وقود	ينزلق	يتدحرج