

تم تحميل هذا الملف من موقع المناهج القطرية



أوراق عمل الفرقان نهاية الفصل مع الإجابة النموذجية

موقع المناهج ← المناهج القطرية ← المستوى الأول ← رياضيات ← الفصل الأول ← أوراق عمل ← الملف

تاريخ إضافة الملف على موقع المناهج: 17:25:04 2024-12-11

ملفات اكتب للمعلم اكتب للطالب | اختبارات الكترونية | اختبارات | حلول | عروض بوربوينت | أوراق عمل
منهج انجليزي | ملخصات وتقارير | مذكرات وبنوك | الامتحان النهائي للمدرس

المزيد من مادة
رياضيات:

التواصل الاجتماعي بحسب المستوى الأول



صفحة المناهج
القطرية على
فيسبوك

الرياضيات

اللغة الانجليزية

اللغة العربية

التربية الاسلامية

المواد على تلغرام

المزيد من الملفات بحسب المستوى الأول والمادة رياضيات في الفصل الأول

أوراق عمل اثرائية مع الإجابة النموذجية	1
إجابة بنك أسئلة الوحدة الخامسة	2
إجابة بنك أسئلة الوحدة الرابعة	3
إجابة بنك أسئلة الوحدة الثالثة	4
بنك أسئلة اختبار نهاية الفصل	5

1

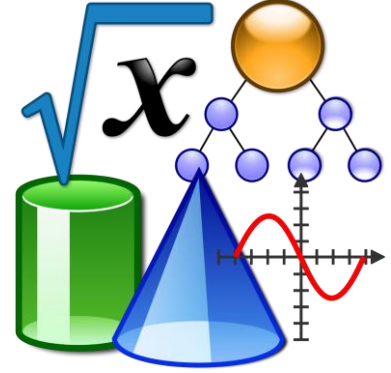
إجابات

الرياضيات

1446 هـ - 24-25 م

نهاية ف 1

تدريبات
دعم
وإثراء



يا رب انصر عبادك المؤمنين
وجنك الموحدين في كل مكان

القدس والأقصى ▼ حتماً ستعود


ملحوظة: هذه التدريبات لا تقني عن الكتاب المدرسي

الاسم / الصف / 1-

التميز

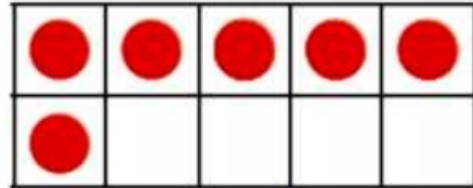


1 : حقائق تتضمن العدد 5 باستعمال لوحة العشرة : اكتب حقائق الجمع تتضمن 5 و 10



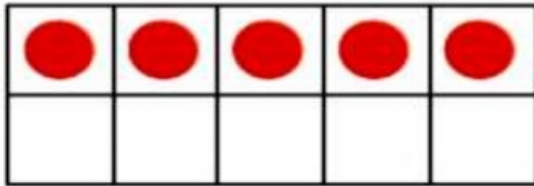
$$5 + 4 = 9$$

$$9 + 1 = 10$$



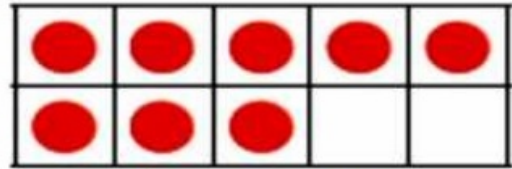
$$5 + 1 = 6$$

$$6 + 4 = 10$$



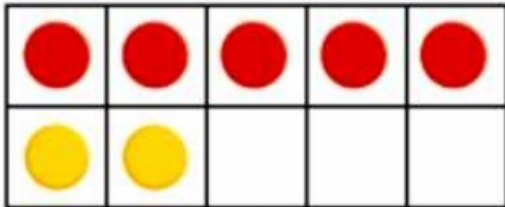
$$5 + 0 = 5$$

$$5 + 5 = 10$$




$$5 + 3 = 8$$

$$8 + 2 = 10$$



$$5 + 2 = 7$$

$$7 + 3 = 10$$



$$5 + 4 = 9$$

$$9 + 1 = 10$$

$$5 + \dots 4 \dots = \dots 9 \dots$$

$$9 + \dots 1 \dots = 10$$

$$5 + \dots 2 \dots = \dots 7 \dots$$

$$7 + \dots 3 \dots = 10$$

$$5 + \dots 3 \dots = \dots 8 \dots$$

$$8 + \dots 2 \dots = 10$$

$$5 + \dots 1 \dots = \dots 6 \dots$$

$$6 + \dots 4 \dots = 10$$

قرأ أحمد 5 كتب وقرأ راشد 3 كتب .
كم كتابًا قرأ الطالبان ؟

ارسم قطع العدد في لوحة العشرة ثم اكتب حقيقة الجمع
لحل المسألة .

5	3	8		
5	3	8		

$$5 + 3 = 8$$

لدى فريق 5 كرات . أحضر المدرب 4 كرات أخرى .
ما عدد الكرات لدى الفريق الآن ؟

ارسم قطع العدد في لوحة العشرة ثم اكتب حقيقة الجمع
لحل المسألة .

5	4	9		
5	4	9		

$$5 + 4 = 9$$

أعدت والدة محمد 10 فطائر . في البداية أعدت 6
فطائر .
ثم أعدت مزيدًا منها .

ارسم قطع العدد في لوحة العشرة ثم اكتب حقيقة الجمع
لحل المسألة .

6	4	10		
6	4	10		

$$6 + 4 = 10$$

لدى الفريق 5 كرات قدم . و أحضر مدرب الفريق
مزيدًا من الكرات .
أصبح لدى الفريق الآن 10 كرات قدم .

ارسم قطع العدد في لوحة العشرة ثم اكتب حقيقة الجمع
لحل المسألة .

5	5	10		
5	5	10		

$$5 + 5 = 10$$

تصدق ماجد يوم الجمعة الماضية بمبلغ 7 ريال . ثم
تصدق في الجمعة الحالية بمزيد من الريالات .

تصدق ماجد في يومي الجمعة بمبلغ 10 ريال .

اكتب حقيقة جمع لحل المسألة .

$$7 + 3 = 10$$

شاهد يوسف 5 طيور على الشجرة . ثم شاهد مزيدًا
منها على الشجرة .

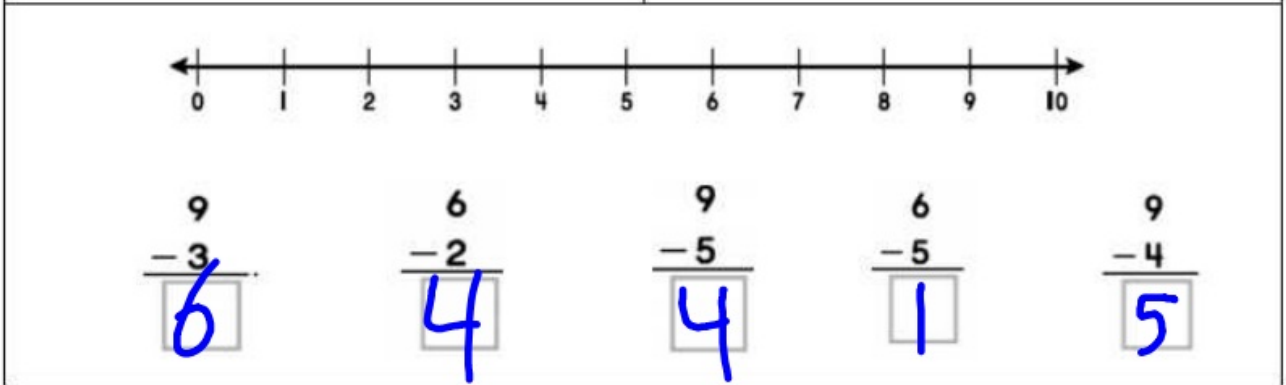
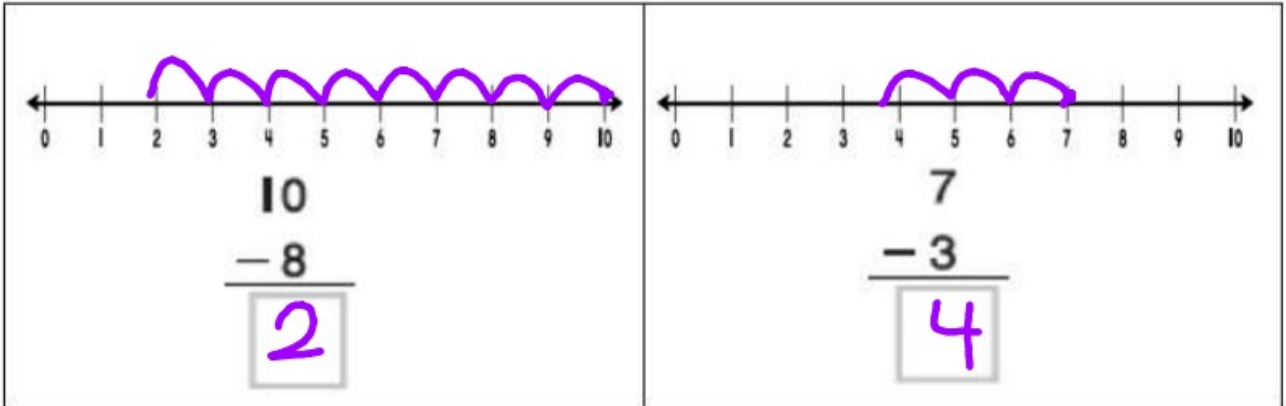
أصبح عدد الطيور التي شاهدها يوسف 10 طيور .

اكتب حقيقة جمع لحل المسألة .

$$5 + 5 = 10$$

2 : الطرح بالعد التنازلي

استخدم خط الأعداد لإيجاد ناتج الطرح



يفكر صادق في عدد ما .
 يقل العدد الذي يفكر فيه بمقدار 3 عن العدد 10 .
 ما العدد الذي يفكر فيه صادق ؟

$$10 - 3 = 7$$

اختار محمد عددًا .
 يقل العدد الذي اختاره بمقدار 4 عن العدد 8 .
 ما العدد الذي اختاره محمد ؟

$$8 - 4 = 4$$

على صينية 8 أكواب .
 سقطت منها 5 أكواب .
 كم كوبًا بقي على الصينية ؟

$$8 - 5 = 3$$

في حصالة يونس 9 ريال .
 تبرع بكل ما في حصالته لأهل فلسطين .
 كم ريالًا بقيت في حصالته ؟

$$9 - 9 = 0$$

3 : الأعداد حتى 20 : أكمل

11	12	13	14	15	16	17	18	19	20
11	12	↓	↓	↓	↓	17	18	19	↓
11	12	↓	↓	↓	↓				
11	12	↓	↓	↓	↓				
11	12								
11									↓
11									
11									

أكمل الأعداد بنفس الترتيب

1	2	3	4	5	6	7	8	9	10
11	12	13	14	15	16	17	18	19	20

5	6	7	8	9	10	11	12	13	14
---	---	---	---	---	----	----	----	----	----

7	8	9	10	11	12	13	14	15	16
---	---	---	----	----	----	----	----	----	----


9	10	11	12	13	14	15	16	17	18
---	----	----	----	----	----	----	----	----	----

10	11	12	13	14	15	16	17	18	19
----	----	----	----	----	----	----	----	----	----

4 : الأعداد حتى 20 : عد و كتب العدد أسفل المجموعة :



15



20



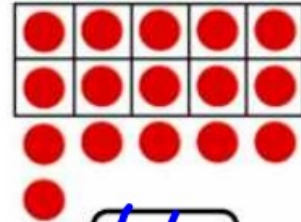
17



14



13




16



19



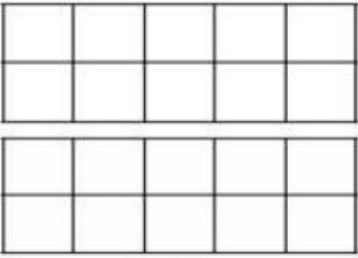
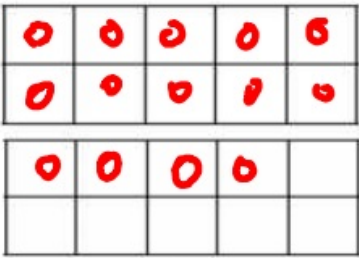
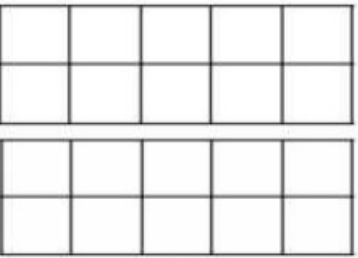
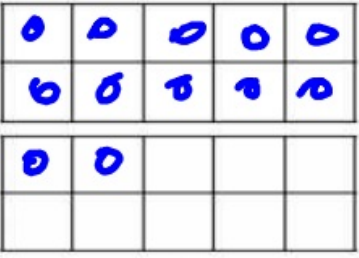
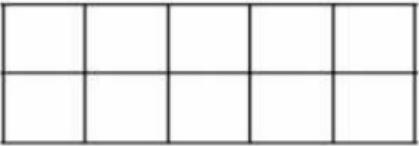
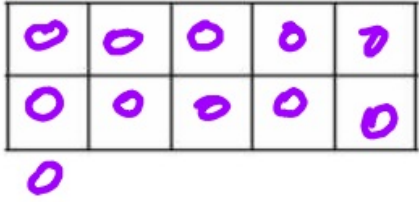

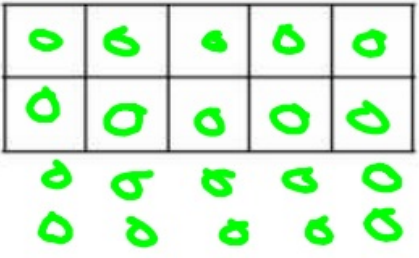

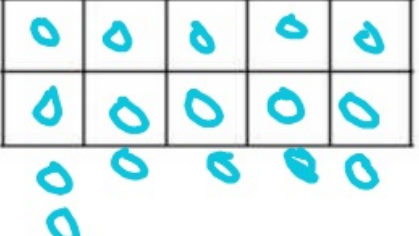
11



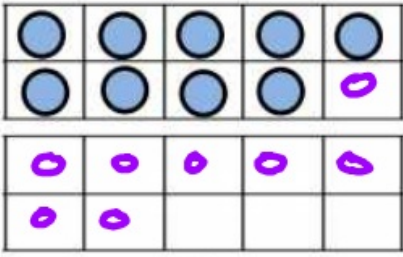
12



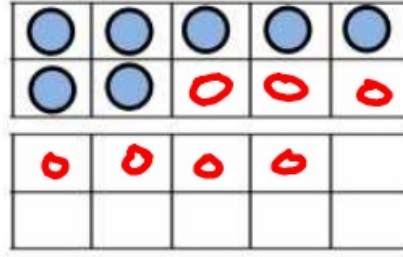
18

 <p style="text-align: center;">17</p>	 <p style="text-align: center;">14</p>
 <p style="text-align: center;">15</p>	 <p style="text-align: center;">12</p>
 <p style="text-align: center;">18</p>	 <p style="text-align: center;">11</p>
 <p style="text-align: center;">19</p>	 <p style="text-align: center;">20</p>
 <p style="text-align: center;">13</p>	 <p style="text-align: center;">16</p>

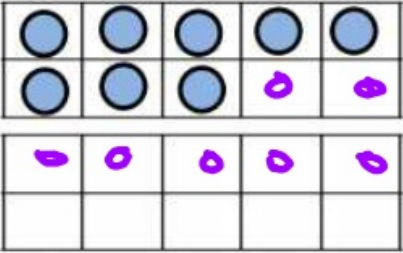
6: الأعداد حتى 20 : ارسـم دوائـر إضافـية لتحصل على العدد :



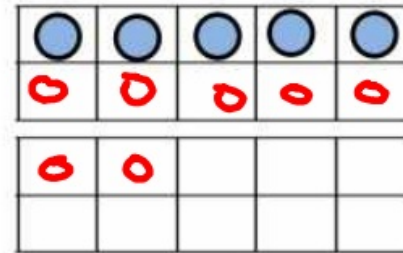
17



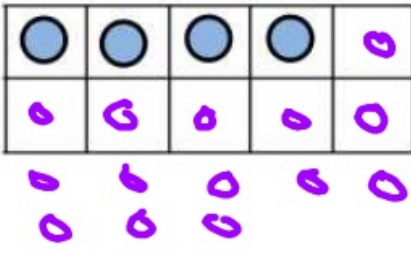
14



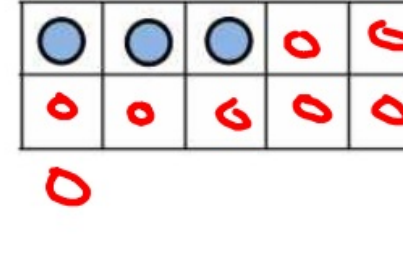
15



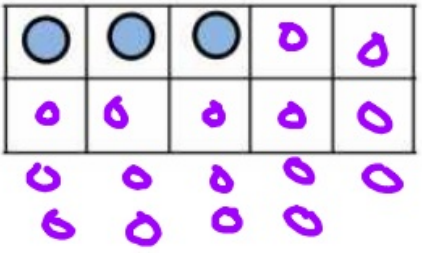
12



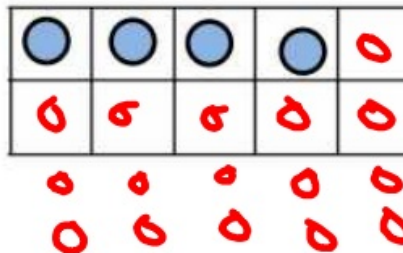
18



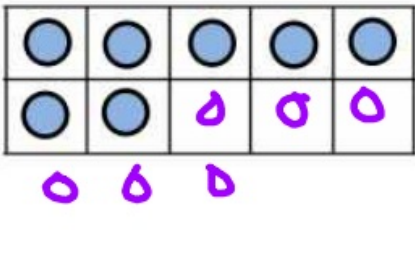
11



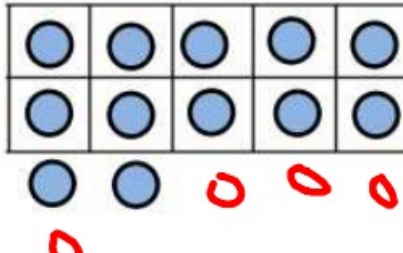
19



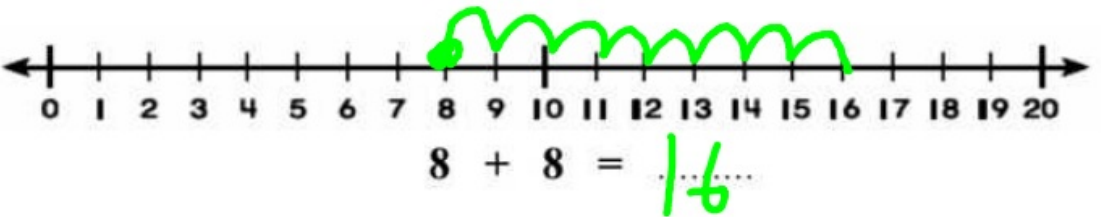
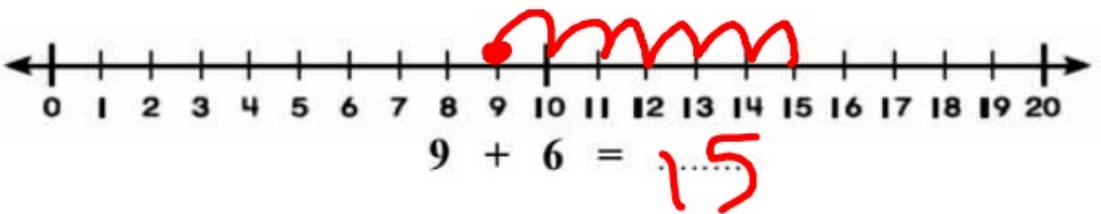
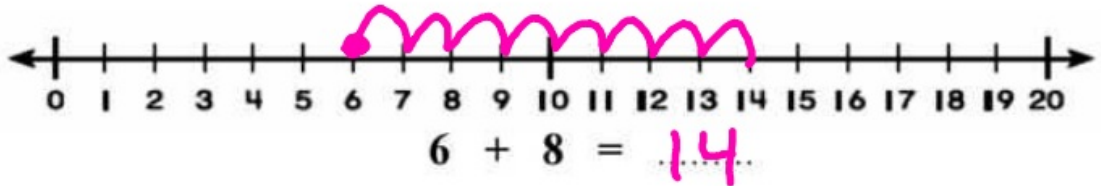
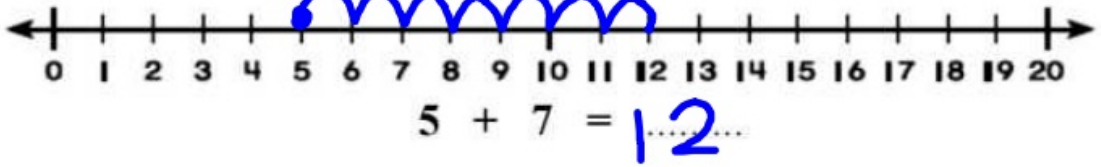
20



13



16



$$7 + 8 = 15$$

$$6 + 5 = 11$$

$$9 + 9 = 18$$

$$7 + 4 = 11$$

$$6 + 8 = 14$$

$$10 + 6 = 16$$

$$5 + 9 = 14$$

$$8 + 9 = 17$$

8 : أوجد ناتج الجمع

$\begin{array}{r} 9 \\ + 5 \\ \hline \end{array}$	$\begin{array}{r} 6 \\ + 7 \\ \hline \end{array}$	$\begin{array}{r} 6 \\ + 3 \\ \hline \end{array}$	$\begin{array}{r} 4 \\ + 7 \\ \hline \end{array}$	$\begin{array}{r} 8 \\ + 9 \\ \hline \end{array}$	$\begin{array}{r} 9 \\ + 4 \\ \hline \end{array}$	$\begin{array}{r} 3 \\ + 7 \\ \hline \end{array}$	$\begin{array}{r} 5 \\ + 7 \\ \hline \end{array}$
14	13	9	11	17	13	10	12

9 : حوِّط حقيقة الضعف ثم أوجد ناتج جملة الجمع .

 $7 + 7 = 14$	ليست حقيقة ضعف	حقيقة ضعف
ليست حقيقة ضعف	حقيقة ضعف	ليست حقيقة ضعف
$10 + 10 = 20$	$7 + 6 = 13$	حقيقة ضعف
ليست حقيقة ضعف	حقيقة ضعف	ليست حقيقة ضعف
$9 + 10 = 19$	$5 + 7 = 12$	حقيقة ضعف
ليست حقيقة ضعف	حقيقة ضعف	ليست حقيقة ضعف
$8 + 8 = 16$	$6 + 6 = 12$	حقيقة ضعف

$\begin{array}{r} 9 \\ + 9 \\ \hline \end{array}$	$\begin{array}{r} 6 \\ + 6 \\ \hline \end{array}$	$\begin{array}{r} 7 \\ + 7 \\ \hline \end{array}$	$\begin{array}{r} 8 \\ + 8 \\ \hline \end{array}$	$\begin{array}{r} 4 \\ + 4 \\ \hline \end{array}$	$\begin{array}{r} 10 \\ + 10 \\ \hline \end{array}$	$\begin{array}{r} 5 \\ + 5 \\ \hline \end{array}$
18	12	14	16	8	20	10

اشترى سعيد 7 قصص . و اشترى أخيه العدد نفسه من القصص .

ما العدد الكلي للقصص التي اشتراها الأخوين ؟

وضح عملك هنا

$$7 + 7 = 14$$

قطف خالد 9 زهور . وقطفت أخته 9 زهور أيضاً .

ما العدد الكلي للزهور التي قطفها ؟

وضح عملك هنا

$$9 + 9 = 18$$

قطف أحمد العدد نفسه من التفاح الأحمر و التفاح الأصفر .

أكتب حقيقة جمع الضعف تمثل عدد التفاح التي يمكن أن يكون قطفها أحمد .

وضح عملك هنا


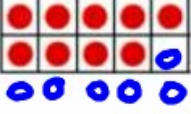
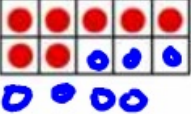
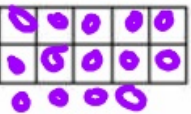
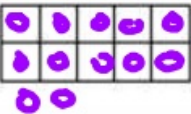
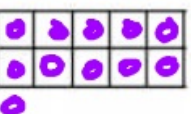
$$4 + 4 = 8$$

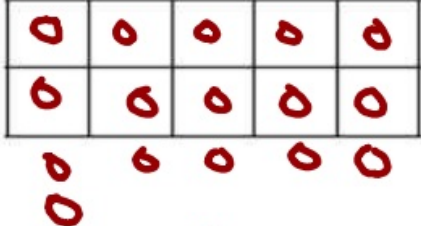

التقط عمر نفس عدد الصور يومي الجمعة و السبت .

أكتب حقيقة جمع الضعف تمثل عدد الصور التي يمكن أن يكون عمر التقطها .

وضح عملك هنا

$$6 + 6 = 12$$

$\begin{array}{r} 5 \\ +6 \\ \hline ? \end{array}$  $\begin{array}{r} 5 \\ +6 \\ \hline 11 \end{array} \quad \text{إذن،} \quad \begin{array}{r} 10 \\ +1 \\ \hline 11 \end{array}$	$\begin{array}{r} 9 \\ +6 \\ \hline ? \end{array}$  $\begin{array}{r} 9 \\ +6 \\ \hline 15 \end{array} \quad \text{إذن،} \quad \begin{array}{r} 10 \\ +5 \\ \hline 15 \end{array}$	$\begin{array}{r} 7 \\ +7 \\ \hline ? \end{array}$  $\begin{array}{r} 7 \\ +7 \\ \hline 14 \end{array} \quad \text{إذن،} \quad \begin{array}{r} 10 \\ +4 \\ \hline 14 \end{array}$
$\begin{array}{r} 5 \\ +9 \\ \hline ? \end{array}$  $\begin{array}{r} 5 \\ +9 \\ \hline 14 \end{array} \quad \text{إذن،} \quad \begin{array}{r} 10 \\ +4 \\ \hline 14 \end{array}$	$\begin{array}{r} 4 \\ +8 \\ \hline ? \end{array}$  $\begin{array}{r} 4 \\ +8 \\ \hline 12 \end{array} \quad \text{إذن،} \quad \begin{array}{r} 10 \\ +2 \\ \hline 12 \end{array}$	$\begin{array}{r} 6 \\ +5 \\ \hline ? \end{array}$  $\begin{array}{r} 6 \\ +5 \\ \hline 11 \end{array} \quad \text{إذن،} \quad \begin{array}{r} 10 \\ +1 \\ \hline 11 \end{array}$

<p>قطف ريم 8 أزهار حمراء ثم قطف 8 أزهار صفراء</p> <p>ما العدد الكلي للأزهار التي قطفها ريم ؟ ارسم قطع العد في جدول العشرة لحل المسألة .</p> <div style="text-align: center;">  <p>..... 16 زهرة</p> </div>	<p>رأى سعيد 7 طيور صفراء على الشجرة . ثم رأى 6 طيور بيضاء على الشجرة .</p> <p>ما العدد الكلي للطيور التي رآها سعيد ؟ ارسم قطع العد في جدول العشرة لحل المسألة .</p> <div style="text-align: center;">  <p>..... 13 طائرًا</p> </div>
---	--

$\begin{array}{r} 7 \\ 3 \\ +3 \\ \hline 13 \end{array}$ <p>7 3 → 10</p>	$\begin{array}{r} 2 \\ 2 \\ +8 \\ \hline 12 \end{array}$ <p>2 2 → 10</p>	$\begin{array}{r} 5 \\ 0 \\ +9 \\ \hline 14 \end{array}$ <p>5 0 → 5</p>
$\begin{array}{r} 3 \\ 7 \\ +7 \\ \hline 17 \end{array}$ <p>3 7 → 10</p>	$\begin{array}{r} 6 \\ 6 \\ +1 \\ \hline 13 \end{array}$ <p>6 6 → 12</p>	$\begin{array}{r} 2 \\ 8 \\ +3 \\ \hline 13 \end{array}$ <p>2 8 → 10</p>
$5 + 5 + \underline{4} = 14$	$6 + \underline{3} + 4 = 13$	$\underline{7} + 1 + 9 = 17$

<p>اشترى محمود 4 أقلام رصاص و 6 أقلام حبر و 5 أقلام تلوين . كم قلمًا اشترى محمود ؟</p> <p>وضح عمالك هنا</p> $4 + 6 + 5 = 15$ <p>10</p>	<p>وضعت سامر 7 كتب على رف المكتبة و 3 كتب على رف آخر . ثم وضع 6 كتب على الرف الأخير . كم كتابًا وضع سامر على الرفوف الثلاثة ؟</p> <p>وضح عمالك هنا</p> $7 + 3 + 6 = 16$ <p>10</p>
--	---