

تم تحميل هذا الملف من موقع المناهج القطرية



*للحصول على أوراق عمل لجميع الصفوف وجميع المواد اضغط هنا

<https://almanahj.com/qa>

* للحصول على أوراق عمل لجميع مواد المستوى الأول اضغط هنا

<https://almanahj.com/qa/1>

* للحصول على جميع أوراق المستوى الأول في مادة علوم ولجميع الفصول, اضغط هنا

<https://almanahj.com/qa/1science>

* للحصول على أوراق عمل لجميع مواد المستوى الأول في مادة علوم الخاصة بـ الفصل الثاني اضغط هنا

<https://almanahj.com/qa/1science2>

* لتحميل كتب جميع المواد في جميع الفصول لد المستوى الأول اضغط هنا

<https://almanahj.com/qa/grade1>

للتحدث إلى بوت المناهج القطرية على تلغرام: اضغط هنا

https://t.me/qacourse_bot



بنك الأسئلة الوحدة السابعة – تمثيل البيانات وتفسيرها

1- اختر الإجابة الصحيحة بوضع دائرة حول رمز الإجابة الصحيحة:

| | | | |
|---|---|--------|--------|
| 1 | أستعمل جدول الإشارات التالي، وأجب عن السؤال التالي: ما عدد الطلاب الذين يفضلون اللون الأخضر؟ | | |
| | الألوان المفضلة | | |
| | الأخضر | الأحمر | الأزرق |
| | | | |
| | 3 | A | |
| | 6 | B | |
| | 7 | C | |












| | | | | | |
|---|--|---|--|--|--|
| 2 | أي مجموعة إشارات عد توضح عدد القبعات في التمثيل بالمصورات؟ | | | | |
| | | | | | |
| | | A | | | |
| | | B | | | |
| | | C | | | |

3-أجب عن كل مما يلي :

طرح خالد سوألا استطلاعيا على أصدقائه

| الفاكهة المفضلة | | |
|--|--|---|
| الكمثرى  | الموز  | التفاح  |
| | | |

A. (أستعمل البيانات التي جمعها لتمثيلها بالمصورات

| الفاكهة المفضلة | | | | | | | | | |
|--|---|---|---|---|--|---|---|---|--|
| الكمثرى  |  |  |  |  |  |  |  |  | |
| الموز  | | | | | | | | | |
| التفاح  | | | | | | | | | |

B) ما الفاكهة الأقل تفضيلا لدى الطلاب؟

.....

C) ما العدد الكلي للطلاب الذين شاركوا في التصويت؟

.....

اختر الإجابة الصحيحة بوضع دائرة حول رمز الإجابة الصحيحة:

4

أستعمل جدول الإشارات التالي، وأجب عن السؤال التالي:
أي نكهة مثلجات حصلت على معظم الأصوات؟

| نكهة المثلجات المفضلة | | |
|---|---|---|
| الفانيليا | الشوكولاتة | الفراولة |
|  |  |  |
| III | III | IIII |

الفراولة

A

الشوكولاتة

B

الفانيليا

C

5

أستعمل التمثيل بالمصورات التالي، وأجب عن السؤال التالي:
أبكم يزيد عدد الأشخاص الذين يفضلون السباحة عن عدد الذين يفضلون ركوب الدرجات؟

| الأنشطة المفضلة في الرحلة | | |
|---|--|---|
|  | | |
|  | |  |
|  |  |  |
|  |  |  |
| السباحة | التيئة | ركوب الدراجة |
|  |  |  |

1

A

4

B

3

C

6- أجب عن الأسئلة مستعملا جدول المصورات التالي.

الأنشطة المفضلة عند طلاب الصف الأول

| | | | | | |
|---|--|--|--|---|---|
| ركوب الدراجة  |  |  |  | | |
|  كرة القدم |  |  |  |  |  |
|  التزلج |  |  | | | |

(A) ما عدد الطلاب الذين يفضلون كرة القدم؟

.....

(B) ما النشاط الأقل تفضيلا لدى الطلاب؟

.....

(C) ما العدد الكلي للطلاب الذين شاركوا في التصويت؟




.....

أستعمل البيانات في جدول الإشارات لإنشاء
تمثيل بالمصوّرات.

الألوان المفضلة

| الأخضر | الأزرق | البنفسجي |
|--------|-----------------|-----------------|
| | | |

الألوان المفضلة

| | | | | | | | | |
|---|--|--|--|--|--|--|--|--|
|  | | | | | | | | |
|  | | | | | | | | |
|  | | | | | | | | |

2- بكم يزيد عدد الطلاب الذين يفضلون اللون البنفسجي عن الذين يفضلون اللون الأحمر؟

.....

3- ما اللون الأكثر تفضيلاً؟

.....